

☆ تعلم كرسا على كراس الاختبارات و الترتيب ☆

2,5 ن

انقل على كراس الاختبارات و اكمل الفراغات:

- ☆ يحتاج النبات الأخضر في _____ إلى _____ تُوقِّعها له التربة.
- ☆ يُؤدِّي _____ أو _____ عنصر _____ إلى ظهور _____ في نمو النبات الأخضر.
- ☆ الآتية المستطرفة تتكون من _____ بعضها البعض، و فيما تكون للماء في فروعها دائما في نفس _____.

3,75 ن

انقل على كراس الاختبارات و اجب عن التعليمات:

الخرائط

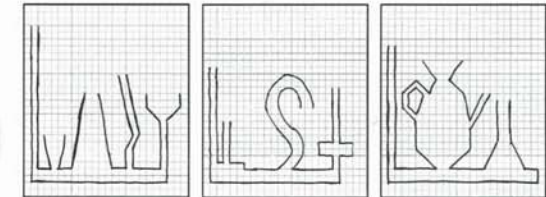


- ☆ يمكن تحديد الجهات الأربع باستخدام الأداة المقابلة في الصورة المقابلة.
- ☆ التعليلات: سم هذه الأداة. اذكر مكوناتها.
- ماذا تعني الرموز: N, S, E, W ؟
- كيف نسمي هذه الجهات؟
- ماذا تعني الرموز: NE, SE, NW, SW ؟
- كيف نسمي هذه الجهات؟

انقل على كراس الاختبارات و ارسم مستوى الماء في الأواني على ورقة العمل:

الخرائط

0,75 ن



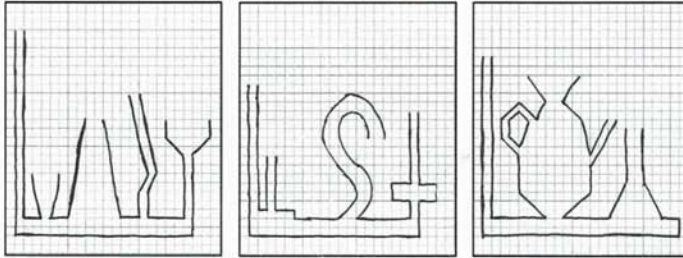
الخرائط

انقل على كراس الاختبارات و رتب مراحل دورة الماء في الطبيعة بوضع الرقم المناسب:

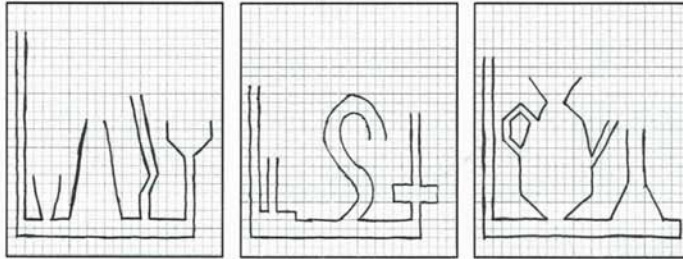
3 ن

- ☆ تساقط الأمطار و الثلوج و البرد.
- ☆ تسرب مياه الأمطار و الثلوج و البرد إلى جوف الأرض.
- ☆ تبخر الماء.
- ☆ تجمع المنابع و تكوين الوديان و الأنهار.
- ☆ تكاثف الماء في الجو و تكوين السحب.
- ☆ صب الوديان و الأنهار في البحر.

ورقة العمل



ورقة العمل



ورقة العمل

