

اختبار الفصل الثاني في مادة التربية العلمية**النشاط الأول: اكمل بـ: (2ن)**

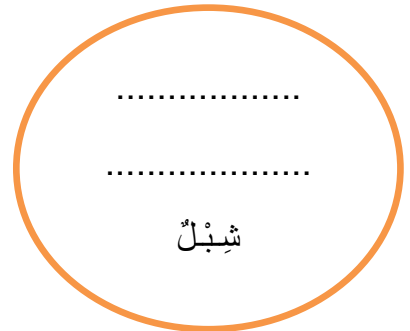


(الوسط - الماء - جذوره - الأخضر)

يَمْتَصُّ النَّبَاتُ مِنْ الَّذِي
يَعِيشُ فِيهِ بِوَسِطَةِ ثُمَّ يُوزَعُهُ إِلَى كُلِّ أَجْزَائِهِ.**النشاط الثاني: املأ الجدول بكتابة الحيوانات المناسبة. (1.5ن)**

حَيَوَانَاتٌ تَقْتَرِسُ	حَيَوَانَاتٌ تَعْتَشِبُ
.....
.....
.....

النشاط الثالث: اجمع أفراد العائلة الواحدة داخل حيز واحد. (2ن)

(حصان - صوص - أسد - فرس - لبؤة - ديك - دجاجة - شبل - مهر.)



النشاط الرابع: اربط بين شطري الجملة حتى يكتمل المعنى. (2.5ن)

- عدد فصول السنة
- عدد أشهر السنة
- عدد أيام الشهر
- الأحداث المتزامنة
- الأحداث المتعاقبة
- أحداث تقع في نفس الوقت
- أزمنة متتابة
- ثلاثون يوماً
- اثنا عشر شهراً
- أربعة

الوضعية الإدماجية: (2ن)

لاحظ الرزنامة ثم أجب:

* يوافق 14 مارس يوم

* يوافق عيد المرأة 8 مارس يوم

* تذهب مایا يوم 25 مارس في رحلة وتعود في اليوم المقبل. أكتب تاريخ عودتها.

تعود يوم:

مَارِس 2022						
السبت	الأحد	الاثنين	الثلاثاء	الأربعاء	الخميس	الجمعة
			1	2	3	4
5	6	7	8	9	10	11
12	13	14	15	16	17	18
19	20	21	22	23	24	25
26	27	28	29	30	31	