
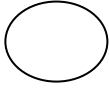



### اختبار الفصل الثالث في التربية العلمية

#### السؤال الأول :

- ألاحظ الرسومات التالية وأكتب أسماءها ثم أرتبها حسب الطول :



#### السؤال الثاني:

صنف الأغذية حسب مصادرها بوضع X في الخانة المناسبة :

الغذاء	حيواني	نباتي
الفواكه والخضر		
الحليب ومشتقاته		
العجائن		
اللحوم والسمك		
البيض		

السؤال الثالث: أضع (ص) أمام الإجابة الصحيحة و(خ) أمام الخاطئة .

الأسد حيوان بيوض ( ) وهو من الحيوانات المتوحشة ( ) .

أقضي معظم أوقاتي في اللعب ( ) ولا أراجع دروسي ( ) .

لا أتكلم أثناء الشرح ( ) وأنجز واجباتي يوميا ( ) .

يتحول الثلج الى ماء عند وضعه في الثلاجة ( )

حولنا توجد اجسام سائلة وأخرى صلبة ( )