

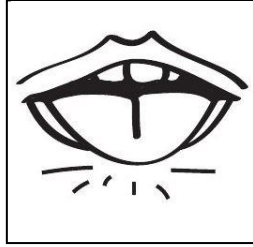
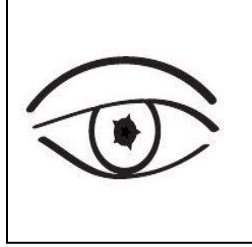



اختبار الفصل الثاني في مادة التربية العلمية

التمرين الأول : أربط بين كل عضو وحاسته



الرؤية




اللمس

الشم

السمع

الدوق

التمرين الثاني: أكتب نوع مصدر الغذاء. حيواني - نباتي



.....

.....

.....

.....

.....

التمرين الثالث: أضع علامة (X) أمام العبارة الخاطئة وعلامة (✓) أمام العبارة الصحيحة .

يتحول الجليد بفعل الحرارة إلى ماء .

عيد الأضحى حدث لا يتكرر .

ينبض قلبي باستمرار من غير توقف .