

الوضعية الأولى 10 نقاط

لوالد أمير مبلغ من المال قدره 3500 دج خبأه لغرض تسديد فاتورة الكهرباء للثلاثي الثالث (90 يوم)، حيث تستعمل عائلته الأجهزة الكهربائية المبينة في الجدول التالي :



الطاقة kWh	الزمن (في اليوم)	إستطاعة الجهاز	الجهاز
.....	5سا	0.3 kW	تلفاز
.....	5سا	100W للواحد	8 مصابيح
2	2000W	فرن كهربائي
3	2سا	غسالة

① أكمل الجدول. (الحسابات)

② هل المبلغ الذي اذخره الوالد كاف لتسديد الفاتورة علما أن ثمن kWh هو 4 دج؟ علل

③ اقترح نصائح أخرى حتى يكون الاستهلاك عقلاني.



الوضعية الثانية: 10 نقاط

في حصة العلوم الفيزيائية طلب منك الأستاذ تشغيل مصباح بواسطة تدفق الماء فقدم لك الوسائل الموضحة في الوثيقة المقابلة:



① أ- ما الفعل المراد الوصول اليه؟

ب- أذكر الجمل التي تساهم في الوصول إلى الفعل النهائي والتي موجودة في الوثيقة؟

② أ- اشرح مبدأ عمل هذه التقنية؟

③ شكل السلسلة الوظيفية والطاقوية لهذه التركيبة؟

④ أرسم مخطط التحويل المفيد والغير مفيد؟



التنقيط	عناصر الاجابة																												
02	<p style="text-align: right;">الوضعية الأولى 10 نقاط</p> <p style="text-align: right;">(1)</p> <table border="1" style="width: 100%; text-align: center;"> <thead> <tr> <th>الطاقة kWh</th> <th>الزمن (في اليوم)</th> <th>إستطاعة الجهاز</th> <th>الجهاز</th> </tr> </thead> <tbody> <tr> <td>1.5 kwh</td> <td>5سا</td> <td>0.3 kW</td> <td>تلفاز</td> </tr> <tr> <td>4 kwh</td> <td>5سا</td> <td>100W للواحد</td> <td>8 مصابيح</td> </tr> <tr> <td>2</td> <td>1سا</td> <td>2000W</td> <td>فرن كهربائي</td> </tr> <tr> <td>3</td> <td>2سا</td> <td>1.5kw = 1500w</td> <td>غسالة</td> </tr> </tbody> </table> <p style="text-align: right;">الحسابات:</p> <table border="1" style="width: 100%; text-align: center;"> <thead> <tr> <th>الغسالة</th> <th>الفرن</th> <th>المصابيح</th> <th>التلفاز</th> </tr> </thead> <tbody> <tr> <td> <u>استطاعة الغسالة:</u> $P = E / T$ $P = 3 \text{ kWh} / 2\text{h}$ $P = 1.5 \text{ KW} = 1500\text{w}$ </td> <td> $P = 2000\text{w} = 2\text{kw}$ <u>الزمن:</u> $T = E / P$ $T = 2\text{kwh} / 2\text{kw}$ $T = 1\text{h}$ </td> <td> <u>استطاعة مصباح واحد</u> $P = 100\text{w} = 0.1\text{kw}$ <u>استطاعة 8 مصابيح</u> $P = 0.1 \text{ kW} \times 8 = 0.8\text{kw}$ <u>مقدار الطاقة ب kWh</u> $E = P \times t$ $E = 0.8 \text{ kW} \times 5\text{h}$ $E = 4 \text{ kWh}$ </td> <td> <u>مقدار الطاقة ب kWh</u> $E = P \times t$ $E = 0.3 \text{ kW} \times 5\text{h}$ $E = 1.5\text{kwh}$ </td> </tr> </tbody> </table>	الطاقة kWh	الزمن (في اليوم)	إستطاعة الجهاز	الجهاز	1.5 kwh	5سا	0.3 kW	تلفاز	4 kwh	5سا	100W للواحد	8 مصابيح	2	1سا	2000W	فرن كهربائي	3	2سا	1.5kw = 1500w	غسالة	الغسالة	الفرن	المصابيح	التلفاز	<u>استطاعة الغسالة:</u> $P = E / T$ $P = 3 \text{ kWh} / 2\text{h}$ $P = 1.5 \text{ KW} = 1500\text{w}$	$P = 2000\text{w} = 2\text{kw}$ <u>الزمن:</u> $T = E / P$ $T = 2\text{kwh} / 2\text{kw}$ $T = 1\text{h}$	<u>استطاعة مصباح واحد</u> $P = 100\text{w} = 0.1\text{kw}$ <u>استطاعة 8 مصابيح</u> $P = 0.1 \text{ kW} \times 8 = 0.8\text{kw}$ <u>مقدار الطاقة ب kWh</u> $E = P \times t$ $E = 0.8 \text{ kW} \times 5\text{h}$ $E = 4 \text{ kWh}$	<u>مقدار الطاقة ب kWh</u> $E = P \times t$ $E = 0.3 \text{ kW} \times 5\text{h}$ $E = 1.5\text{kwh}$
الطاقة kWh	الزمن (في اليوم)	إستطاعة الجهاز	الجهاز																										
1.5 kwh	5سا	0.3 kW	تلفاز																										
4 kwh	5سا	100W للواحد	8 مصابيح																										
2	1سا	2000W	فرن كهربائي																										
3	2سا	1.5kw = 1500w	غسالة																										
الغسالة	الفرن	المصابيح	التلفاز																										
<u>استطاعة الغسالة:</u> $P = E / T$ $P = 3 \text{ kWh} / 2\text{h}$ $P = 1.5 \text{ KW} = 1500\text{w}$	$P = 2000\text{w} = 2\text{kw}$ <u>الزمن:</u> $T = E / P$ $T = 2\text{kwh} / 2\text{kw}$ $T = 1\text{h}$	<u>استطاعة مصباح واحد</u> $P = 100\text{w} = 0.1\text{kw}$ <u>استطاعة 8 مصابيح</u> $P = 0.1 \text{ kW} \times 8 = 0.8\text{kw}$ <u>مقدار الطاقة ب kWh</u> $E = P \times t$ $E = 0.8 \text{ kW} \times 5\text{h}$ $E = 4 \text{ kWh}$	<u>مقدار الطاقة ب kWh</u> $E = P \times t$ $E = 0.3 \text{ kW} \times 5\text{h}$ $E = 1.5\text{kwh}$																										
04	<p>2/ المبلغ الذي ادخره الوالد 3500da غير كاف.</p> <p><u>التعليل:</u> الطاقة المستهلكة في اليوم:</p> $E = 1.5\text{kwh} + 4\text{kwh} + 2\text{kwh} + 3\text{kwh} = 10.5\text{kwh}$ <p><u>الطاقة المستهلكة خلال ثلاثي (90 يوم):</u></p> $E = 10.5\text{kwh} \times 90 = 945\text{Kwh}$ <p>التكلفة: $945\text{kwh} \times 4 \text{ da} = 3780 \text{ da}$</p> <p>نستج أن التكلفة أكبر من المبلغ الذي ادخره $3780 \text{ da} > 3500 \text{ da}$ أي غير كافية (يلزمه 280da)</p>																												
1.5	<p style="text-align: right;">3/ نصائح:</p> <ul style="list-style-type: none"> • الاستعمال العقلاني للأجهزة الكهربائية • استعمال المصابيح الاقتصادية. • الاهتمام بالطاقات المتجددة. 																												
01																													
1.5																													

الوضعية الثانية: 10 نقاط

01



1/ الفعل المراد الوصول اليه: تشغيل مصباح.
ب- الجمل المساهمة في الوصول إل الفعل النهائي:

- ماء - عنفة - بكرة - دينامو - مصباح

2.5

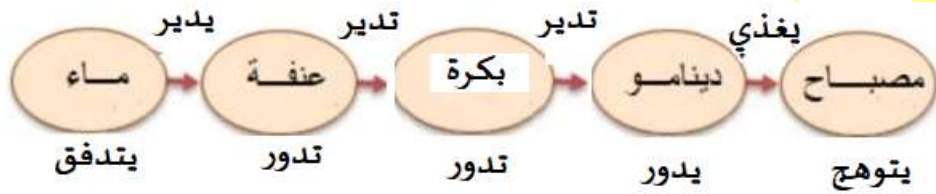
2/ شرح التقنية:

عندما يتدفق الماء تدور العنفة التي تدير البكرة فتدور،

هذه الأخيرة تدير الدينامو فيدور الذي بدوره يغذي المصباح فيتوهج.

1.5

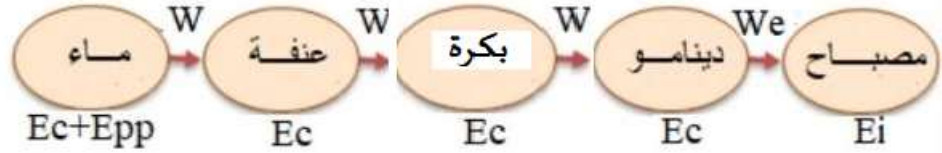
3 / السلسلة الوظيفية:



1.5

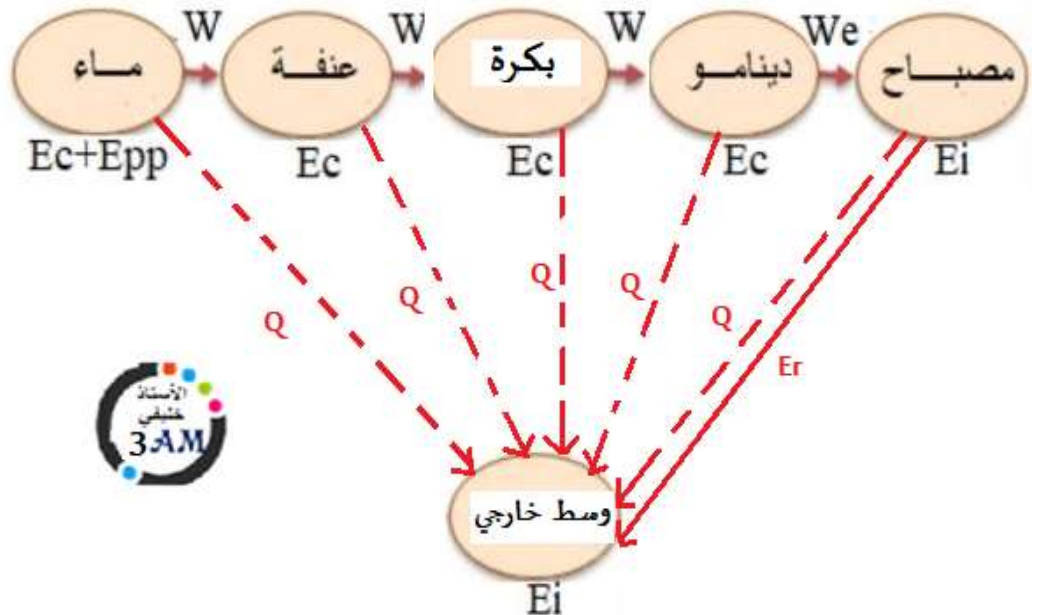


السلسلة الطاقوية:



1.5

4) مخطط التحويل المفيد والغير مفيد:



02

