


الوضعية الأولى:

تبين الصورة محمد يراقب أصدقائه وهم يركبون لعبة الافعوانية في مدينة الألعاب.



1. ماهو الشرط الضروري لوصف الحالة الحركية لجسم ما؟

2. أكمل الجدول بعبارة متحرك أو ساكن.

بالنسبة	محمد	هشام	عبد العزيز
محمد			
هشام			
عبد العزيز			

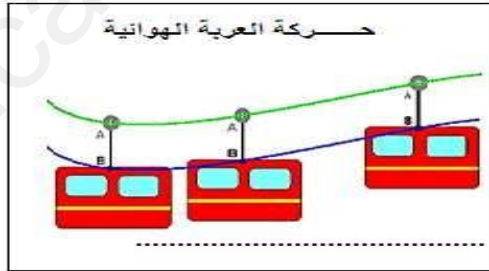
3. لماذا نقول أن هشام ساكن بالنسبة للعبة الافعوانية؟

4. هل نحكم دوما على الجسم المنتقل حكما مطلق انه متحرك؟ علل؟

5. اذكر مثال من الجدول عن نسبية الحركة؟

الوضعية الثانية :

في عطلة الربيع وبمناسبة تفوق أسامة في دراسته أخذه والده إلى حديقة الألعاب والتسلية رفقة أخاه احمد حيث لاحظا الحركات المختلفة الموضحة في الوثيقة 1 .



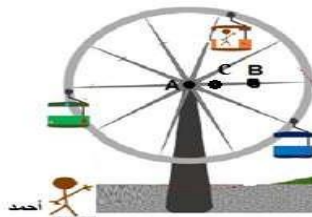
الوثيقة 1

1) حدد حركة الأجسام المبينة في الوثيقة 1؟

➤ حين وصولهما إلى لعبة العجلة الكبيرة ركبها أسامة بينما احمد خاف من ركوبها وبعد دورانها التقط

لهما والدهما صورة تذكارية فكانت كالتالي:

➤ باعتبار احمد مرجع.



2) - ماهو شكل المسار التي ترسمه المواضع المتتالية للنقطة B ؟

مانوع حركتها؟

3) ماهو شكل المسار التي ترسمه المواضع المتتالية للنقطة C ؟

مانوع حركتها؟

4) مانوع حركة العجلة الكبيرة؟