

*التمرين الأول:

اكتب بالحروف أو بالأرقام مايلي :

96003 ←

..... ← أربعة وثلاثون ألفاً وإحدى عشر.

*التمرين الثاني:

انجز العمليات الآتية عمودياً:

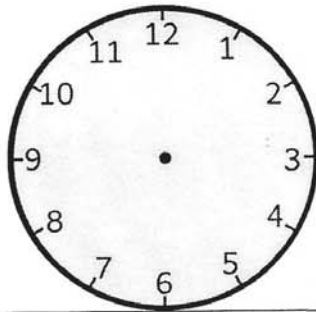
$$\begin{array}{r} 136 \\ \times 5 \\ \hline \end{array}$$

$$\begin{array}{r} 408 \\ \times 3 \\ \hline \end{array}$$

$$\begin{array}{r} 392 \\ \times 7 \\ \hline \end{array}$$

*التمرين الثالث:

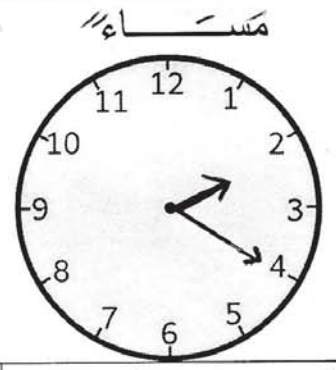
اكمل النفاص:



7h :35 min



.....h :.....min



.....h :.....min

.....min ← 1 ساعة
.....min ← ساعة ورُبْع

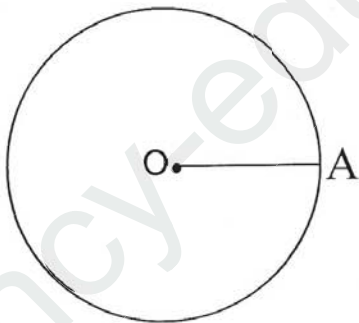
*التمرين الرابع:

لاحظ الشكل جيداً ثم أجب :

..... ماذا يمثّل الشكل ؟

..... ماذا تمثّل النقطة O؟

..... ماذا تمثّل القطعة [OA]؟



*الوضعية الإدماجية:

يملك فلاح 10 صفوف من أشجار البرتقال في كل صف 54 شجرة ، و 20 صفاً من أشجار التفاح في كل صف 13 شجرة .

- ماهو عدد أشجار البرتقال ؟

- ماهو عدد أشجار التفاح ؟

- تعرّضت 180 شجرة للتلف .

- كم بقي للفلاح من شجرة ؟