

الاسم واللقب: .....

مدرسة: .....

السنة الثانية ابتدائي

السنة الدراسية: 2022-2023

## اختبار الفصل الثالث في مادة الرياضيات

أَكْمِلِ الْجَدْوَلَ الْآتِي حَسَبَ الْمَطْلُوبِ:

التمرين 01: (2ن)

العدد	كتابته بالحروف	حصره بين عشرين متتاليتين	حصره بين مئتين متتاليتين	عدد عشراته
836	.....	.....<836<.....	.....<836<.....	.....
.....	خمسة وسبعة وعشرون	.....<.....<.....	.....<.....<.....	.....



الأستاذ بكوش جعفر

التمرين 02: (2ن)

أَحْسِبْ مَا يَلِي:

$$\begin{array}{r} 138 \\ + 675 \\ \hline = . . . \end{array}$$

$$\begin{array}{r} 765 \\ - 408 \\ \hline = . . . \end{array}$$

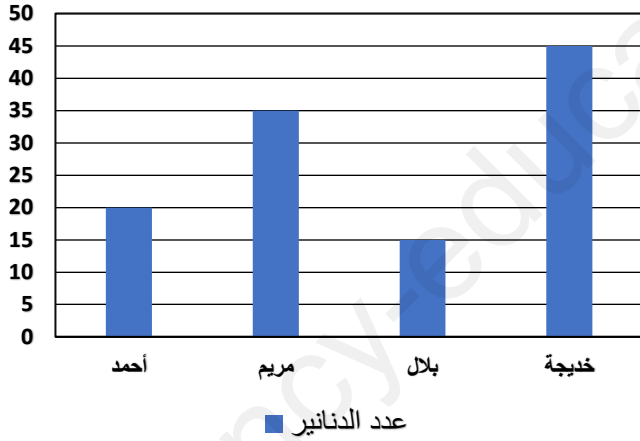
$$\begin{array}{r} 251 \\ + 289 \\ \hline = . . . \end{array}$$

$$\begin{array}{r} 995 \\ - 578 \\ \hline = . . . \end{array}$$

يُبَيِّنُ هَذَا الْبَيَانُ عَدَدَ الدَّنَائِرِ الَّتِي يَمْلِكُهَا الْإِخْوَةُ الْأَرْبَعَةُ

التمرين 03: (2ن)

عدد الدنانير



1. مَا هُوَ عَدَدُ الدَّنَائِرِ عِنْدَ مَرْيَمَ؟

.....

2. مَنْ لَهُ أَقَلُّ عَدَدٍ مِنَ الدَّنَائِرِ؟

.....

3. مَنْ لَهُ أَكْبَرُ عَدَدٍ مِنَ الدَّنَائِرِ؟

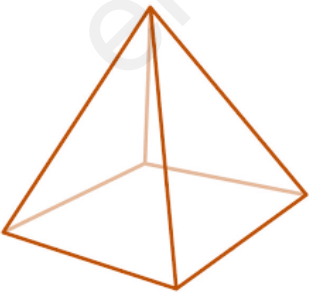
.....

4. أَحْسِبْ عَدَدَ الدَّنَائِرِ الَّتِي يَمْلِكُهَا الْإِخْوَةُ

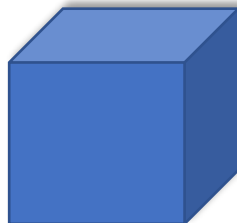
.....

لَا حِظَّ الْمَجَسَّمَاتِ الْآتِيَةِ جَيِّدًا ثُمَّ سَمِّهَا:

التمرين 04: (2ن)



.....



.....



.....

## الوضعية الإدماجية: (2ن)

اشترى الأب لعبة لسعاد ثمنها 350 دينارا ولعبة لأخيها رضا ثمنها 460 دينارا.

كما اشترى لهما 7 كرتيات ثمن الكرتية الواحدة 25 دينارا.



1. أحسب ثمن شراء اللعبتين.

2. أحسب ثمن شراء الكرتيات.

الحل

الأجوبة

العمليات

توكل على الله... ثم ركز جيدا يا صغيري في إجابتك حتى تتفوق.

أتمنى لك إجابة مسددة....

مع تمنياتي للجميع كل التفوق والتميز



الأستاذ بكوش جعفر

