

العلامة

الموسم الدراسي: 2023/2022

المستوى: الثانية ابتدائي (...) إختبار الفصل الثاني : الرياضيات

اللقب: الاسم:

النشاط الأول: أنجز العمليات التالية:

$$\begin{array}{r} 582 \\ + 216 \\ \hline = \dots \end{array}$$

$$\begin{array}{r} 358 \\ + 124 \\ \hline = \dots \end{array}$$

$$\begin{array}{r} 658 \\ - 543 \\ \hline = \dots \end{array}$$

النشاط الثاني: أكمل الجدول

التفكيك	العدد	الكتابة بالحروف
$347 = \dots + \dots + \dots$	347
$953 = \dots + \dots + \dots$	953
$528 = \dots + \dots + \dots$	528

النشاط الثالث: قارن العددين بوضع العلامة المناسبة: (< , >).

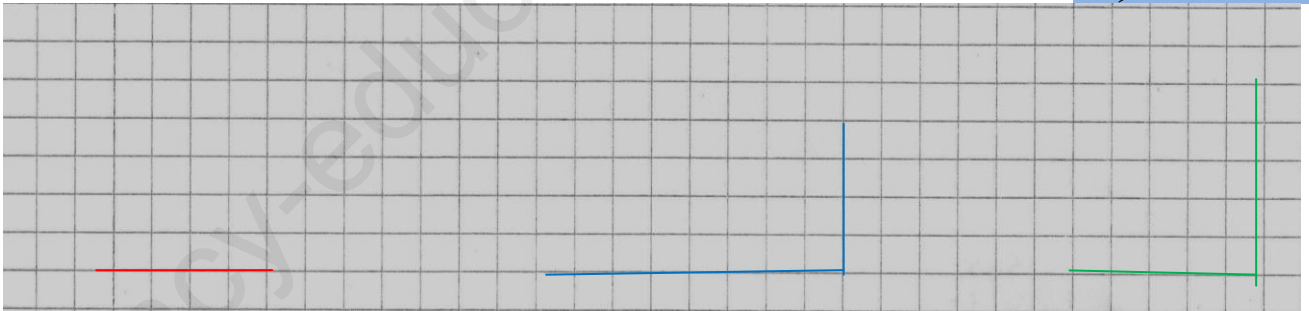
101 99

548 567

273 275

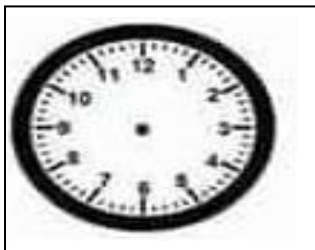
889 911

النشاط الرابع: المربع الأخضر ، المستطيل الأزرق ، المثلث القائم الأحمر.



- لوّن الزوايا القائمة في كل شكلٍ .

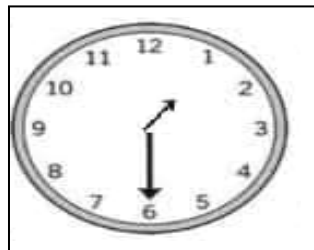
النشاط الخامس: لاحظ الساعة و أكمل:




16 : 00



5:30



.....





.....

أرسم عقربي الساعة

أكتب التوقيت بالأرقام

الوضعية الإدماجية :

ذهب سمير مع أبيه إلى المحلات الكبرى ، فزاراً جناح الألعاب ، فوجداً جدولاً فيه قائمة اللعب و ثمن كل لعبة .

اللعبة	365 ديناراً	215 ديناراً	330 ديناراً	785 ديناراً
				

- اشترى سمير كرة وسيارة . لاحظ الجدول وأكمل :

- 1 - ثمن السيارة هو ديناراً
- 2 - ثمن الكرة هو ديناراً
- 3 - ثمن الكرة والسيارة معاً هو ديناراً

.....
...
.....
.....
=

بالتوفيق يا ابنائي

الْوَضْعِيَّةُ الْإِدْمَاجِيَّةُ :

- تَمَلِكُ سَلْمَى 95 دِينَارًا ، إِشْتَرَتْ كُرَّاسًا بِـ 32 دِينَارًا وَ مِقْلَمَةً بِـ 40 دِينَارًا .
- مَا هُوَ ثَمَنُ الْأَدَوَاتِ الْمَدْرَسِيَّةِ ؟
- كَمْ أَرْجَعُ لَهَا الْبَائِعُ ؟

<u>الْجَوَابُ</u>	<u>الْحَلُّ</u>	<u>الْعَمَلِيَّاتُ</u>
..... =
- ثَمَنُ الْأَدَوَاتِ الْمَدْرَسِيَّةِ هُوَ دِينَارًا		=
..... =
- يُرْجَعُ لَهَا الْبَائِعُ دِينَارًا		=

بالتوفيق يا أبنائي