

اللقب:

الإسم:

التّمرين الأول: أنجز العمليّات الآتية عمودياً.

$$43+24=...$$

$$23+16=...$$

$$28+41=...$$

$$35+32=...$$

$$\begin{array}{r} . \\ . \\ + . \\ \hline = \end{array}$$

$$\begin{array}{r} . \\ . \\ + . \\ \hline = \end{array}$$

$$\begin{array}{r} . \\ . \\ + . \\ \hline = \end{array}$$

$$\begin{array}{r} . \\ . \\ + . \\ \hline = \end{array}$$

التّمرين الثاني: قس بالمسطرة طول كل قطعة .

..... سنتيمترا

..... سنتيمترا


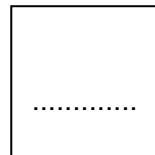
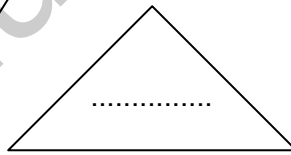
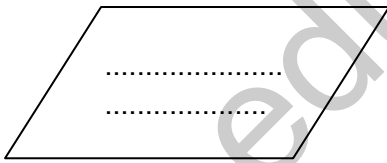
..... سنتيمترا

..... سنتيمترا

التّمرين الثالث: املأ الجدول الآتي كما في المثال .

| | | | | | |
|-------|-------|-------|-------|----|-------|
| | | | | 20 | ضعفه |
| 14 | 8 | 30 | 18 | 10 | العدد |
| | | | | 5 | نصفه |

التّمرين الرابع: اكتب اسم كل مضع .



الوضعية الإدماجية: عند أمين 15 ديناراً ، أعطى له أبوه 21 ديناراً و زادت له أمه 13 ديناراً .

أحسب كم ديناراً أصبح عند

أمين ؟

أصبح عند أمين : ديناراً

= _____