

**التمرين الأول :** أكمل العمليّات التّاليّة :

$3 + 4 = \dots\dots\dots$

$7 + 2 = \dots\dots\dots$

$10 - 0 = \dots\dots\dots$

$4 - 1 = \dots\dots\dots$

**التمرين الثاني :** أكمل الشريط العدديّ

0	.....	.....	.....	.....	.....	.....	8	.....	.....
---	-------	-------	-------	-------	-------	-------	---	-------	-------

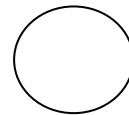
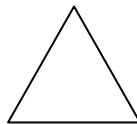

**التمرين الثالث :** أكتب الأعداد بالحُرُوف

5 ← .....

10 ← .....

15 ← .....

20 ← .....

**التمرين الرابع :** لون بالأحمر المثلث ، وبالأخضر المربع ، وبالأصفر الدائرة**الوضعية الإدماجية :**

تملك مريم 10 كريات ، زادتّها أختها 4 كريات .

كم أصبحت تملك مريم ؟

تملك مريم ..... كريات