

ابتدائية مصطفى بن بولعيد (دبيديبي - الحجيرة - ورقلة)
الموسم الدراسي (2016/2015) المدة 90

الصف : الثانية ابتدائي



الاسم واللقب:

10

اختبار الفصل الثالث في الرياضيات

التمرين الأول : أكمل الشريطين التاليين

100	200						800
-----	-----	--	--	--	--	--	-----

500	550		650			800		
-----	-----	--	-----	--	--	-----	--	--

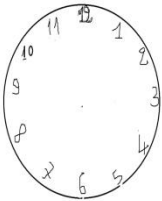
التمرين الثاني: حول الى مجموع /حول الى جداء

فكك كل عدد حسب المجموع	ركب العدد حسب كل وضعية
$6+6+6=.$ \times .	$3 \times 3 = . + . + .$
$5+5=.$ \times . = .	$10 \times 3 = . + . + . = .$

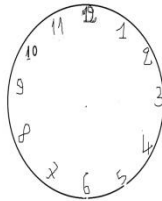
التمرين الثالث: انجز عمليات الطرح التالية

$\begin{array}{r} 250 \\ - 100 \\ \hline \end{array}$	$\begin{array}{r} 958 \\ - 48 \\ \hline \end{array}$	$\begin{array}{r} 456 \\ - 326 \\ \hline \end{array}$	$\begin{array}{r} 215 \\ - 311 \\ \hline \end{array}$
---	--	---	---

التمرين الرابع : لاحظ الساعة وحدد الزمن ثم لاحظ الزمن وارسم العقربين



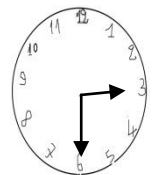
10 : 00



05 : 20



..... :



..... :

التمرين الخامس:

غرس فلاح 406 شجرة تفاح و121 شجرة برتقال

كم شجرة غرس الفلاح ؟

لما هبت الرياح تكسرت 25 شجرة

كم شجرة بقيت عنده؟

الجواب

الحل

العمليات

.....=.....

غرس الفلاح شجرة

.....=.....

بقيت عنده شجرة