
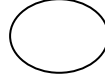
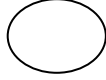
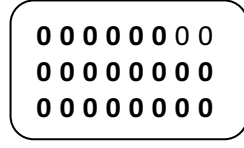
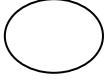



التَّمرينُ الأوَّلُ: أكْمِلْالتَّمرينُ الثَّاني: رَتِّبْ تصاعديًّا

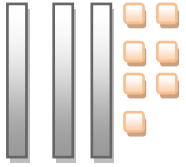
10 ، 2 ، 5 ، 6 ، 12 ، 8

..... ، ، ، ، ،

التَّمرينُ الثَّالثُ: أكْمِلِ الشَّرِيْطَ

16

.....

التَّمرينُ الرَّابِعُ: أكْمِلْ مَا يَلِي:

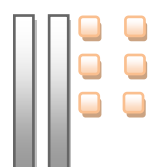
ع	و



ع	و



ع	و



ع	و

التَّمرينُ الخامس: أحسب

$36 + 1 = \dots\dots\dots$

$20 + 7 = \dots\dots\dots$

$10 + 8 = \dots\dots\dots$

$5 + 5 = \dots\dots\dots$

التَّمرينُ السادس: رتِّبْ : 4 - 3 - 2 - 1

