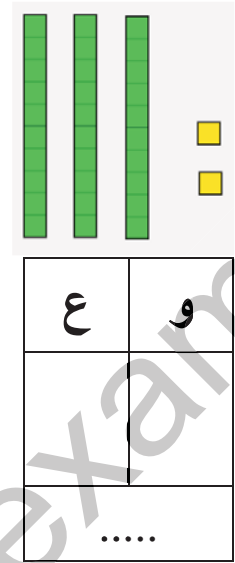
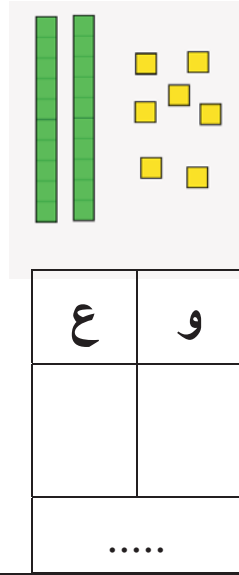
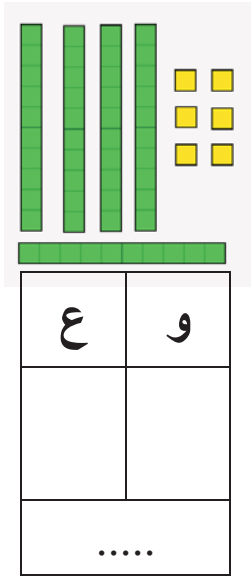


التمرين 1 اكتب العدد الذي تمثله البطاقات في الجدول



التمرين 2: احسب مايلي

$10 + \dots = 16$

$20 + \dots = 29$

$20 + 8 = \dots$

$23 + 43 = \dots$

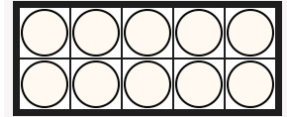


$10 - 2 = \dots$

$15 - 5 = \dots$

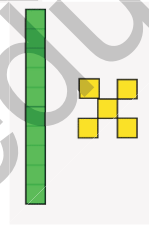
$20 - 10 = \dots$

$37 - 7 = \dots$

التمرين 3 : لَوْنُ نِصْفِ عِدَدِ الْكُرِّيَّاتِ

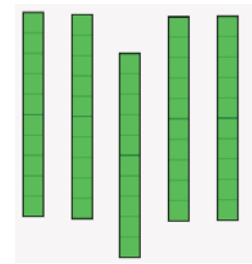


هو:



ضعف 15

هو:



نصف 50

اختر لبطاقة المناسبة وأكمل الحساب

التمرين 4:

في القفص 18 عصفورا ، فتح أحمد
القفص فطار 8 عصفير
كم عصفورا بقي في القفص؟

$18 - 8 = \dots$

$18 - 10 = \dots$

عند رضا 28 كرتية ، ولعب مع
صديقه فربح 5 كرتيات أخرى كم
كرتية صارت عنده؟

$28 - 7 = \dots$

$28 + 5 = \dots$