

النشاط الاول : 2 ن

بمناسبة عيد ميلاده دعا احمد اصدقاءه وزينوا قاعة الاحتفال

اتامل المشهد :

الون الاطفال الذين هم على استقامة واحدة

اكتب البالونات واكتب العدد



ع	و

النشاط الثاني : 1.5 ن الون الاجابة الصحيحة



أكبر من
أصغر من
تساوي

50

50

25

أكبر من
أصغر من
تساوي

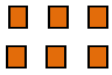
35

10


أكبر من
أصغر من
تساوي

8

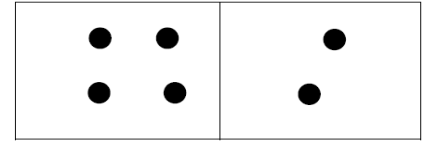
أكمل العملية:



..... + =



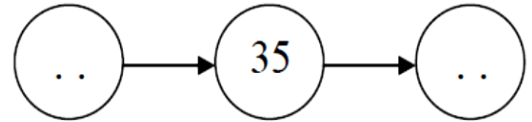
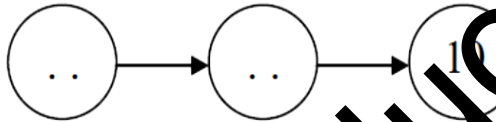
..... + =



4 + 2 = ..


النشاط الثالث : 1.5 ن اعد واكمل العملية

النشاط الرابع : 2 ن اكمل المتتالية :



النشاط الخامس : 1.5 ن

1) صل بالمسطرة النقط للحصول على أشكال وسمها



ابحث : 1.5 ن

غرس رجل 10 أشجار من التفاح و 7 أشجار من الخوخ
ما هو عدد الأشجار التي غرسها الرجل الون الاجابة الصحيحة

$$10 + 7 = 17$$

$$10 - 7 = 3$$