

اختبار الفصل الثاني في
مادة الرياضيات

مدرسة:
الصف الأول ابتدائي
السنة الدراسية: 2015 / 2016

الاسم:
اللقب:

1 (ن1.5) أكتب في الشريط الأعداد المحصورة بين 35 و 42.

→

35	42
----	---	---	---	---	---	---	----

2 (ن2) أقرن بكتابة العبارة المناسبة: أكبر من - أصغر من - يساوي.

35 35 ؛ 17 29

50 20 ؛ 49 46

3 (ن2.5) أرتب الأعداد من الأصغر إلى الأكبر: 48، 9، 54، 37، 15، 20.

→

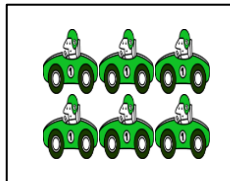

9
---	----	----	----	----	----

- أرتب الأعداد من الأكبر إلى الأصغر: 59، 39، 18، 3، 60، 42.



→

60
----	----	----	----	----	----



4 (ن1.5) أحسب المجاميع.



$$3 + 6 = .$$



$$8 + 2 = .$$



$$4 + 4 = .$$

5 (ن2.5) أكمل.

السبت	الاثنين	الأربعاء	الجمعة
.....	26	28	30