



# لنراجع التاريخ معا



يُمرّ الانسان في حياته بمراحل و مناسبات هامة تبقى  
خالدة في حياته، تسمى بالأحداث و تقسم إلى:  
**حدث شخصي:** كعيد ميلادي، انتقالي للقسم الأعلى  
**حدث اجتماعي:** كزفاف أختي ، ختان أخي  
**حدث وطني :** عيد الاستقلال، انتخاب رئيس الجمهورية



عرفت في حياتي أحداثا بقيت خالدة في ذاكرتي وهي  
مرتبطة بمواقع و أماكن ذات أهمية بالنسبة لي مثل  
: منزلي ، مدرستي .....



الزمان معناه الفترة الزمنية الممتدة من الماضي إلى  
الحاضر و هذا الزمان مرتبط بأحداث يمكن ترتيبها  
حسب زمن وقوعها.



## النشاط رقم 1:

أعطي مثالا عن كل حدث:



حدث شخصي : .....

حدث اجتماعي : .....

حدث وطني : .....

أصنف الأحداث التالية حسب الجدول:

الانتخابات الرئاسية، الاحتفال بعيد ميلادك الثامن، حفل زفاف قريبتك، الاحتفال بالمولد النبوي الشريف، حصولك على كأس البطولة ، الاحتفال بعيد الاستقلال ، ختان الأخ، دخولك للمدرسة، احياء ذكرى أول نوفمبر

حدث وطني	حدث اجتماعي	حدث شخصي
.....	.....	.....
.....	.....	.....
.....	.....	.....

أربط الحدث بما يناسبه من تاريخ:

01 نوفمبر 2017

الاحتفال بعيد الاستقلال

04 سبتمبر 2017

يوم مولدي

04 سبتمبر 2015

دخولي للمدرسة لأول مرة

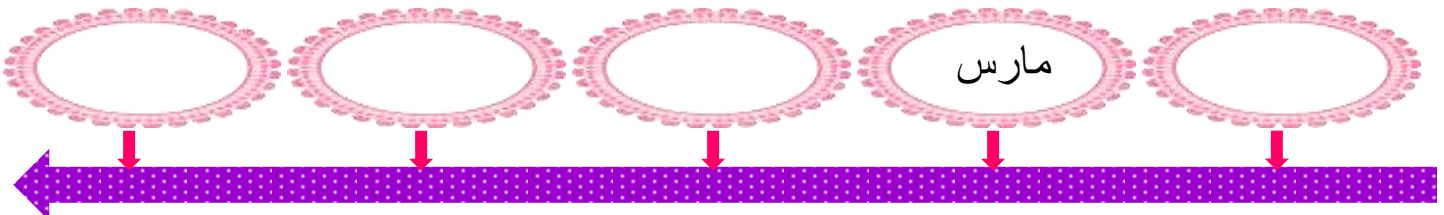
08 سبتمبر 2009

تاريخ انتقالي للسنة الثالثة

05 جويلية 2017

احياء ذكرى اندلاع الثورة

أكمل كتابة شهور السنة :



## أربط بين العطلة و زمنها:



جانفي

نوفمبر

جويلية

مارس

عطلة الخريف

عطلة الشتاء

عطلة الربيع

عطلة الصيف

## أربط كل مكان بالنشاط الذي يمارس فيه:

أتعلم الكتابة و الحساب

شراء الملابس و المواد الغذائية

علاج المرضى

ارسال الرسائل و الطرود

مشاهدة الآثار و التحف الفنية

أمارس كرة الطائرة

قاعة الرياضة

المتحف

مركز البريد

المستشفى

المدرسة

المركز التجاري

## أجيب بصحيح أو خطأ:



أول نوفمبر 1954 يمثل تاريخ اندلاع الثورة التحريرية



المكان هو الفترة الزمنية الممتدة من الماضي إلى الحاضر



المتحف هو المكان الذي أشاهد فيه الآثار و التحف الفنية



نكرى عيد الاستقلال تصادف يوم 01 ماي



الاحتفال بعيد الأضحى حدث وطني



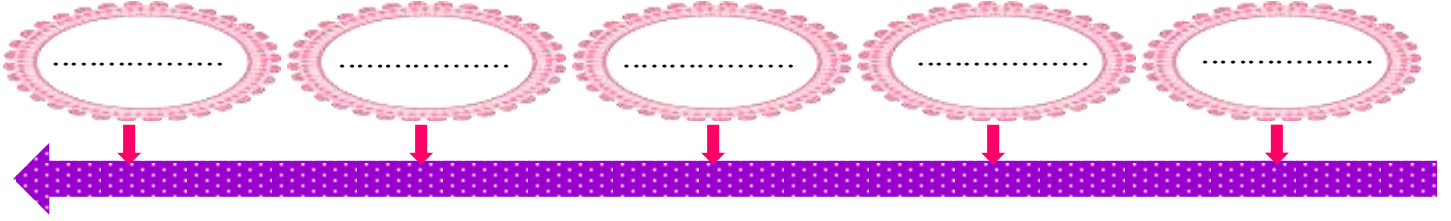
نجاحي في الدراسة بتفوق هو حدث اجتماعي



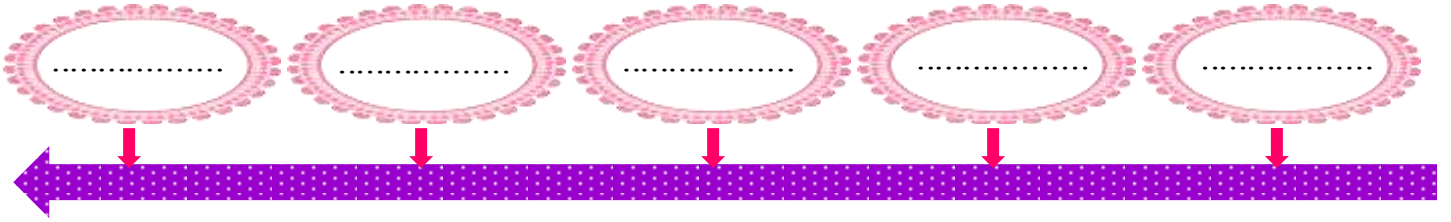
زفاف خالتي هو حدث شخصي

أقرأ جيدا هذه التواريخ ثم أعيد ترتيبها على الخط الزمني:

08 سبتمبر 2009 يوم مولدي ، 09 جويلية 1985 يوم مولد أُمي ، 27 أوت 2013 يوم مولد أخي يوسف ، 14 ديسمبر 1976 يوم مولد أبي ، 08 سبتمبر 2016 يوم مولد أخي سامي



أطلب من أفراد عائلتك تواريخ ميلادهم و أعد ترتيبها على الخط الزمني:



أكمل بما يناسب:

إسمي : .....

عمرى : .....

ولدت يوم : ..... من شهر ..... سنة .....

أسكن ببلدية ..... ولاية .....

أدرس بابتدائية .....



أكمل الفراغ بما يناسبه من الكلمات التالية:

05 جويلية 1962 ، العلم الجزائري ، شهداء ، كتابا ، 01 نوفمبر 1954 ، سبعة ، الجزائر

بعد حصولي على أحسن علامة في مادة التاريخ ، اشترى لي أبي ..... يروي تاريخ  
..... يحمل صورة ..... على غلافه، بفضلته تعرفت على  
..... الثورة التحريرية التي انطلقت في ..... و دامت  
..... سنوات انتهت باستقلال الجزائر يوم .....

أذكر ثلاثة أحداث هامة في حياتك، من تاريخ ميلادك إلى الآن:

1. ....
2. ....
3. ....

أرسم خطا زمنيا و رتب عليه الأحداث التالية:

تأهل المنتخب الوطني لمونديال 1982	استقلال الجزائر
اندلاع الثورة التحريرية	اعدام الشهيد أحمد زبانه

تحتفل الجزائر كل سنة بذكرى اندلاع ثورة الفاتح من نوفمبر 1954 و التي كللت باسترجاع  
السيادة الوطنية و التحرر من ظلم الاستعمار الفرنسي، في فقرة وجيزة عبر لنا عن مظاهر  
الاحتفال بهذه المناسبة في منطقتكم.

.....  
.....  
.....  
.....

احتفلت الجزائر بذكرى اندلاع الثورة التحريرية المجيدة، و قد صادف هذا الاحتفال عطلة الخريف لذا ذهبت مع أمي لولاية الجزائر أين أقيم معرض للكتاب، و في اليوم الموالي احتفلت بعيد ميلادي الثامن.

## التعليمة:

- استخراج من السند الأحداث التي تم ذكرها.
- ثم أعد تصنيفها في الجدول التالي:

حدث وطني	حدث اجتماعي	حدث شخصي
.....	.....	.....
.....	.....	.....

- ما هو اليوم الذي نحتفل به بذكرى اندلاع الثورة التحريرية؟

.....

- أرسم خطا زمنيا و رتب عليه الأحداث التي ذكرت في السند

