

الجمهورية الجزائرية الديمقراطية الشعبية

الديوان الوطني للامتحانات والمسابقات

وزارة التربية الوطنية

دورة: جوان 2015

امتحان بكالوريا التعليم الثانوي

الشعبة: تسيير واقتصاد

المدة: 03 سا و 30د

اختبار في مادة: التاريخ والجغرافيا

على المترشح أن يختار أحد الموضوعين التاليين:

الموضوع الأول

التاريخ:

الجزء الأول: (06 نقاط)

أ- (... في إطار الحرب الباردة، اعتبرت الكتلة الغربية "الكومنفورم" عملا هجوميا يجب الرد عليه، فكانت الخطط من أجل قيام تحالفات عسكرية وسياسية مثل معاهدة بروكسل، وكان الحلف الأطلسي الشمالي الذي وقعته 12 دولة، وانضمت إليه في ما بعد دول أخرى كتركيا واليونان ...)

د/ رياض الصمد / العلاقات الدولية في القرن 20.

المطلوب: انطلاقا من السند وعلى ضوء ما درست:

1- اشرح ما تحته خط في السند.

2- على خريطة العالم المرفقة، عين 03 دول مؤسسة للحلف الأطلسي.

ب- إليك جدولا يمثل أحداثا تاريخية في مسار الثورة التحريرية 1954م - 1962م:

التاريخ	الحدث	الانعكاسات
1960/12/11
.....	مظاهرات المهاجرين الجزائريين بباريس
.....	خطاب ديغول حول تقرير المصير

المطلوب: أكمل الجدول.الجزء الثاني: (04 نقاط)

(... إن الوصول إلى منابع البترول أصبح ضرورة أو حتمية عسكرية ... كل الاقتصاد الغربي مرتبط اليوم بالبترول ... يجب دائما معرفة من يسيطر على هذه المادة في الخليج والشرق الأوسط، وهي مفتاح لمعرفة من يسيطر على ما في العالم ...).

ريتشارد نيكسون/ الحرب الحقيقية.

المطلوب: انطلاقا من السند واعتمادا على ما درست، اكتب مقالا تاريخيا تحدد فيه:

1- ملامح النظام الدولي الجديد.

2- انعكاساته على العلاقات الدولية.

الجغرافيا:

الجزء الأول: (06 نقاط)

1- (... إن التجارة الخارجية تشكل عاملا بالغ الأهمية بالنسبة لتمويل وتقدم التنمية الاقتصادية في البلدان النامية حيث تعتمد عليها في تأمين السلع الضرورية، كما تعتمد مستويات الادخار والاستثمار فيها إلى حد كبير على حصيلة التبادل الخارجي، لذلك تتخذ المشكلة الرئيسية في التمويل وجهتين أساسيتين هما: إمكانية رفع حصيلة التجارة الخارجية في البلدان النامية، وكيفية الاستفادة من هذه الحصيلة في تكوين رؤوس الأموال اللازمة للتعبيل الاقتصادي...).

د. محمد سحنون، دور التجارة الخارجية في تمويل التنمية الاقتصادية. مجلة الاقتصاد الصناعي.

المطلوب: عرّف المصطلحات التي تحتها خط في السند.

2- أ- إليك جدولاً يمثل صادرات الجزائر لسنة 2012 م:

النسبة %	المواد
97.05	المحروقات
02.24	المواد نصف المصنعة
0.42	المواد الغذائية
0.23	المواد الخام
0.04	مواد التجهيز الصناعي
0.02	المواد الاستهلاكية غير الغذائية

جريدة الخبر ص 8 بتاريخ 2013/01/21

الجدول "أ"

ب- إليك جدولاً يمثل مناطق التبادل التجاري للجزائر:

الواردات %	الصادرات %	مناطق التبادل
01.90	01.70	المغرب العربي وباقي دول إفريقيا
69.20	59.90	دول أوروبا
28.90	38.40	بقية العالم
100	100	المجموع

الجدول "ب"

المطلوب: انطلاقاً من الجدولين وعلى ضوء ما درست:

- 1- ادرس الجدول "أ".
- 2- مثل معطيات الجدول "ب" بأعمدة بيانية بمقياس رسم 1 سم لكل 5 %.
- 3- علق على الرسم.

الجزء الثاني: (04 نقاط)

أصبح تكامل الاتحاد الأوروبي بعد 1999م كيانا متكاملًا قويا على جميع الأصعدة، ويلعب دورا حيويا فاعلا في منظومة الاقتصاد العالمي.

المطلوب: انطلاقا من الفقرة وعلى ضوء ما درست، اكتب مقالا جغرافيا تبين فيه:

- 1- عوامل القوة الاقتصادية للاتحاد الأوروبي.
- 2- التحديات التي يواجهها الاتحاد الأوروبي على الصعيدين الداخلي والخارجي.

الموضوع الثاني

التاريخ:

الجزء الأول: (06 نقاط)

(... حدثت تقريبا كل الأزمات المسلحة بين الكتلتين الشرقية والغربية على الساحة الأفرو آسيوية وأمريكا اللاتينية، من الحرب الكورية إلى استعراض العضلات في كوبا، ولم تغلت من الاختراق والاستخدام والتوجيه سوى القليل من حركات التحرر الوطني وفي مقدمتها الثورة الجزائرية (...).
د/ محمد العربي ولد خليفة/ الجزائر والعالم.

المطلوب:

انطلاقا من السند وعلى ضوء ما درست:

- 1- عرّف المصطلحات التي تحتها خط.
- 2- املأ الجدول بالأزمات الدولية في القارات الثلاث المشار إليها في السند:

الأزمة	تاريخها	انعكاساتها

- 3- على خريطة العالم المرفقة عيّن مناطق الأزمات المسلحة المقصودة في السند.

الجزء الثاني: (04 نقاط)

(... في غمرة انتصار الحلفاء خرج الشعب الجزائري كبقية شعوب العالم ليعبر عن فرحته بتنظيم مسيرات سلمية مرخصة من قبل السلطات الاستعمارية رافعا شعارات تغني بها الحلفاء خلال الحرب العالمية الثانية ومبادئ ووعوداً قطعوها على أنفسهم (...).
أحمد توفيق المدني/ هذه الجزائر.

المطلوب:

انطلاقا من السند واعتمادا على ما درست، اكتب مقالا تاريخيا تبين فيه:

- 1- أسباب تحول المظاهرات السلمية إلى مجازر "08 ماي 1945م".
- 2- انعكاسات هذه المجازر على مسار الحركة الوطنية الجزائرية.

الجغرافيا:

الجزء الأول: (06 نقاط)

إليك جدولاً يبين نسب استهلاك الغاز والبتروول في العالمين المتقدم والمتخلف:

المناطق	استهلاك الغاز %	استهلاك البترول %
العالم المتقدم	66	58
العالم المتخلف	34	42
المجموع	100	100

إدارة معلومات الطاقة 2006

المطلوب:

1- عرّف المصطلحات التالية:

- العالم المتقدم - العالم المتخلف - استهلاك الغاز والبتروول.

2- حول معطيات الجدول إلى دائرتين نسبيتين: نق = 3 سم.

3- علق على الرسم.

4- على خريطة العالم المرفقة عيّن أقطاب الاقتصاد العالمي و 03 دول سائرة في طريق النمو واحدة من كل قارة (آسيا - إفريقيا - أمريكا اللاتينية).

الجزء الثاني: (04 نقاط)

رغم تحكم الولايات المتحدة الأمريكية في مجالها الجغرافي وتنظيم أقاليمها باعتماد معايير تأخذ بعين الاعتبار الظروف الطبيعية والموارد البشرية والاقتصادية. إلا أنّ هناك ظروفًا وعوامل جعلت بعض أقاليمها تتفوق على الأخرى.

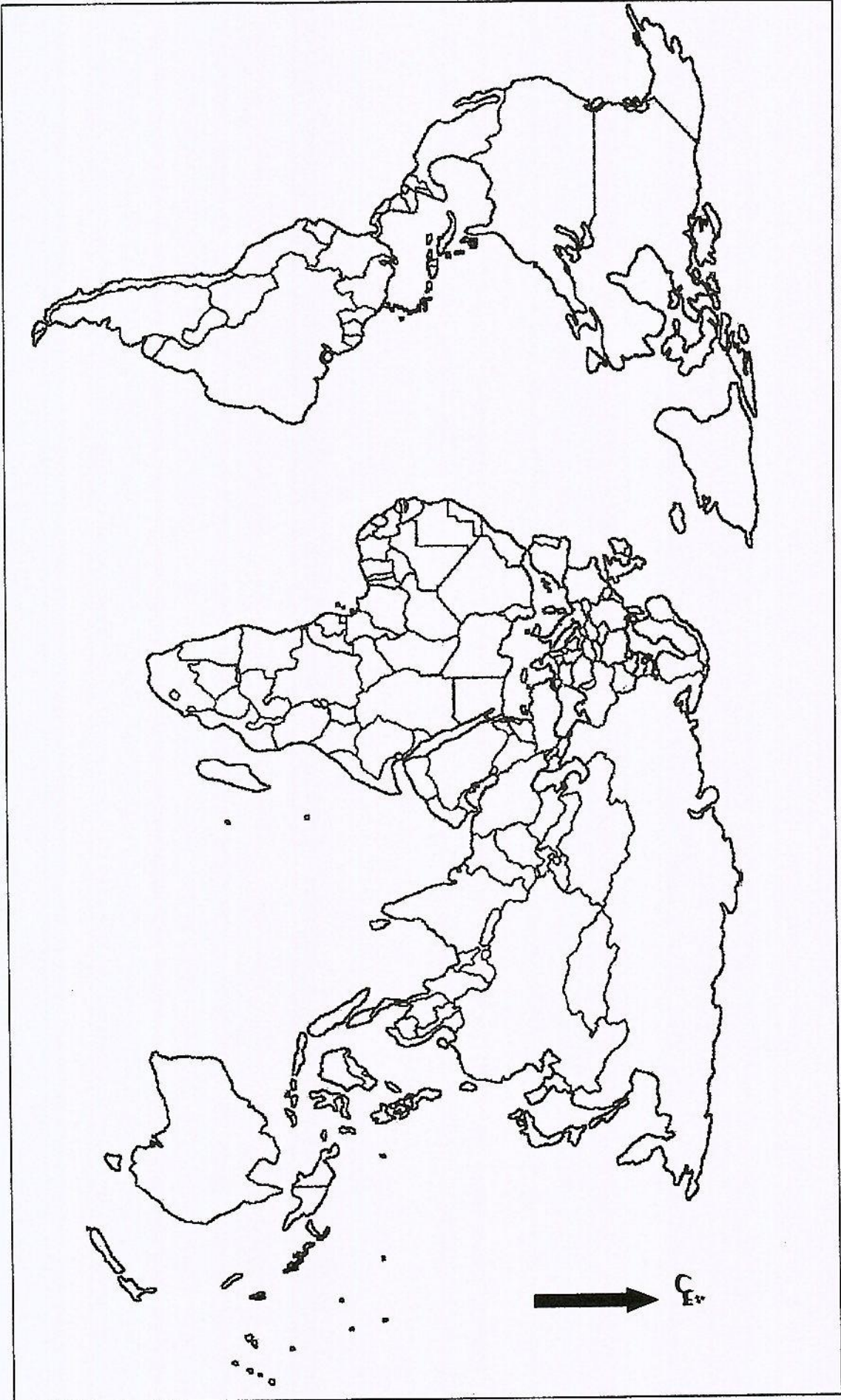
المطلوب:

انطلاقاً من الفقرة واعتماداً على ما درست، اكتب مقالاً جغرافياً تحدّد فيه:


1- عوامل القوة الاقتصادية للولايات المتحدة الأمريكية.

2- تفوق إقليم الواجهة الأطلسية.

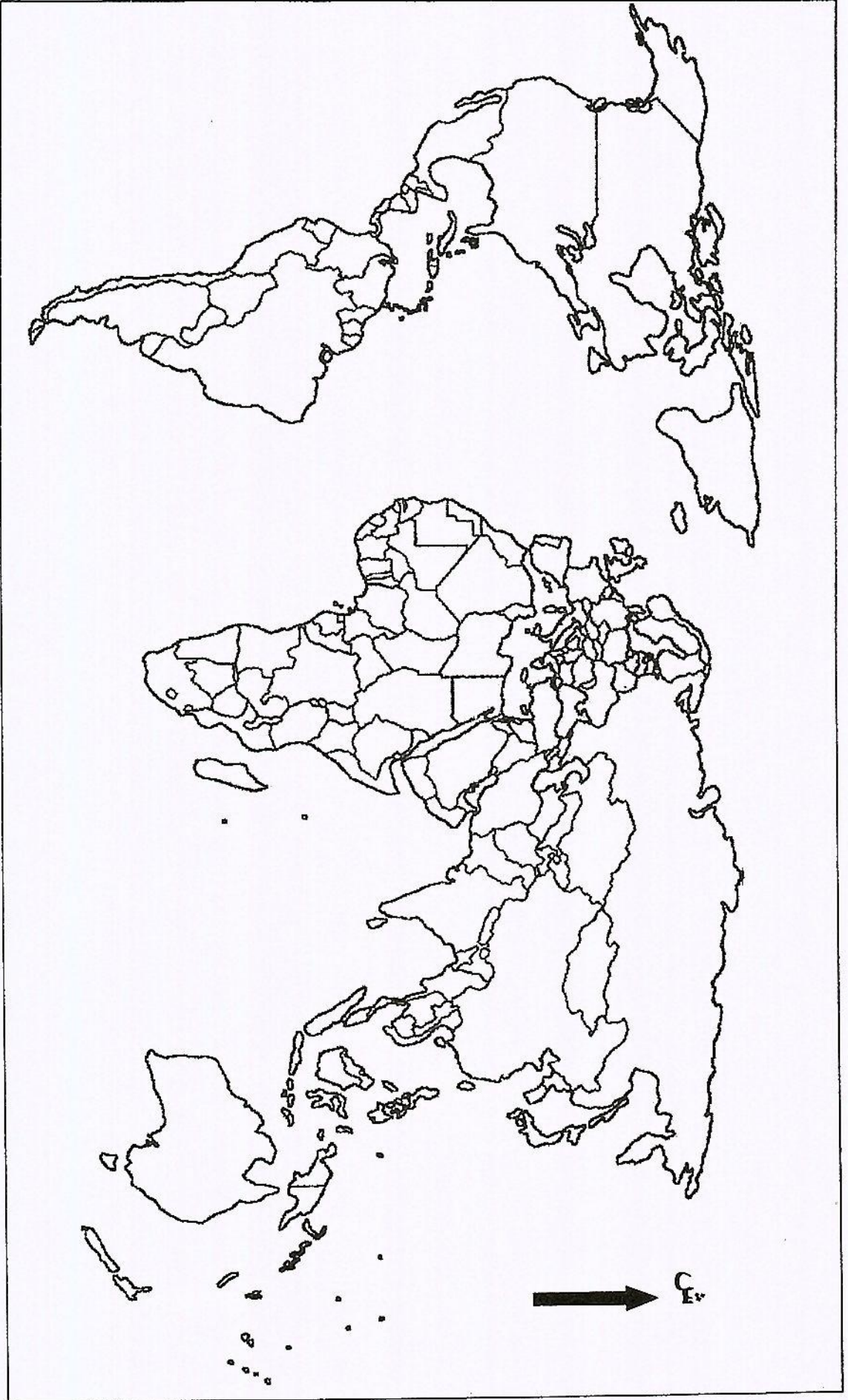
خريطة العالم



ينجز العمل المطلوب على الخريطة وتعاد مع أوراق الإجابة



خريطة العالم



ينجز العمل المطلوب على الخريطة وتعاد مع أوراق الإجابة