

إختبار الثلاثي الأول في مادة التاريخ و الجغرافيا**الجزء الأول : تاريخ****السؤال الأول : (02 ن)**

حدثكم استاذ المادة عن حدثين هامين في تاريخ الجزائر الأول افقدها هيبتها و قوتها و الثاني اتخذ كذريعة للاحتلال .

- عرف هذين الحدثين ؟

السؤال الثاني : (03 ن)

(... نعلمكم أن غرضنا من نشر هذا الاعلان هو : أن نوضح لكم الأسباب العميقة التي دفعتنا الى العمل و مقومات وجهة نظرنا التي تهدف الى الاستقلال (...))
بيان الثورة / الأمانة العامة لجهة التحرير.
* استخلص القيمة الواردة في الفقرة .

السؤال الثالث : (04 ن)

- اليك الوثائق التالية صنفها وفق الجدول :
- رواية شفوية - معاهدة - مقال صحفي - قصة شعبية - دستور - شهادة حية - رسالة دبلوماسية - بيان نوفمبر 1954 .

وثائق ذات مرجع رسمي	وثائق ذات مرجع غير رسمي

الوضعية الإدماجية : (04 نقاط)

السياق : اختلفا شخصان حول دوافع فرنسا لاحتلال الجزائر . فالأول يرى أن حادثة المروحة هي السبب الوحيد بينما يرى الآخر أن هناك أسباب خفية وراء الاحتلال , فتوجها اليك لتوضيح الأمر و إيقاف الجدل .

السند 01 : الاهتمام بتجهيز الحملة لصرف أنظار الشعب الفرنسي عن المشاكل الداخلية .

السند 02 : طمع فرنسا في خيرات الجزائر و موقعها الاستراتيجي .

السند 03 : ترحيل العاطلين عن العمل وبناء مستوطنات لهم بالجزائر.

التعليمة : بناء على السندات الواردة و اعتمادا على مواردك , أكتب فقرة لا تقل عن 08 أسطر حول الموضوع.

السؤال الأول : (02 نقاط)

اشرح ما يلي : المدى الحراري - الشطوط - الحمادة.

السؤال الثاني : (02 نقاط)

صنف المظاهر التضاريسية التالية , وفق الجدول : (02 نقاط)

واحات بسكرة - هضبة تادمايت - جبال الهقار - سهل تنزروفت - هضبة الطاسيلي - العرق الغربي الكبير - شط ملغيغ - قمة تهات أتاكور 2918م.

الصحراء الجنوبية	الصحراء الشمالية الغربية	المنخفض الشمالي الشرقي
.....

الوضعية الإدماجية : (04 نقاط)

السياق : أثناء رحلة سياحية لك مع عائلتك في فصل الصيف الى مدينة ساحلية فسأل أخوك حول تنوع التضاريس في الاقليم الشمالي في الجزائر ومقارنتها مع الإقليم الجنوبي

السند 01 : تبلغ مساحة الإقليم الشمالي 381,741 كلم².
- الكتاب المدرسي.

السند 02 : " تنقسم الى سهول ساحلية وأخرى داخلية أكثر اتساعا "
- الكتاب المدرسي.

السند 03 : تبلغ مساحة الإقليم الجنوبي 02 مليون كلم².
- الكتاب المدرسي.

التعليمة : اعتمادا على ما درست و السندات , أكتب فقرة من 10 أسطر تجيب عن تساؤل أخيك .

السؤال الأول : - عرف هذين الحدثين : (02 ن) .

- معركة نافارين 20 أكتوبر 1827 م : وقعت بين الأسطول العثماني و الجزائري و المصري ضد أساطيل إنجلترا و فرنسا و روسيا مما أدى إلى تحطم معظم وحدات الأسطول الجزائري و هذا ما أفقدها هيبتها
- حادثة المروحة 29 أبريل 1827 م : تعتبر الذريعة و المبرر لإحتلال الجزائر بعد قيام الداوي حسين بإهانة القنصل الفرنسي حسب زعمهم و الذي كان كلامه غير لائق مع الداوي و إستغلت فرنسا الحادثة لتبرير الإحتلال

السؤال الثاني : (03 ن)

* القيمة الواردة في الفقرة : توضيح الاسباب الرئيسية التي دفعت الشعب إلى القيام بالعمل المسلح و الهدف من العمل الثوري وهو الحصول على الحرية و الإستقلال

السؤال الثالث : - اليك الوثائق التالية صنفها وفق الجدول : رواية شفوية - معاهدة - مقال صحفي - قصة

شعبية - دستور - شهادة حية - رسال دبلوماسية - بيان نوفمبر 1954

وثائق ذات مرجع رسمي	وثائق ذات مرجع غير رسمي
- معاهدة - دستور - رسال دبلوماسية - بيان نوفمبر 1954	رواية شفوية - مقال صحفي - قصة شعبية - شهادة حية

الوضعية الإدماجية : (04 نقاط)

بعد ظهور الثورة الصناعية كانت الدول الأوروبية تبحث عن مناطق الموارد الأولية و التي ستضمن لها كل احتياجاتها و لعل الجزائر من أبرز هذه المناطق التي تزخر بالثروات الباطنية ما جعلها محل أطماع العديد من الدول أبرزها فرنسا التي إعتبرت حادثة المروحة سبب في إحتلال الجزائر في حين يرى البعض الآخر أن هناك أسباب أخرى فما هي الدوافع الحقيقية و الغير حقيقة لإحتلال فرنسا الجزائر ؟

تججت فرنسا بجملة من الذرائع لإحتلال الجزائر على رأسها حادثة المروحة بالإضافة إلى القرصنة البحرية التي كان يقوم بها الأسطول البحري الجزائري و كذلك القضاء على نظام الرق و العبودية في حين لم تذكر الاسباب الحقيقية و الخفية التي كان الدافع الرئيسي لإستعمار الجزائر على رأسها الطمع في خيراتها و ثرواتها بالإضافة إلى نشر الدين المسيحي و القضاء على الدين الإسلامي و كذلك إستغلال تحطم وحدات الأسطول الجزائري في معركة نافارين و بقاء الجزائر بدون تغطية عسكرية و محاولة نشر الثقافة الفرنسية في الجزائر و إيجاد مكان للفائض السكاني في فرنسا من خلال ترحيلهم إلى الجزائر

في الأخير نستنتج أن بولينياك رفض ذكر الاسباب الحقيقية لإحتلال الجزائر خوفا من المنافسة البريطانية و طمعا في الحصول على تأييد الدول الأوروبية لحملته على الجزائر .

السؤال الأول : (03 نقاط)

إشرح ما يلي :

- المدى الحراري : الفرق بين أعلى و أدنى درجة حرارة خلال فترة زمنية معينة

- الشطوط : عبارة عن أوحال شديدة الملوحة على شكل بحيرة تنفجر فيه المياه في الشتاء و في الصيف تكسوه

- **طقة من الملح**

الحمادة : هضبة مغطاة بالصخور الجيرية المسطحة

السؤال الثاني : (03 نقاط)

صنف المظاهر التضاريسية التالية , وفق الجدول :

واحات بسكرة - هضبة تادمايت - جبال الهقار - سهل تنزروفت - هضبة الطاسيلي - العرق الغربي الكبير

- شط ملغيغ - قمة تهات أتاكور 2918م.

الصحراء الجنوبية	الصحراء الشمالية الغربية	المنخفض الشمالي الشرقي
جبال الهقار - سهل تنزروفت هضبة الطاسيلي قمة تهات أتاكور 2918م .	هضبة تادمايت العرق الغربي الكبير	واحات بسكرة شط ملغيغ

الوضعية الإدماجية : (03 نقاط)

تقع الجزائر شمال قارة إفريقيا و تعتبر أكبر دولة من حيث المساحة و قد ساهمت هذه الخاصية في وجود تنوع تضاريسي كبير بين إقليم الشمال و إقليم الجنوب فما هي الخصائص التضاريسية للإقليم الشمالي للجزائر و الإقليم الجنوبي ؟

تضم الجزائر إقليمين متباينين هما الإقليم الشمالي ذي البنية الحديثة التكوين يشغل 16 % من مساحتها ، والإقليم الجنوبي ذي البنية القديمة التكوين يشغل 84 % و يتميز الإقليم الشمالي بوجود سلسلة جبال الأطلس التلي و جبال الأطلس الصحراوي بالإضافة إلى الهضاب العليا و كذلك السهول بنوعها سهول ساحلية ضيقة كسهل وهران و متيجة ، و سهول داخلية أكثر اتساعا و ارتفاعا كسهل معسكر و سيدي بلعباس في حين الإقليم الجنوبي يشغله المنخفض الشمالي الشرقي : و هو حوض واسع من الكثبان الرملية و كذلك الصحراء الشمالية الغربية : هي هضبة صخرية تعرف بالحمادة بالإضافة إلى الصحراء الجنوبية : تشغلها المرتفعات و هي جبال الهقار البركانية و السهول يغطيها الرق و العروق كعرق إيقدي و الشاش في الأخير نستنتج أن هذا التنوع و الاختلاف في تضاريس الجزائر يعود بالفائدة على الدولة و الشعب

إختبار الثلاثي الأول في مادة التاريخ و الجغرافيا**الجزء الأول : تاريخ****السؤال الأول : (05 ن) .**

مرت الجزائر طيلة قرن ونصف بمراحل تاريخية حاسمة خلال كفاحها للإحتلال الفرنسي ميزتها أحداث ذات دلالة .
المطلوب :

- أ / حدد تواريخ الأحداث التالية ثم أعد ترتيبها حسب تسلسلها الزمني
معركة سطوالي - إنطلاق الحملة الفرنسية - معاهدة الإستسلام - رسالة بوليناك
ب / إملأ الجدول بذكر ثلاث أسباب (دوافع) للإحتلال الفرنسي في كل خانة :

أسباب مباشرة للإحتلال (من رسالة بوليناك)	الدوافع الحقيقية للإحتلال

السؤال الثاني : إشرح ما يلي (01 ن) .

- حادثة المروحة - سياسة الأرض المحروقة

الوضعية الإدماجية : (04 نقاط)

حضرت مع أحد أصدقائك محاضرة بعنوان " دراسة الوثيقة التاريخية و أهميتها في كتابة التاريخ " و في نهاية المحاضرة طلب منك صديقك أن تشرح له الخطوات المنهجية لتحليل الوثيقة التاريخية و أهميتها .

السند 01 : " إن تقديم أي وثيقة تاريخية معناها التدقيق في طبيعتها و مصدرها و سياقها " كتاب التاريخ السن الثانية متوسط

السند 02 : " تكمن أهمية الدراسة التاريخية للوثيقة في فهم الاحداث و توثيقها "

التعليمة : من خلال ما درست و السندات أكتب فقرة من أسطر تجيب فيها عن طلب صديقك

الجزء الثاني : جغرافيا**السؤال الأول : (02 نقاط)**

شساعة مساحة الجزائر سمح لها بإمتلاك تضاريس متنوعة من الشمال للجنوب

أ / أذكر صعوبات التضاريس في الجزائر

ب / قارن بين تضاريس الإقليم الشمالي و الجنوبي للجزائر

السؤال الثاني : (04 نقاط)

عرف مايلي : المدى الحراري - الثروات الطبيعية - الشطوط - المناخ ؟

السؤال الثاني : (01 نقاط)

عين على الخريطة الموقع الفلكي للجزائر

السؤال الأول : (05 ن) .

أ / حدد تواريخ الأحداث التالية ثم أعد ترتيبها حسب تسلسلها الزمني

- رسالة بولينياك (12 ماي 1830)

- إنطلاق الحملة الفرنسية (25 ماي 1830 م)

- معركة سطوالي (19 جوان 1830)

- معاهدة الإستسلام (05 جويلية 1830)

ب / إملأ الجدول بذكر ثلاث أسباب (دوافع) للإحتلال الفرنسي في كل خانة :

أسباب مباشرة للإحتلال (من رسالة بولينياك)	الدوافع الحقيقية للإحتلال
النار لشرف فرنسا و المحافظة على ممتلكاتها	إستغلال ثروات و خيرات الجزائر و موقعها الهام
إلغاء دفع الجزية	الحقد على الإسلام و نشر المسيحية
القضاء على الجهاد البحري المسمى بالقرصنة	إستغلال ضعف الأسطول الجزائري بعد معركة نافرين

السؤال الثاني : (01 ن) .

إشرح ما يلي :

- حادثة المروحة : وقعت سنة 1827 أثناء إستفسار الداوي حسين قنصل فرنسا عن سبب تأخر دولته في دفع الديون التي تدين بها للجزائر , ولكن رد القنصل الغير لائق أغضب الداوي و أمره بالخروج من مجلسه ملوحا بالمروحة فهده القنصل بالانتقام
- سياسة الأرض المحروقة : هي إستراتيجية عسكرية أو طريقة عمليات يتم فيها إحراق أي شيء قد تستفيد منه المقاومة

كالمحاصيل الزراعية وقطع الأشجار و مصادرة المواشي وحتى الإبادة الجماعية

الوضعية الإدماجية : (04 نقاط)

لدراسة الوثيقة التاريخية يجب إتباع مجموعة من الخطوات منها تقديم هذه الوثيقة وذلك بالتعريف بصاحبها بحيث تكون عبارة عن نبذة موجزة عن صاحبها و تحديد طبيعتها أي مقال صحفي ، منشور ، معاهدة سياسية، خطاب سياسي وكذلك تحديد مصدرها رسمي أو مصدر غير رسمي (مقتطف من كتاب أو صحيفة أو من تصريح أو نشرة أو أرشيف وغيره) . ثم تحديد إطارها المكاني والزمني أي تحديد زمن ومكان صدورها لتأتي المرحلة الثانية وهي تحليلها ويتم بتحديد الفكرة العامة و تحديد الأفكار الجزئية و في الأخير الاستنتاج وهو عبارة عن خلاصة و تقييم الوثيقة و تكمن أهمية الوثيقة التاريخية في الحفاظ على محتويات التاريخ والتراث والروايات و إثراء عملية البحث التاريخي وتزويدها بكل ما يحتاج إليه و كذلك الأخذ بيد الباحث التاريخي وتمكينه من التفرقة ما بين المعلومات بالإضافة تعد الوثيقة التاريخية بمثابة الهوية الشخصية للأمم والحضارات السابقة

السؤال الأول : (02 نقاط)

شساعة مساحة الجزائر سمح لها بإمتلاك تضاريس متنوعة من الشمال للجنوب
أ / صعوبات التضاريس في الجزائر

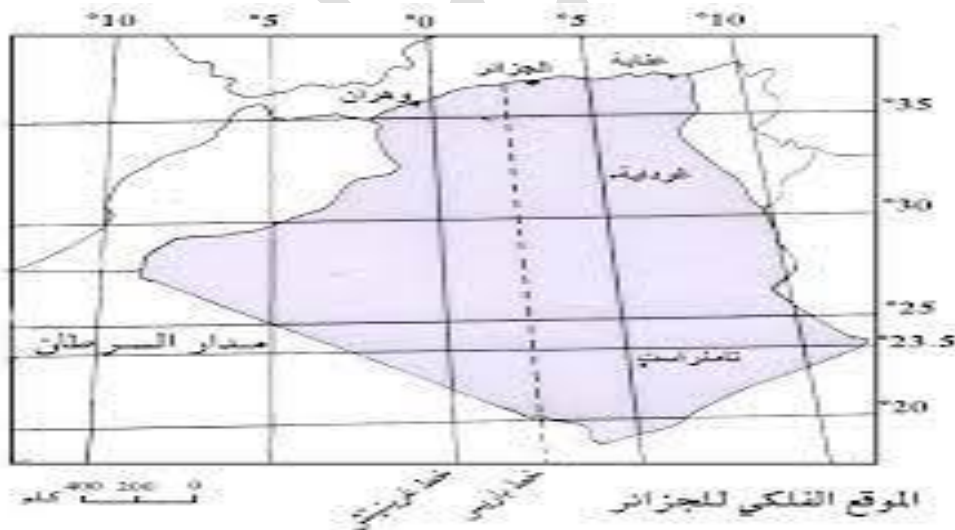
- التأثير السلبي على التساقط
- صعوبة الحياة في الصحراء
- قلة المساحات الزراعية

ب / قارن بين تضاريس الإقليم الشمالي و الجنوبي للجزائر

تبلغ مساحة القسم الشمالي الممتد من السواحل إلى الأطلس الصحراوي **381741** كلم مربع و تشكل السهول و الهضاب و الجبال نسبة كبيرة من تضاريس هذا الجزء في حين تبلغ مساحة القسم الجنوبي **2** مليون كلم مربع و الممتد جنوب الأطلس الصحراوي إلى أقصى نقطة في الجنوب تغلب عليه الصحراء و الشطوط

السؤال الثاني : شرح ما يلي (04 نقاط)

- الثروات الطبيعية : هي كل ما تؤمنه الطبيعة من مخزونات طبيعية يستلزمها لبقاء الإنسان
- الشطوط : هو عبارة عن أوحال شديدة الملوحة على شكل بحيرة تنفجر فيه المياه في الشتاء
- المناخ : هو متوسط حالات الطق على المستوى الطويل و يحتسب عادة على مدى 30 عام

السؤال الثالث : (01 نقاط)

إختبار الثلاثي الأول في مادة التاريخ و الجغرافيا**الجزء الأول : تاريخ****السؤال الأول : (04 ن) .**

حدد تواريخ الأحداث التالية , ثم رتبها زمنيا :

وصول الحملة الفرنسية إلى الجزائر - معاهدة الاستسلام - بيان ثورة التحرير - حادثة المروحة .

السؤال الثاني : (04 ن)

ميز بين الأسباب الحقيقية للاحتلال و المبررات و الذرائع في الجدول

تحطم الاسطول الجزائري - الغاء نظام الرق و العبودية - ازمة ديون القمح - استغلال الثروات - حادثة المروحة - الحقد الصليبي .

المبررات و الذرائع	الاسباب و الدوافع

الوضعية الإدماجية (04 ن)

السياق : وأنت تشاهد رفقة أبيك نشرة الأخبار حول الحصار الذي تعرضت له غزة منذ سنوات و ما يحدث بها اليوم فشبهت ما يقوم به الاحتلال الصهيوني بما قامت به فرنسا من مراحل الحصار و الاحتلال للجزائر , فطلب منك أبوك توضيحا أكثر .

السند 01 : مهدت فرنسا للاحتلال بفرض حصار عسكري على الجزائر بغرض اضعاف قوتها الاقتصادية

التعليمية : اعتمادا على ما درست و السندات المقدمة اليك أكتب موضوعا لا تتجاوز 10 أسطر توضح فيها استفسار والدك.

الجزء الثاني : جغرافيا**السؤال الأول : (03 نقاط)**

قدم مفهوما للمصطلحات التالية : - المناخ - الرق - الشبكة الهيدروغرافية

السؤال الثاني : (03 نقاط)

- فسر العلاقة بين التساقط و التربة و الغطاء النباتي و المظهر الهيدروغرافي.

السؤال الثالث : (02 نقاط)

نظم في ثلاث نقاط أهمية الموقع الفلكي للجزائر ؟

السؤال الأول : حدد تواريخ الأحداث التالية , ثم رتبها زمنيا : (04 ن) .

- حادثة المروحة : 29 أفريل 1827 م
- وصول الحملة الفرنسية إلى الجزائر : 14 جوان 1830 م
- معاهدة الاستسلام : 05 جويلية 1830 م
- بيان ثورة التحريرية : 01 نوفمبر 1954 م

السؤال الثاني : ميز بين الأسباب الحقيقية للاحتلال و المبررات و الذرائع في الجدول (04 ن)

تحطم الاسطول الجزائري - الغاء نظام الرق و العبودية - ازمة ديون القمح - استغلال الثروات - حادثة المروحة - حادثة المروحة .

الاسباب و الدوافع	المبررات و الذرائع
تحطم الاسطول الجزائري ازمة ديون القمح استغلال الثروات	الغاء نظام الرق و العبودية حادثة المروحة

الوضعية الإدماجية (04 ن)

بعد أن تمكنت فرنسا من إيجاد ذريعة لإحتلال الجزائر و المتمثلة في حادثة المروحة بالإضافة إلى إقناع الدول الأوروبية بشرعية الإحتلال مهدت للدخول إلى الجزائر بفرض حصار عسكري بحري مدته ثلاث سنوات فما هي أسباب هذا الحصار و ما هي أهدافه ؟

قد يتسائل البعض عن سبب عدم قيام المستعمر الفرنسي بالهجوم على الجزائر في نفس السنة التي قام فيها الداي حسين باهانة الفتصل الفرنسي في الحادثة الشهيرة وهي حادثة المروحة بحيث فضل الفرنسيون بداية حملتهم لإحتلال الجزائر بفرض حصار عسكري بحري على الجزائر مدته ثلاث سنوات من 16 جوان 1827 م إلى غاية 25 ماي 1830 م بهدف إضعاف القوة الإقتصادية الجزائرية المعتمدة على النشاط البحري و كذلك ضمان عدم تلقي الجزائر لأي مساعدة من طرف الدولة العثمانية و ربح الوقت لكسب تأييد الدول الأوروبية و إيجاد أضعف منطقة للدخول إلى الجزائر و التي كانت سيدي فرج في الأخير نستنتج أن التخطيط للحملة الفرنسية لإحتلال الجزائر كان منذ سنوات و ذلك بهدف السيطرة على هذا البلد في أسرع وقت دون أي مقاومة .

السؤال الأول : (04 نقاط)

قدم مفهوما للمصطلحات التالية :

- المدى الحراري : هو الفرق بي أعلى و أدنى درجة تسجلان خلال فترو زمنية معينة
- المناخ : حالة الجو السائدة في منطقة معينة خلال مدة عام
- الرق : سهل صحراوي مغطى بالحصى و الرمل الخشن
- الشبكة الهيدروغرافية : هي خريطة توزيع المجاري المائية في الجزائر

السؤال الثاني : (03 نقاط)

- فسر العلاقة بين التساقط و التربة و الغطاء النباتي و المظهر الهيدروغرافي ؟
- يتحكم التساقط في نوعية التربة و كثافة الغطاء النباتي و الشبكة الهيدروغرافية بحيث كلما كانت كمية التساقط كبيرة كلما زادت خصوبة التربة و زادت كثافة الغطاء النباتي و إزداد منسوب المياه في الأودية و العكس .

السؤال الثالث : (02 نقاط)

- نظم في ثلاث نقاط أهمية الموقع الفلكي للجزائر ؟
- الامتداد من العروض الحارة إلى المعتدلة
- مرور مدار السرطان بجنوب الجزائر الذي يؤثر على درجة الحرارة
- مرور خط غرينتش الذي يستخدم للتوقيت

إختبار الثلاثي الأول في مادة التاريخ و الجغرافيا**الجزء الأول : تاريخ****السؤال الأول : (05 ن) .**

مما جاء في معاهدة الاستسلام التي وقعها الداوي حسين : « إقامة الشعائر المحمدية تكون حرة ويقع أي مساس بحقوق وحرمة السكان لا بدينهم ولا بممتلكاتهم ولا بتجارتهم وتحترم نساؤهم »
التعليمة : أ) بين مدى احترام الفرنسيين للمعاهدة ؟

ب / عمل المستعمر الفرنسي على تنصير الجزائريين . أذكر بعض إجراءاته ؟

الوضعية الثانية : علل ما يلي : (04 ن)

- فرض فرنسا لحصار عسكري على الجزائر 1827 - 1830
- تعتبر معاهدة التافنة نعمة على الأمير عبد القادر و نقمة على أحمد باي

الوضعية الإدماجية : (04 نقاط)

السياق : في نقاش بين زميلين لك حول أسباب الإحتلال الفرنسي للجزائر , رأى أحدهما أنها تعود لحادثة المروحة بينما يرى الآخر غير ذلك مستدلا برسالة بولينياك لتأكيد أقواله فأجتكما إليك

السند 01 : " إن هناك مصلحتين متميزتين بطبعهما و لكنهما متصلتان إتصال وثيق و قد أدتا إلى إستعدادات التي جرت في موانئنا إحداهما تخص فرنسا بالدرجة الأولى و هي الثار لشرف رايتنا " رسالة بولينياك 12 ماي 1830

السند 02 : فالحملة التي أمر بالإعداد لها و سخر لها جميع جهوده هي القضاء النهائي على القرصنة "

التعليمة : إعتادا على المكتسبات القبلية و ما درست أكتب فقرة تبرز فيها دوافع الإحتلال الفرنسي للجزائر بناء على ما درسته في رسالة بولينياك ثم وضح حقيقة هذا الإحتلال .

الجزء الثاني : جغرافيا**الوضعية الأولى : يتميز مناخ الجزائر بالتنوع من الشمال إلى الجنوب (02 نقاط)**

- أذكر العوامل المتحكمة في هذا التنوع

الوضعية الثانية : ماذا تمثل المعطيات التالية : (01 نقاط)

1200 كلم	-35م	2308م	16%

الوضعية الإدماجية : (04 نقاط)

في شريط وثائقي قال المعلق : إن تناقص كميات الأمطار وخصوبة التربة من الشمال إلى الجنوب كان له الأثر على الغطاء النباتي في الجزائر. وأن الغطاء النباتي مرآة عاكسة للمناخ مما دفع بأخيك للتساؤل عن معنى هذه العبارة فقررت إجابته

سند 1 : تعتمد المجاري المائية و الغطاء النباتي في الجزائر بشكل كبير على تساقط الأمطار

سند 2 : يتناقص الغطاء النباتي في الجزائر كلما إتجهنا من الشمال نحو الجنوب لتناقص كمية الأمطار

التعليمة : إعتادا على ما درست و مكتسباتك القبلية و السندات أكتب فقرة تجيب فيها عن أسئلة أخيك.

السؤال الأول : (05 ن) .

أ / لم يلتزم الفرنسيون ببنود معاهدة الاستسلام حيث بعد سقوط العاصمة 1830 واندفع الجيش الفرنسي في نهب

الممتلكات ، والاستيلاء على أموال الخزينة والقصور، وزرع الدمار فيها وانتهاك حرمت المقدسات الدينية

ب / بعض إجراءات المستعمر لتنصير الشعب الجزائري :

- نشر المسيحية عن طريق التبشير حيث قام القساوسة أمثال الكاردينال لافيغري باستغلال المجاعات ليبشر بالدين المسيحي مقابل المساعدات

- تحويل المساجد إلى كنائس وإسبيلات وتكنات ومخازن

- بناء المؤسسات الدينية المسيحية واليهودية على حساب المؤسسات

السؤال الثاني : علل ما يلي : (04 ن)

فرض فرنسا لحصار عسكري على الجزائر 1827 - 1830 : بهدف إضعاف القوة الاقتصادية المعتمدة على النشاط البحري ، وعدم تلقيها مساعدات من الدولة العثمانية

تعتبر معاهدة التافنة نعمة على الأمير عبد القادر و نعمة على أحمد باي : نعمة على الأمير عبد القادر لأنه غسغها في إعادة تسليح جيشه و ترتيب صفوفه في حين تعتبر نعمة على أحمد باي لأن الفمستعمر الفرنسي سحب جيشه نحو الشرق ليقضي على أحمد باي و مقاومته في الشرق الجزائري .

الوضعية الإدماجية (04 ن)

بعد حادثة المروحة الشهيرة بدأت السلطات الفرنسية إستعداداتها لغزو الجزائر بحملة كبيرة بغية الثأر لشرفهم حسب

المسؤولين الفرنسيين و هذا ما تم الإعلان فيه من خلال رسالة بولينياك الموجهة للحلفاء في أوروبا فما هي أسباب المذكورة في

رسالة بولينياك و ماهي الأسباب الحقيقية التي أخفاها الفرنسيون لإحتلال الجزائر

حاول رئيس الوزراء الفرنسي جو دو بولينياك كسب موافقة الحلفاء الاوروبيين لإحتلال الجزائر من خلال رسالة يوضح فيها

حسبهم الاسباب الحقيقية للإحتلال الفرنسي ألا وهي الثأر لشرف راية فرنسا بعد الإهانة الكبيرة التي تلقاها القنصل الفرنسي من

طرف الداوي حسين كما يوضح لهم الأسباب الأخرى المتمثلة في توقيف نشاط الجهاد البحري المعروف بالقرصنة و إلغاء دفع

الجزية وغيرها من الأسباب لكن بولينياك في رسالته لم يكشف عن الأسباب الأخرى الخفية منها إستغلال ثروات و خيرات

الجزائر و موقعها الهام و الحقد على الإسلام و نشر المسيحية وكذلك إستغلال ضعف الأسطول الجزائري بعد معركة نافارين

في الأخير نستنتج أن كل ما جاء في رسالة بولينياك أسباب غير حقيقية يراد منها فقط كسب التأييد الدولي

السؤال الأول : (04 نقاط)

أ / العوامل المتحكمة في هذا التنوع :

- **موقع الجزائر الفلكي** : تمتد الجزائر بين المنطقة المعتدلة و الحارة- **الموقع الجغرافي** : مجاورة الجزائر للبحر المتوسط الذي يجعل الرياح تتشبع ببخار الماء- **منطقة الضغط المرتفع الأزوري** : تتمركز قرب جزر أزور شتاء فتهب رياح غربية على شمال الجزائر وتتسبب في الأمطار- **امتداد التضاريس** : بشكل عرضي مما يجعلها تقف حاجزا طبيعيا أمام المؤثرات المختلفة.- **هبوب الرياح الحارة** : تهب الرياح الجنوبية الحارة (السيروكو) في فصل الصيف نحو الشمال وترفع درجات الحرارة**السؤال الثاني : (02 نقاط)**

ماذا تمثل المعطيات التالية :

1200 كلم	35-م	2308م	16%
طول الشريط الساحلي	شط ملغيغ	طول قمة لالة خديجة	نسبة الإقليم الشمالي للجزائر

الوضعية الإدماجية (04 ن)

الجزائر دولة إفريقية تقع في جزئها الشمالي الغربي ،وتعد من أكبر بلدانها مساحة ،وقد وفر لها موقعها فوائد ومزايا عديدة.

فهي تطل على البحر الأبيض المتوسط الذي أكسبها أهمية تاريخية وجعلها شريكا في أحداث تاريخية هامة ،تتوسط دول

المغرب العربي تساهم في اتصال شطريه الشرقي والغربي ومعبرا إلى العالمين العربي والإسلامي . وتتيح لدول الساحل

الإفريقي من خلال طريق الوحدة الإفريقية الوصول إلى موانئ أوروبا ومنها إلى بقية دول العالم ، وهي منذ القدم ملتقى للطرق

والتبادل والتعاون بين قارات آسيا وإفريقيا وأوروبا.

وقد اكتسبت مكانة دولية بحكم هذا الموقع ونظرة العالم إليها العالم كطرف هام في العلاقات الدولية.

إختبار الثلاثي الأول في مادة التاريخ و الجغرافيا**الجزء الأول: تاريخ****السؤال الأول :** حدد أحداث تواريخ التالية: (03 نقاط)

25 ماي 1830 م - 19 جوان 1830 م - 05 جويلية 1830 م

السؤال الثاني : (03 نقاط)

الوثائق التاريخية هي الشاهد على تاريخ أمة ما . كما أنها تعد من المصادر التي تعتمد عليها الدراسات و الأبحاث التاريخية بشكل أساسي .

أ) اشرح ما تحته خط.

ب) اذكر في نقطتين أهمية الوثيقة التاريخية.

السؤال الثالث : (02 نقاط)

قدم رأيك منتقدا , ما جاء في رسالة بولينياك من مبررات لغزو الجزائر .

السؤال الرابع : (04 نقاط)

اليك الوثيقة التاريخية التالية قم بدارستها من حيث التقديم فقط.

مضمون معاهدة الاستسلام المبرمة بين الداوي حسين و الكونت دي بورمون

1- يسلم حصن القصبه و جميع الحصون الأخرى التابعة للجزائر كذلك ميناء هذه المدينة الى الجيوش الفرنسية هذا الصباح على الساعة العاشرة حسب توقيت فرنسا.

2- يتعهد قائد جنرالات الجيش الفرنسي بأنه يترك لسمو داي الجزائر حريته وكذا جميع ثرواته الشخصية .

3- الداوي حر في الانسحاب مع أسرته و ثرواته الخاصة الى المكان الذي يعينه و سيكون هو وكامل أفراد أسرته تحت حماية قائد جنرالات الجيش الفرنسي و ذلك طيلة المدة التي يبقاها في الجزائر و ستقوم فرقة من الحرس بالسهر على أمنه و أمن أسرته .

4- يضمن قائد الجنرالات نفس المزايا و نفس الحماية لجميع جنود الميليشيا.

5 - تبقى ممارسة الديانة المحمدية حرة كما أنه لن يقع أي اعتداء على حرية السكان من جميع الطبقات ولا على دينهم و أملاكهم و تجارتهم وصناعاتهم و نساءهم .

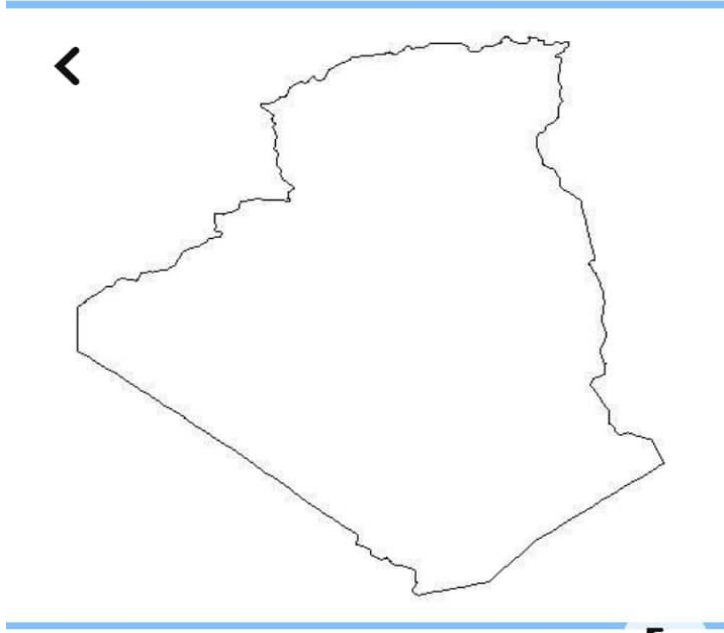
ان قائد الجنرالات يتعهد بشرفه على تنفيذ كل ذلك و ان تبادل هذه الاتفاقية سيحدث قبل الساعة العاشرة من هذا الصباح و بعد ذلك مباشرة تدخل الجيوش الفرنسية الى القصبه ثم الى جميع حصون المدينة

كتاب تاريخ الجزائر العام لعبد الرحمان الجيلالي ج 3 ص (404 - 405)

الجزائر يوم : 5 جويلية 1830

السؤال الأول : (03 نقاط)

أ) اليك خريطة الجزائر الصماء , وقع عليها الأقاليم المناخية ذلك في مفتاح الخريطة .

**السؤال الثاني : (02 نقاط)**

ابرز ثلاثة نقاط الأهمية الإقليمية لموقع الجزائر ؟

السؤال الثالث : (03 نقاط)

تتمتع الجزائر بموقع جغرافي ممتاز جعل منها ذو مكانة إستراتيجية على المستوى الإقليمي و القاري و العالمي المطلوب :

- يتأثر المناخ في الجزائر بعدة عوامل أذكر عاملين منها مع الشرح
- علل تناقص كمية الأمطار كلما اتجهنا من الشمال إلى الجنوب.

السؤال الأول : حدد أحداث تواريخ التالية: (03 نقاط)

- 25 ماي 1830 م : إنطلاق الحملة الفرنسية من ميناء طولون بمرسيليا
- 19 جوان 1830 م : معركة سطاوالي
- 05 جويلية 1830 م : سقوط العاصمة و توقيع معاهدة الإستسلام

السؤال الثاني : (03 نقاط)

الوثائق التاريخية هي الشاهد على تاريخ أمة ما كما أنها تعد من المصادر التي تعتمد عليها الدراسات و الأبحاث التاريخية بشكل أساسي .
أ) اشرح ما تحته خط :

- الوثيقة التاريخية : هي عبارة عن مستندات معاصرة للتاريخ المراد دراسته يعتمد عليها لبناء المعرفة التاريخية
ب) اذكر في نقطتين أهمية الوثيقة التاريخية :
- تعد جزء من الأرشيف الإنساني - تمكن الباحث من فهم الوقائع التاريخية .

السؤال الثالث : (02 نقاط)

قدم رأيك منتقدا , ما جاء في رسالة بولينيّاك من مبررات لغزو الجزائر .

بولينيّاك ذكر في رسالته الأسباب الغير حقيقية لإحتلال الجزائر على راسها حادثة المروحة و القرصنة البحرية و نظام الرق و هي مبررات و ذرائع فقط لأنه أخفى الاسباب الحقيقية المتمثلة في الطمع في خيرات و ثروات الجزائر و الرغبة في نشر المسيحية و القضاء على الدين الإسلامي و نشر الثقافة الغربية الفرنسية و إستغلال تحطم وحدات الاسطول الجزائري في معركة نافارين

السؤال الرابع : (04 نقاط)

اليك الوثيقة التاريخية التالية قم بدارستها من حيث التقديم فقط.

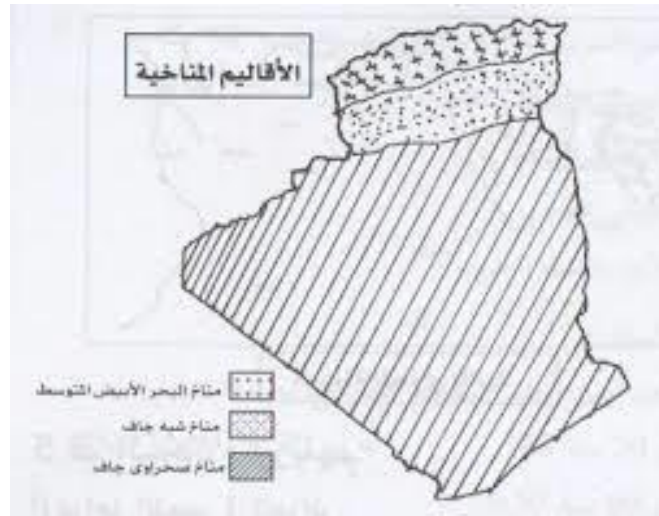
- طبيعتها : معاهدة
- مصدرها : رسمي مأخوذة من كتاب تاريخ الجزائر العام لعبد الرحمان الجيلالي ج 3 ص (404 – 405)
- إطارها الزمني و المكاني : 05 جويلية 1830 م الجزائر العاصمة
- التعريف بصاحبها :

الداي حسين : أخر دايات الجزائر و أشهرهم (1773 م - 1838 م) من أصل تركي عريق تولى الحكم في الفترة الممتدة (1818 م - 1830 م)

ديبورمون (1773 م - 1846 م) : عينه شارل العاشر قائد الحملة الفرنسية على الجزائر في جويلية 1830

السؤال الأول : (03 نقاط)

أ) اليك خريطة الجزائر الصماء , وقع عليها الأقاليم المناخية ذلك في مفتاح الخريطة .

**السؤال الثاني : (02 نقاط)**

أبرز ثلاثة نقاط الأهمية الإقليمية لموقع الجزائر :

- تتوسط الجزائر دول المغرب العربي
- تشر على البحر الأبيض المتوسط
- تعتبر محورا للتبادل التجاري مع دول أوروبا

السؤال الثالث : (03 نقاط)

تتمتع الجزائر بموقع جغرافي ممتاز جعل منها ذو مكانة إستراتيجية على المستوى الإقليمي و القاري و العالمي المطلوب :

- يتأثر المناخ في الجزائر بعدة عوامل أذكر عاملين منها مع الشرح :
- التضاريس : كلما إبتعدنا عن المنطقة الساحلية إزدادت قارية المناخ و تنخفض درجة الحرارة في المناطق الداخلية شتاء و ترتفع صيفا و يزداد المدى الحراري
- القرب و البعد عن المسطحات المائية : تعادل درجات الحرارة في الشريط الساحلي صيفا و شتاء لذلك ينخفض المدى الحراري فالقرب و البعد عن المسطحات المائية يؤثر في المناخ
- علل تناقص كمية الأمطار كلما اتجهنا من الشمال إلى الجنوب : بسبب الإبتعاد عن المسطحات المائية و كذلك وجود الحواجز الطبيعية (سلسلة الأطلس التلي و الأطلس الصحراوي)

إختبار الثلاثي الأول في مادة التاريخ و الجغرافيا**الجزء الأول: تاريخ****السؤال الأول : (04 ن) .**

شكلت المقاومة الوطنية من (1830 – 1953) رد فعل طبيعي للشعب الجزائري على الإستعمار الفرنسي و سياسته

المطلوب :

- عرف المقاومة
- عدد مختلف أساليب و أشكال مقاومة الشعب الجزائري للإستعمار الفرنسي
- حدد مراحل مقاومة الأمير عبد القادر (دون شرح) < إسم المرحلة - إطارها الزمني >

السؤال الثاني : ماذا تمثل التواريخ التالية (02 ن)

25 ماي 1830 م - 5 جويلية 1830 م

الوضعية الإدماجية (04 ن)

بمناسبة الذكرى 65 لإندلاع الثورة التحريرية طلب منكم أستاذ الإجتماعيات دراسة الوثائق المهمة التي كان لها دور في مسير لثورة التحريرية ليقع إتفاقكم حول بيان أول نوفمبر 1954 م

سند 1 : أصدرت جبهة التحرير الوطني بيان أول نوفمبر في شكل نداء موجه إلى كافة شرائح الشعب الجزائري

سند 2 : يهدف بيان أول نوفمبر إلى التوحيد السياسي والاجتماعي لغالبية الشعب تحت لواء جبهة التحرير الوطني

التعليمة : إعتمادا على ما درست و السندات أكتب فقرة عرف بيان أول نوفمبر و أذكر أهميته في مسيرة الثورة ونجاحاتها ؟

الجزء الثاني : جغرافيا**السؤال الأول : (03 نقاط)**

أ / ما هي العلاقة التي تربط المناخ ب الغطاء النباتي - المجاري المائية - التربة

السؤال الثاني : (01 نقاط)

- اشرح تأثير الموقع الفلكي والتضاريس على مناخ الجزائر

السؤال الثالث : علل ما يلي : (03 نقاط)

- تسمى الأودية في الجزائر بالكاذبة ؟
- تناقص الأمطار كلما إتجهنا جنوبا ؟
- تراجع معدل الزيادة الطبيعية في الجزائر ؟

السؤال الأول : (04 ن) .

- تعريف المقاومة : هي ردة فعل مجتمع واعى ضد واقع مرفوض أو غير مشروع أو لمواجهة إستبداد أو ظلم أو إحتلال .

- أساليب و أشكال مقاومة الشعب الجزائري للإستعمار الفرنسي :

أ / المقاومة المنظمة 1830 – 1848 م

ب / المقاومة الشعبية المسلحة 1848 – 1919 م

ج / المقاومة السياسية 1919 – 1954 م

د / الثورة التحريرية : 1954 – 1962 م

- مراحل مقاومة الأمير عبد القادر (دون شرح) < إسم المرحلة - إطارها الزمني >

أ / مرحلة القوة 1832 – 1837 م

ب / مرحلة الهدوء المؤقت وتنظيم الدولة 1837 – 1839 م

ج / مرحلة حرب الإبادة 1839 – 1847 م

السؤال الثاني : ماذا تمثل التواريخ التالية (02 ن)

- 25 ماي 1830 م : إنطلاق الحملة الفرنسية نحو شواطئ الجزائر من ميناء تولون

- 5 جويلية 1830 م : إنعقاد معاهدة الإستسلام بين الداى حسين و الماريشال الفرنسي دي بورمون

الوضعية الإدماجية (04 ن)

يعد بيان أول نوفمبر كدستور للثورة ومرجعها الأول الذي اهتدى به قادة الثورة. وزع تزامنا مع انطلاق الثورة

التحريرية الكبرى ، وقد حدد أهداف الثورة وكافة الأساليب المتاحة والممكنة لتحقيق الاستقلال وبناء الدولة الجزائرية المعاصرة

، ويوضح كيفيات التعامل مع السلطات الاستعمارية خلال فترات الحرب والسلم ، ويطالبهم بالالتفاف حول ثورتهم . و كان بيان

أول نوفمبر يهدف إلى تحديد هوية الجزائريين. و كذلك لإكساب الثورة شرعية وتدعيما شعبيا حيث رمى بالثورة إلى الشعب

بالإضافة إلى التوحيد السياسي والاجتماعي لغالبية الشعب تحت لواء جبهة التحرير الوطني لتأكيد على الوحدة الجغرافية للوطن

. وكذلك التأكيد على الطابع السلمي في الثورة حالة التفاوض .

و في الأخير نستنتج أن بيان أول نوفمبر يعتبر من أهم الوثائق التاريخية التي ساهمت في توحيد آراء و توجهات الشعب

السؤال الأول : (04 نقاط)

أ / العلاقة التي تربط المناخ :

- بالغطاء النباتي : يكثر الغطاء النباتي في المناطق التي تعرف تساقط الأمطار بغزارة في حين تقل كثافة الغطاء النباتي كلما توجهنا جنوبا لقلّة التساقط
- بالمجاري المائية : تتواجد الأودية الأكثر جريانا في القسم التالي بفعل الامطار في حين تكاد تختفي في المنطقة الجنوبية و التي تمتاز بمناخ جاف
- بالتربة : تكون التربة أكثر خصوبة في الساحل و بأقل درجة في الهضاب و تكاد تكون غير صالحة (رملية) في الجنوب و ذلك تحت تأثير وجود الأمطار أو غيابها .

السؤال الثاني : (02 نقاط)

تأثير الموقع الفلكي والتضاريس على مناخ الجزائر :

- موقع الجزائر بين العروض الحارة جنوبا والعروض المعتدلة شمالا
- التباين في توزيع الحرارة
- من حيث الامتداد من الجنوب الغربي إلى الشمال الشرقي
- من حيث الارتفاع بين الإقليمين الغربي والشرقي

السؤال الثالث : علل ما يلي : (02 نقاط)

- تسمى الأودية في الجزائر بالكاذبة : لأنها تظهر فجأة و تختفي فجأة لإعتمادها على تساقط الأمطار و إذا ما فاضت فإنها تغرق الجميع في طريقها
- تناقص الأمطار كلما إتجهنا جنوبا : يعود ذلك إلى الإبتعاد عن المسطحات المائية (البحار) و كذلك وجود السلاسل الجبلية الكبيرة و التي تقف كحاجز أمام السحب المشبعة ببخار الماء فتمنعها من المرور نحو الجنوب و تسقط في الشمال
- ترجع معدل الزيادة الطبيعية في الجزائر : بسبب السياسة السكانية التي اتبعتها الجزائر وهي التوعية بضرورة التخطيط العائلي عن طريق تنظيم النسل وتباعد الولادات وكذلك تحسن في مستوى المعيشة والعناية الصحية وظروف التعليم ساهم في تناقص معدل المواليد .

إختبار الثلاثي الأول في مادة التاريخ و الجغرافيا**الجزء الأول : تاريخ****السؤال الأول : (03 ن)**

حدد أحداث التواريخ التالية :

12 ماي 1830 م - 29 أفريل 1827م - 19 جوان 1830 م .

الوضعية الثانية : (04 ن)

- تضمنت رسالة بولينياك المبررات و الذرائع لقيام فرنسا باحتلال الجزائر
* في جدول من انجازك , أذكر دوافع تخص فرنسا و اخرى تخص دول أوروبا عامة .

دوافع تخص فرنسا	دوافع تخص دول أوروبا

الوضعية الإدماجية : (04 نقاط)

السياق : أوكل لكم أستاذ المادة مهمة انجاز موضوع عن بيان نوفمبر و دوره في انجاح مسيرة الثورة التحريرية لنشره في صفحة التاريخ لمجلة المؤسسة .

السند 01 : يعتبر بيان نوفمبر بمثابة دستور الثورة و روحها .

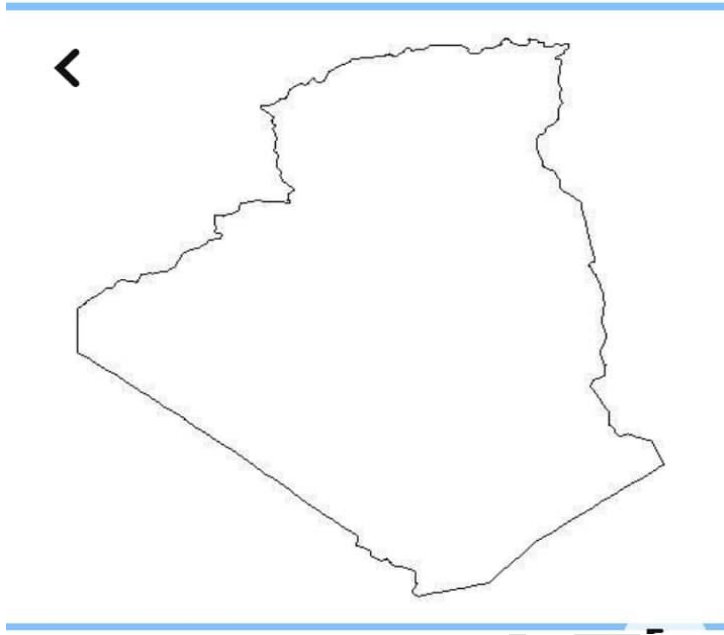
السند 02 : تضمن البيان أسباب اندلاع الثورة وأهدافها الداخلية و الخارجية .

السند 03 : دعا البيان الى التقاف الشعب حول الثورة .

التعليمة : أكتب فقرة لا تقل عن 08 أسطر حول الموضوع , مستثمرا السندات و مواردك السابقة

الوضعية الأولى : (02 نقاط)

- حدد على خريطة الجزائر تضاريس القسم الشمالي و الجنوبي

**الوضعية الثانية : (03 نقاط)**

صنف ما يلي في جدول : جبال جرجرة - العرق الشرقي الكبير - هضبة تادمايت - سهل متيجة - حمادة الدراع - تاهاث أتاكور - قمة شيليا - شط ملغيغ - سهل وهران .

الاقليم الشمالي للجزائر	الاقليم الجنوبي للجزائر

السؤال الثالث : (03 نقاط)

علل ما يلي :

- قلة التساقط كلما إتجهنا من الشمال إلى الجنوب
- قلة التساقط كلما إتجهنا من الشرق نحو الغرب
- قلة الغطاء النباتي كلما إتجهنا من الشمال إلى الجنوب

السؤال الأول : حدد أحداث التواريخ التالية: (03 ن)

- 12 ماي 1830 م : رسالة بولينياك
- 29 أبريل 1827م : حادثة المروحة
- 19 جوان 1830 م : معركة سطاوالي

الوضعية الثانية : تضمنت رسالة بولينياك المبررات و الذرائع لقيام فرنسا باحتلال الجزائر (04 ن)
* في جدول من انجازك , أذكر دوافع تخص فرنسا و اخرى تخص دول أوروبا عامة .

دوافع تخص فرنسا	دوافع تخص دول أوروبا
حادثة المروحة	القرصنة البحرية
هدم الداي حصون صيد المرجان	إلغاء نظام الرق
إيجاد مكان للفنائس السكاني في فرنسا	نشر المسيحية

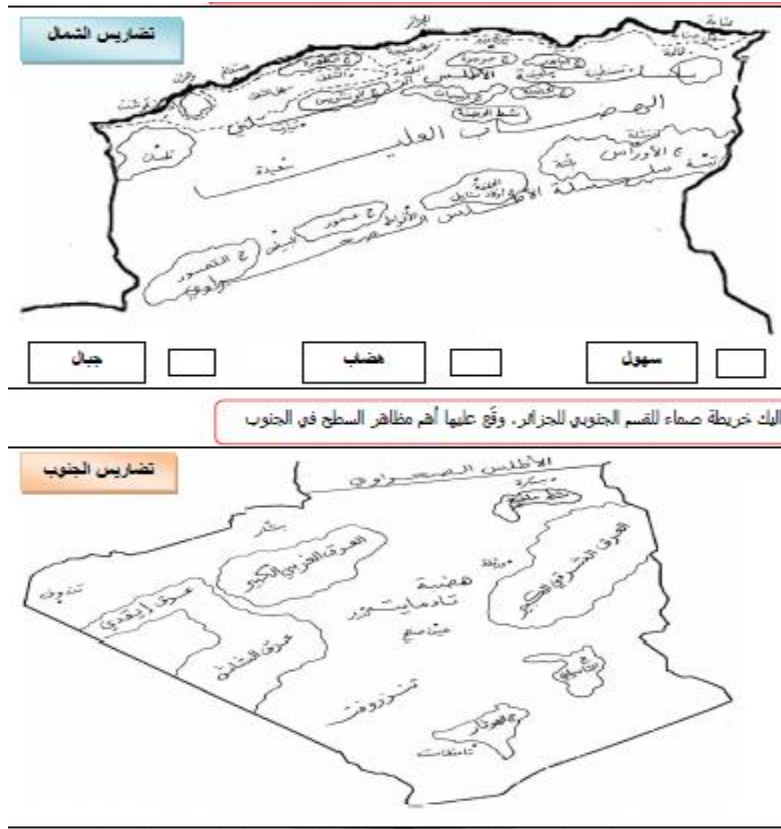
الوضعية الإدماجية (04 ن)

بعد أكثر من قرن عاني فيها الشعب الجزائري من التعذيب و التنكيل قرر القيام بخطوة جريئة تضمن له مستقبل يسوده الأمن و السلام دون وجود أثر لأي قوة إستعمارية و ذلك من خلال القيام بثورة شعبية كبيرة لطرد الفرنسيين من الجزائر و كانت بداية هذا المخطط هو إصدار بيان أول نوفمبر فما هو مضمون هذا البيان و ما هو دوره في انجاح مسيرة الثورة ؟

يعد بيان أول نوفمبر الوثيقة الأولى لجبهة التحرير الوطني التي أزالت الغموض على الشعب وأفهمته مقاصد الثورة وشجعتة للانضمام إليها ، وحددت طرق التعامل مع المستعمر ومبادئ الدولة بعد الاستقلال و لقد وفق بيان أول نوفمبر في تحديد دوافع اللجوء للعمل المسلح في مقاطع كثيرة منها وتشجيع الشعب الجزائري على الإنضمام للثورة التحريرية الكبرى لطرد الإستعمار و تقديم الدعم المادي و المعنوي لإنجاح الكفاح المسلح و الوصول بالفكرة الرئيسية وهي الحصول على الحرية إلى بر الأمان وذلك من خلال الإلتفاف حول جبهة التحرير الوطنية و مسانبتها في بيانها و ندائها للشعب بهدف المشاركة في الثورة التحريرية في الأخير نستنتج أن بيان أول نوفمبر يعتبر من الوثائق التاريخية المهمة في تاريخ الجزائر بالنظر إلى الخدمات الجليلة التي قدمها للثورة التحريرية من خلال حشد تأييد و مساندة الشعب لها

الوضعية الأولى : (02 نقاط)

1- تضاريس الإقليم الشمالي و الجنوبي للجزائر :

**الوضعية الثانية : (03 نقاط)**

صنف ما يلي في جدول : جبال جرجرة - العرق الشرقي الكبير - هضبة تادمايت - سهل متيجة - حمادة الدراع - تاهات أتاكور - قمة شيليا - شط ملغيغ - سهل وهران .

الاقليم الشمالي للجزائر	الاقليم الجنوبي للجزائر
جبال جرجرة - سهل متيجة - قمة شيليا	العرق الشرقي الكبير - هضبة تادمايت - حمادة الدراع - تاهات أتاكور - شط ملغيغ
سهل وهران	

السؤال الثالث : علل ما يلي : (03 نقاط)

- قلة التساقط كلما إتجهنا من الشمال إلى الجنوب : بسبب الإبتعاد عن المسطحات المائية و كذلك وجود الحواجز الطبيعية (سلسلة الأطلس التلي و الأطلس الصحراوي)
- قلة التساقط كلما إتجهنا من الشرق نحو الغرب : بسبب وجود جبال البرانس و الاطلس التي تقف كحاجز
- قلة الغطاء النباتي كلما إتجهنا من الشمال إلى الجنوب : بسبب قلة التساقط كلما إتجهنا من الشمال غلى الجنوب للإبتعاد عن المسطحات المائية وكذلك نوعية التربة التي تتدرج خصوبتها من الشمال إلى الجنوب

إختبار الثلاثي الأول في مادة التاريخ و الجغرافيا

الجزء الأول: تاريخالسؤال الأول : (05 نقاط)

أ / عرف بالشخصيات التالية : الأمير عبد القادر - دي بورمون
 ب / على سلم زمني بمقياس 1 سم لكل سنتين حدد الأحداث التالية بتواريخها :
 سقوط العاصمة - مبايعة الأمير عبد القادر - صد أحمد باي للحملة الأولى على قسنطينة - معاهدة التافنة

السؤال الثاني : (03 نقاط)

تمكن الفرنسيون من دخول العاصمة بعد توقيع معاهدة الإستسلام مع الداى حسين يوم 05 جويلية 1830 م
 أ / ما هي النتائج المترتبة عن سقوط الجزائر و دخول الفرنسيين ؟

السؤال الثالث : (05 نقاط)

ضع العبارات في مكانها المناسب داخل الجدول : سلب الأرض باسم المصلحة العامة - اعتبار العربية لغة أجنبية -- التبشير
 بالمسيحية - تشجيع الهجرة نحو الجزائر - اعتبار الجزائر قطعة فرنسية

سياسة التنصير	سياسة الفرنسة	سياسة الاستيطان	سياسة مصادرة الأرض	سياسة الادماج

الجزء الثاني: جغرافيا (07 ن)السؤال الأول : (03 نقاط)

إن لموقع الجزائر و تضاريسها ومناخها خصائصها مما جعل الشبكة الهيدروغرافية تتميز بتنوع الأودية
 المطلوب :

- أذكر مميزات الأودية في الجزائر
- حدد طبيعة العلاقة القائمة بين التساقط و المجاري المائية (الشبكة الهيدروغرافية)

السؤال الثاني : (02 نقاط)

عرف مايلي : المدى الحراري - الأحواض

الوضعية الإدماجية (05 ن)

قرأ والدك تقريرا إقتصاديا عن تهافت الشركات الأجنبية للإستثمار في الجزائر فسألك عن سبب ذلك و لم إختارات كل تلك
 الشركات الجزائر فضلا عن غيرها من البلدان

التعليمة : إعتمادا على المكتسبات القبلية و ما درست أكتب فقرة تحيب فيها عن تساؤل والدك

السؤال الأول : (05 نقاط)

أ / تعريف الشخصيات التالية :

- **الأمير عبد القادر** : سياسي وأديب جزائري قاد المقاومة في الغرب الجزائري ضد الفرنسيين ما بين 1832-1847- **دي بورمون** : قائد الحملة الفرنسية على الجزائر عام 1830 م

ب / على سلم زمني بمقياس 1 سم لكل سنتين حدد الأحداث التالية بتواريخها :

سقوط العاصمة - مبايعة الأمير عبدالقادر - صد أحمد باي للحملة الأولى على قسنطينة - معاهدة التافنة

1838 1837 1836 1834 1832 1830



الرسم (01 ن) - تحديد التواريخ على (04 ن)

السؤال الثاني : (04 نقاط)

نتائج سقوط العاصمة و بداية الإحتلال الفرنسي :

- ضياع السيادة الوطنية
- نهاية الحكم العثماني في الجزائر
- بداية تطبيق السياسة الاستعمارية التي استهدفت مقدسات الجزائر وهويتها وخيراتها.
- اندلاع المقاومة الرفضة للاستعمار

السؤال الثالث : (04 نقاط)

سياسة التنصير	سياسة الفرنسة	سياسة الاستيطان	سياسة مصادرة الأرض	سياسة الادمج
التبشير بالمسيحية	اعتبار العربية لغة أجنبية	تشجيع الهجرة نحو الجزائر	سلب الأرض باسم المصلحة العامة	اعتبار الجزائر قطعة فرنسية

السؤال الأول : (03 نقاط)

- مميزات الأودية في الجزائر :
- التذبذب وعدم الانتظام في تصريف المياه تضيف شتاء بفعل غزارة الأمطار ويجف معظمها صيفا بسبب الجفاف
- قصر طولها وتعرجاتها لتتبع التضاريس وفرة مياهها شمالا وقلة تدفقها جنوبا
- غير صالحة للملاحة و تركز أغلبها في القسم الشمالي
- حدد طبيعة العلاقة القائمة بين التساقط و المجاري المائية (الشبكة الهيدروغرافية)
- أغلب المجاري المائية (الأودية) في الجزائر تعتمد على تساقط الأمطار و بالتالي جريانها متوقف على مدى تساقط الأمطار و تجف عند توقف الامطار عن التساقط يطلق على بعضها إسم الأودية الكاذبة لأنها تنشط في مدة صغيرة و تتوقف في نفس الوقت

السؤال الثاني : شرح المصطلحات (02 نقاط)

- المدى الحراري : هو الفرق بين أعلى و أدنى درجة حرارة خلال مدة زمنية معينة
- الأحواض : سهول منخفضة تكون بمحاذاة الجبال في المناطق الداخلية

الوضعية الإدماجية (04 ن)

الجزائر دولة إفريقية تقع في جزئها الشمالي وتعد من أكبر بلدانها مساحة ،وقد وفر لها موقعها فوائد ومزايا عديدة.

فهي تطل على البحر الأبيض المتوسط الذي أكسبها أهمية تاريخية وجعلها شريكا في أحداث تاريخية هامة ،تتوسط دول المغرب العربي تساهم في اتصال شطريه الشرقي والغربي ومعبرا إلى العالمين العربي والإسلامي . وتتيح لدول الساحل الإفريقي من خلال طريق الوحدة الإفريقية الوصول إلى موانئ أوروبا ومنها إلى بقية دول العالم ، وهي منذ القدم ملتقى للطرق والتبادل والتعاون بين قارات آسيا وإفريقيا وأوروبا. وقد اكتسبت مكانة دولية بحكم هذا الموقع ونظرة العالم إليها كطرف هام في العلاقات الدولية