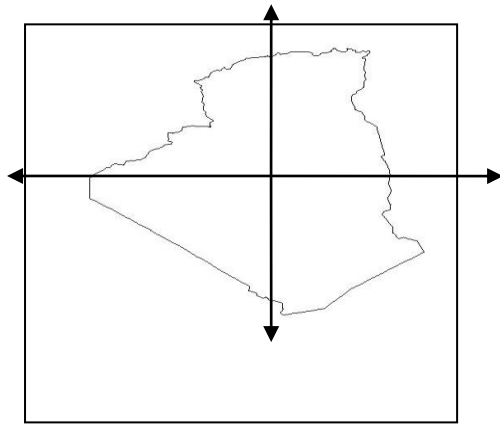
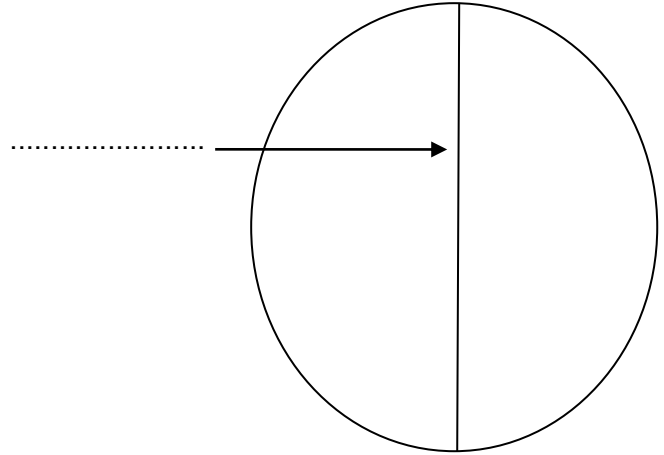
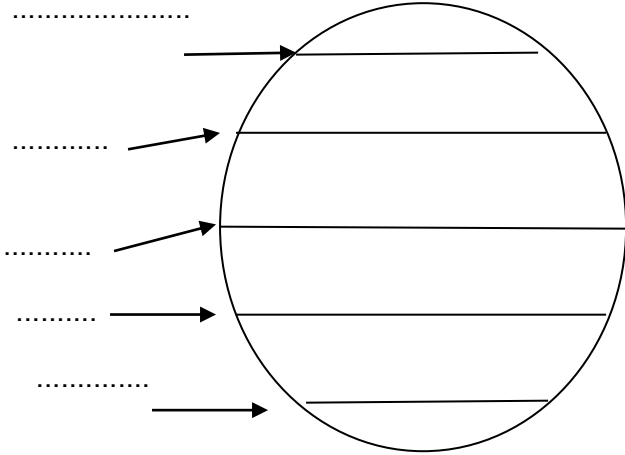


اختبار الفصل الثالث في نشاط الجغرافيا (س 3)

س1 : ضع البيانات الآتية في مكانها المناسب .

خط الاستواء - مدار الجدي - مدار السرطان - الدائرة القطبية الشمالية - الدائرة القطبية الجنوبية - خط غرينتش



س2 : أنجز على الخريطة متبعا الخطوات التالية:

1*ألون الشريط الساحلي بالأخضر

2*ألون المناطق الداخلية بالبنّي

3*ألون المناطق الصحراوية بالأصفر

4*أسمي الجهات الأساسية

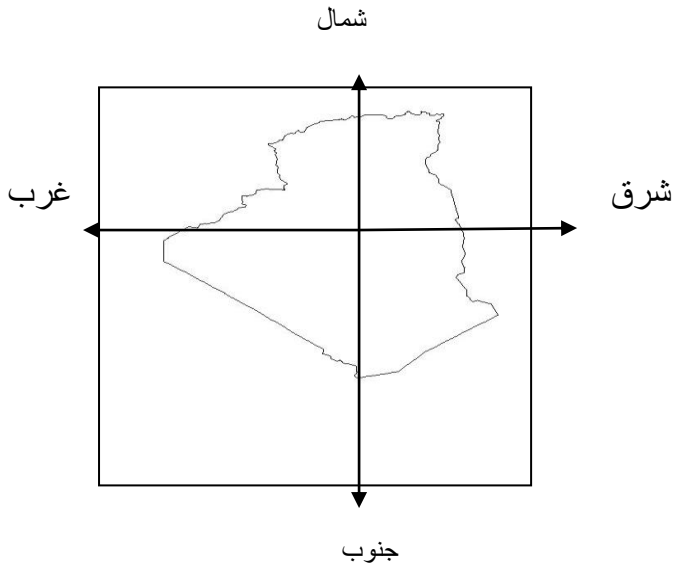
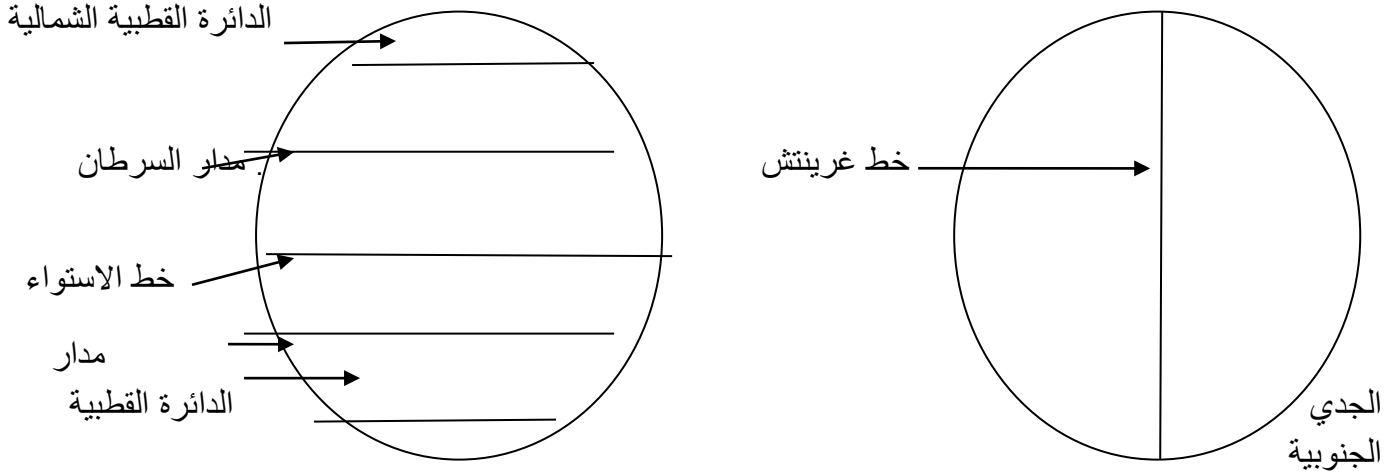
س3 : أربط بسهم مايناسب كل مجموعة .

- | | |
|--------------------|---------------------|
| من مظاهر الريف * | * قلة المدارس |
| من مظاهر المدينة * | * كثرة المراعي |
| | * محلات تجارية كبرى |
| | * نقاء الجو |

الأجوبة

ج 1 : : ضع البيانات الآتية في مكانها المناسب.

خط الاستواء - مدار الجدي - مدار السرطان - الدائرة القطبية الشمالية - الدائرة القطبية الجنوبية - خط غرينتش



ج 2 : أنجز على الخريطة متبعا الخطوات التالية:

- 1* ألون الشريط الساحلي بالأخضر
- 2* ألون المناطق الداخلية بالبنّي
- 3* ألون المناطق الصحراوية بالأصفر
- 4* أسمى الجهات الأساسية

ج 3 : أربط بسهم مايناسب كل مجموعة .

- | | | | | |
|-------------------|---|---|---|------------------|
| قلعة المدارس | * | ← | * | من مظاهر الريف |
| كثرة المراعي | * | ← | * | |
| محلات تجارية كبرى | * | ← | * | من مظاهر المدينة |
| نقاء الجو | * | ← | * | |

اختبار الفصل الثالث في نشاط التاريخ (س 3)

س1: شطب على العبارة الخاطئة .

في 1 نوفمبر 1954 وجهت جماعة من المجاهدين نداء إلى الشعب (الجزائري - الفرنسي) .
سمي بيان أول نوفمبر (1954 - 1945) .
السلم الزمني نسجل عليه (الأبحاث - الأحداث) .
أخذت الجزائر استقلالها يوم 5 جويلية (1962 - 1862)
(الشهيد - المجاهد) هو الذي استشهد من أجل دينه ووطنه
دام الاستعمار الفرنسي للجزائر (132 - 7 سنوات ونصف) سنة .

س2 : أكمل الفراغ بما يناسبه .

عنوان النشيد الوطني الرسمي لبلادي
ألفه شاعر الثورة في شهر أبريل سنة
حيث انضم إلى الثورة سنة

س3 : اذكر أربعة شهداء الوطن أثناء الاستعمار الفرنسي الغاشم .

.....
.....
.....

س4 : استخراج من الفقرة الموالية العبارات المطابقة للأفعال الآتية .

احتلال — مقاتلة — دعوة — التحرر — المناضلين

في 01 نوفمبر 1954 وجهت جماعة من المجاهدين نداء إلى الشعب الجزائري تدعوه إلى محاربة الاستعمار الفرنسي,
وإخراجه من الجزائر من أجل الحصول على الاستقلال . وسمي هذا النداء بـ : بيان أول نوفمبر 1954 .

احتلال =

دعوة =

المناضلين =

الأجوبة

ج 1: شطب على العبارة الخاطئة .

في 1 نوفمبر 1954 وجهت جماعة من المجاهدين نداء إلى الشعب (الجزائري - الفرنسي) .
سمي بيان أول نوفمبر (1954 - 1945) .

السلم الزمني نسجل عليه (الأبحاث - الأحداث) .

أخذت الجزائر استقلالها يوم 5 جويلية (1962 - 1862)

(الشهيد - المجاهد) هو الذي استشهد من أجل دينه ووطنه

دام الاستعمار الفرنسي للجزائر (132 - 7 سنوات ونصف) سنة .

ج 2 : أكمل الفراغ بما يناسبه .

عنوان النشيد الوطني الرسمي لبلادي **قسما**

ألفه شاعر الثورة **مفدي زكرياء** في شهر أبريل سنة **1955**

حيث انضم إلى الثورة سنة **1955**

ج 3 : اذكر أربعة شهداء الوطن أثناء الاستعمار الفرنسي الغاشم.

سي الحواس - ديدوش مراد - العربي بن مهدي - زيغود يوسف - باجي مختار - الجيلالي بونعامة - حسبية
بن بو علي - مصطفى بن بولعيد - العقيد لطفى - ادريس عمر ...

ج 4 : استخراج من الفقرة الموالية العبارات المطابقة للأفعال الآتية .

احتلال - مقاتلة - دعوة - التحرر - المناضلين

في 01 نوفمبر 1954 وجهت جماعة من المجاهدين نداء إلى الشعب الجزائري تدعوه إلى محاربة الاستعمار الفرنسي،

وإخراجه من الجزائر من أجل الحصول على الاستقلال . وسمي هذا النداء بـ : بيان أول نوفمبر 1954 .

احتلال = الاستعمار مقاتلة = محاربة

دعوة = نداء التحرر = الاستقلال

المناضلين = المجاهدين