

الجمهورية الجزائرية الديمقراطية الشعبية

وزارة التربية الوطنية

السنة الدراسية : 2017/2016

اختبار للفصل الأول في مادة التاريخ

المدرسة : حريزية عابد

السنة الثالثة





التمرين الأول : أكتب حدثان شخصيان يخصانك :

-
-

التمرين الثاني : أكمل مايلي :

ولدت يوم من الشهر سنة ببداية دائرة ولاية

التمرين الثالث : أتمم بما يناسب من حيث الزمن :

عطلة الصيف	عطلة الربيع	عطلة الشتاء	الدخول المدرسي
			
.....

التمرين الرابع : أربط كل ما يناسب بطبيعتها :

عيد الطفل	ديني	عيد الأضحى
عيد الفطر	عالمي	عيد الاستقلال
	وطني	

الجمهورية الجزائرية الديمقراطية الشعبية

وزارة التربية الوطنية

السنة الدراسية : 2017/2016

اختبار للفصل الأول في مادة الجغرافيا
السنة الثالثة

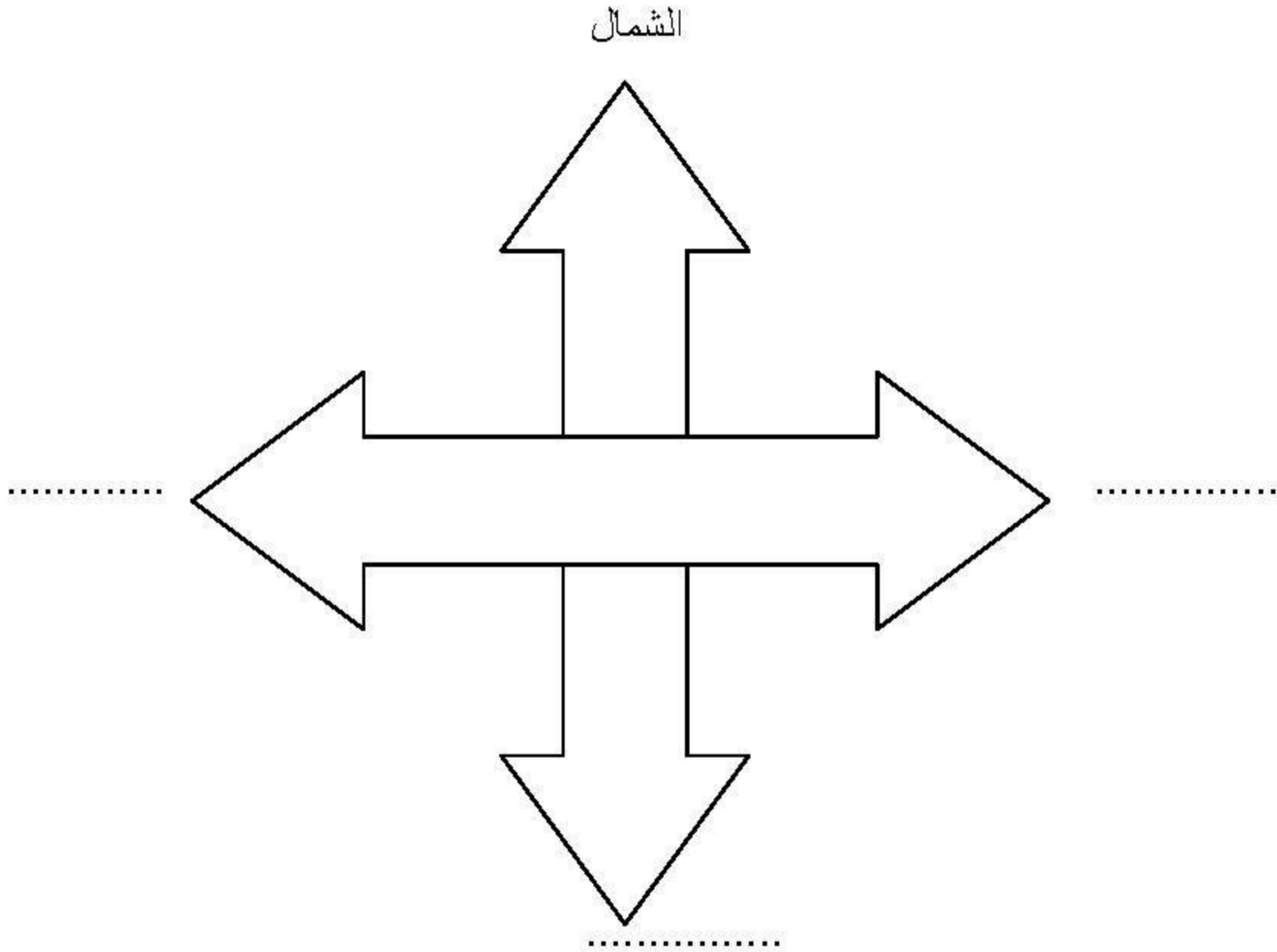
المدرسة : حريزية عابد

التمرين الأول : عرف المعلم ؟

التمرين الثاني :

- اسم الحي الذي أسكن فيه هو :
- اسم البلدية التي اقيم فيها هي :
- اسم ولايتي هي :
- رقمها الجغرافي هو :

التمرين الثالث : عين الاتجاهات المعلم :



التمرين الرابع : أذكر الجهات الفرعية الأخرى ؟

.....