

وزارة التربية الوطنية
مديرية التربية لولاية سطيف
ثانوية الاخوين حوفي -العلمة

مارس 2023
المدة: 02 سا

المستوى: سنة ثانية ثانوي علوم تجريبية +رياضي +تقني

الاختبار الثاني للثلاثي الثاني في مادة التاريخ والجغرافيا

التاريخ:

الجزء الأول (06 نقاط)

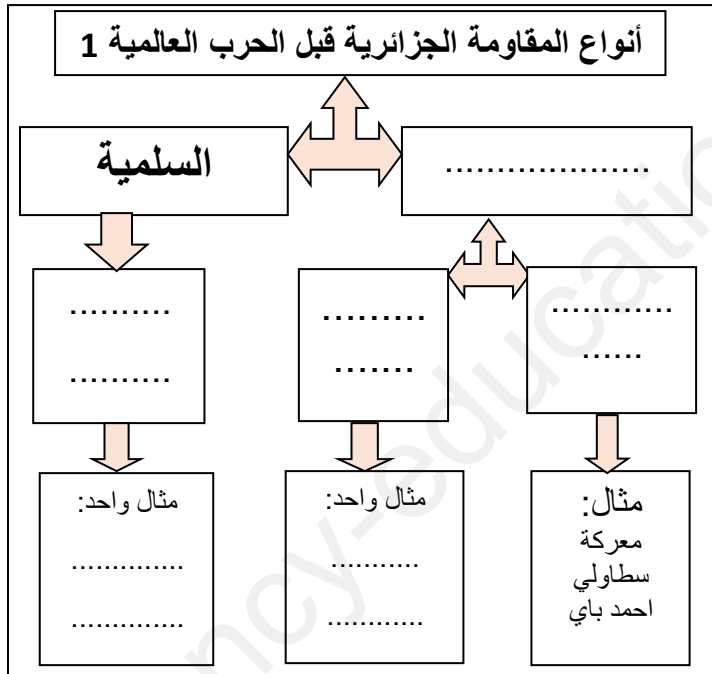
النص: بالنظر إلى مطالبها، خاصة مع مطلع 20 وقبل الحرب العالمية الثانية، يمكننا القول بأن الحركة الوطنية حديثة جدا، بدأت في كنف الإدارة الاستعمارية ونضجت ببطء شديد، قبل ظهور تيارين آخرين: الثوري الاستقلالي والإصلاحي الديني. ولقد كانت المقاومة خاصة الشعبية منها أكثر راديكالية من الحركة الوطنية، ويجب انتظار تردّي أوضاع سكان الأرياف لكي يضطر الكثير منهم إلى الهجرة إلى المدن الجزائرية والفرنسية، "هربا من الجوع". وحين نُكفُّ الأحزاب السياسية عن الحديث باسم الشعب، وتشرع في الحديث عنه وإليه، فإن شيئا من قبيل التحول النوعي يأخذ طريقه إلى الوضوح ليُظهر في النهاية أن "التيار الوطني يستند إلى الرفض الشعبي للنظام الاستعماري.

المرجع: tele-ens.univ-oeb.dz/moodle/mod/resource/ محاضرة 06 نشأة وتطور الحركة الوطنية الجزائرية p.11 Mahfoud KADDACHE., op.cit.,

1- اشرح ما تحته خط في النص (02ن).

2- عرف الشخصيات التالية: فرحات عباس - مصالي الحاج (1.5ن).

3- أكمل المخطط التالي (1.5ن):



4- أكمل الجدول التالي (01ن):

التاريخ	الحدث
05 ماي 1931
.....	اصدار بيان الشعب الجزائري

الجزء الثاني: (04 نقاط)

انطلاقا من النص أعلاه وبالاعتماد على ما درست اكتب مقالا تاريخيا تبين فيه:

أ- مطالب التيارين المذكورين في النص أعلاه.

ب- انعكاسات المقاومة (النضال) المشار له في النص.

-انتهى موضوع التاريخ (10 نقاط من 20)

*عجز الميزان التجاري * القدرة الشرائية * المستوى المعيشي * النزوح الريفي.

2- اليك الجدول الاحصائي التالي الذي يمثل تطور التجارة الخارجية للجزائر بين 2012 الى 2021 بالمليار دولار. (تم تقريب النواتج والغاء الفاصلة)

السنة	2012	2013	2014	2016	2017	2019	2020	2021
الصادرات	72	65	61	30	35	36	24	39
الواردات	42	55	59	50	46	42	34	37
الميزان التجاري

المصدر: <https://www.douane.gov.dz/?lang=ar> <https://www.mf.gov.dz/index.php/fr/taux-d-inflation>

المطلوب: أحسب الميزان التجاري للجزائر ثم حول معطيات الميزان التجاري فقط بدلالة السنوات الى منحى بياني حيث: (02ن)

01 سم ----- 01 سنة // 01 سم ----- 05 مليار دولار.

ب- علق على الشكل البياني الناتج بمنهجية (التقديم - التحليل (على شكل مطات عناصر وليس فقرة) - الاستخلاص): (03ن)

03- اجب على الأسئلة التالية: (2.5ن) بالاعتماد على مكتسباتك القبلة وعلى ما درست.

أ- التحديات التي تواجه النمو الاقتصادي في الجزائري؟

ب- الطرق او الاستراتيجيات التي على الدولة الجزائرية اتباعها للتحكم في التكنولوجيا والحصول عليها؟

ج- ما لحلول المقترحة لمعالجة ظاهرة النزوح الريفي في الجزائر؟

ملاحظات هامة:

- 1- الإجابة تكون على شكل مطات (عناصر) ويمنع كتابة فقرة.
- 2- إضافة عناصر في الإجابة غير مطلوبة في السؤال تفقد العلامة مهما كانت الإجابة.
- 3- الرسم يكون على ورق مليمترى مع الصاقه وكتابة الاسم واللقب والقسم فيه.
- 4- التقيد بالمقياس المعطى واي تغير في المقياس تفقد العلامة الكاملة.

- بالتوفيق -

الإجابة النموذجية للاختبار الثاني للثلاثي الثاني في مادة التاريخ والجغرافيا

التاريخ:

1- شرح ما تحته خط في النص 02ن

المقاومة: رد فعل سياسي أو عسكري يعبر عن رفض التدخل الأجنبي (الاستعماري). **0.5ن**
الحركة الوطنية: هي مجموعة الأحزاب السياسية والتنظيمات المختلفة والشخصيات الفاعلة التي تمارس النضال من أجل القضية الوطنية ونشر الوعي وتحقيق البديل الأفضل للشعب والوطن. **0.75ن**
الأحزاب السياسية: التنظيمات الحزبية المعتمدة والتي تضم عدد من المنخرطين والمناضلين ويتبنى اتجاه معين. **0.75ن**

2- التعريف بالشخصيات التالية 1.5ن:

فرحات عباس: سياسي جزائري ادماجي، أسس سنة 1938 "اتحاد الشعب الجزائري"، ثم التحق بجبهة التحرير سنة 1956، كان أول رئيس للحكومة الجزائرية المؤقتة من القاهرة. **0.75ن**

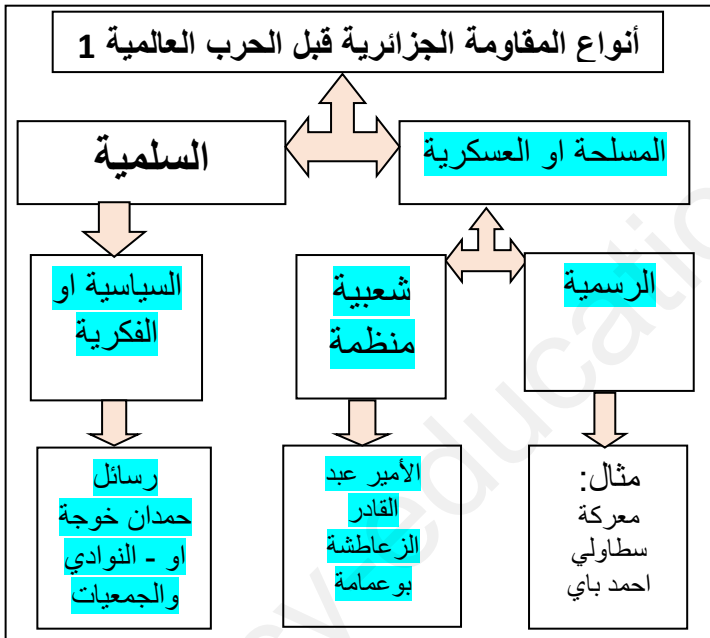
مصالي الحاج: من أبرز قادة الحركة الوطنية، أين انخرط في النضال السياسي مع نجم شمال إفريقيا ثم أصبح زعيم التيار الاستقلالي في الجزائر أسس حزب الشعب وحركة الانتصار للحريات الديمقراطية. **0.75ن**

3- اكمال المخطط (0.25*06 = 1.5ن)

+ ذكر المقاومات التي ظهر قبل 1914 مهما كان نوعها.
 مقاومة خارج الفترة المذكورة تعتبر إجابة خاطئة.
 + تقبل إجابات أخرى حسبما درسه المتعلم.

4- اكمال الجدول التالي:

التاريخ	الحدث	التنقيط
05 ماي 1931	تأسيس جمعية العلماء المسلمين	0.5ن
10 فيفري 1943	اصدار بيان الشعب الجزائري	0.5ن



المقدمة: **0.5ن** تنوع اساليب النضال السلمي ضد الاستعمار بغية تحقيق اهداف متنوعة كان لها انعكاسات مختلفة.

2-انعكاسات او نتائج المقاومة السلمية: (1.5ن)

-دافعت عن هوية الشعب وانتماه الحضاري والديني من خلال جمعية العلماء المسلمين وافشال المخططات الإدماجية.
 -أسهمت في نشر الوعي الوطني واعداد جيل الثورة والاستقلال.
 -أكدت أهمية التلاحم والاتحاد والتعاون من أجل تحرير البلاد من خلال بيان فيفري 1943.
 -كشف جرائم الاحتلال الفرنسي في المحافل الدولية

1-التيارين المذكورين في النص: الاستقلالي والاصلاحي

مطالب التيار الاستقلالي: -الاستقلال الكلي عن فرنسا. وجلاء قواتها - انشاء جيش وطني الغاء قانون الأهالي - الحقوق السياسية والاجتماعية. العفو عن المعتقلين. **(0.75ن)**
مطالب التيار الإصلاحي: +الحفاظ على الثقافة العربية الاسلامية. +القضاء على الخرافات والبدع. +تهيئة الشباب الجزائري للنضال في المستقبل. +توحيد الشعب تحت راية العروبة والإسلام. +رفض التجنيس والادماج **(0.75ن)**

تقبل إجابات أخرى حسب ما درسه التلميذ

الخاتمة: **0.5ن** المقاومة السياسية السلمية واهميتها في مواجهة السياسات الاستعمارية، ومطالبة الشعب بالحرية .

01- شرح المفاهيم التالية: (2.5ن)

عجز الميزان التجاري: هو ان تكون قيمة الواردات أكبر من قيمة الصادرات. **0.5ن**

القدرة الشرائية: قدرة المستهلك على شراء السلع والخدمات اللازمة له نظير دخله. **0.5ن**

المستوى المعيشي: كل ما يتمتع به الفرد من ملابس ومأكل ومسكن ويتحدد ذلك بمستوى الدخل الفردي والبيئة التي يعيش فيها

والطبقة الاجتماعية التي ينتمي إليها. **0.75ن**

النزوح الريفي: هو الانتقال من الريف الى المدينة والاستقرار فيها، لظروف اقتصادية واجتماعية معينة. **0.75ن**

2- اليك الجدول الاحصائي التالي الذي يمثل تطور التجارة الخارجية للجزائر بين 2012 الى 2021 بالمليار دولار. (تم تقريب النواتج والغاء الفاصلة)

السنة	2012	2013	2014	2016	2017	2019	2020	2021
الصادرات	72	65	61	30	35	36	24	39
الواردات	42	55	59	50	46	42	34	37
الميزان التجاري	30	10	02	- 20	- 11	- 6	- 10	02

المصدر: <https://www.douane.gov.dz/?lang=ar> <https://www.mf.gov.dz/index.php/fr/taux-d-inflation>

أ- تحويل معطيات الميزان التجاري الى منحني بياني (نقطتين مع الحساب):

الإنجاز: 01ن + المفتاح: 0.25ن + المقياس: 0.25ن + العنوان: 0.25ن.

ب- التعليق (03نقاط):

التقديم: وثيقة جغرافية اقتصادية عبارة عن منحني بياني يمثل تطور الميزان التجاري الجزائري من سنة 2012 الى 2021. **0.5ن**

التحليل: 02ن

*التباين والتفاوت في قيم الميزان التجاري الجزائري.

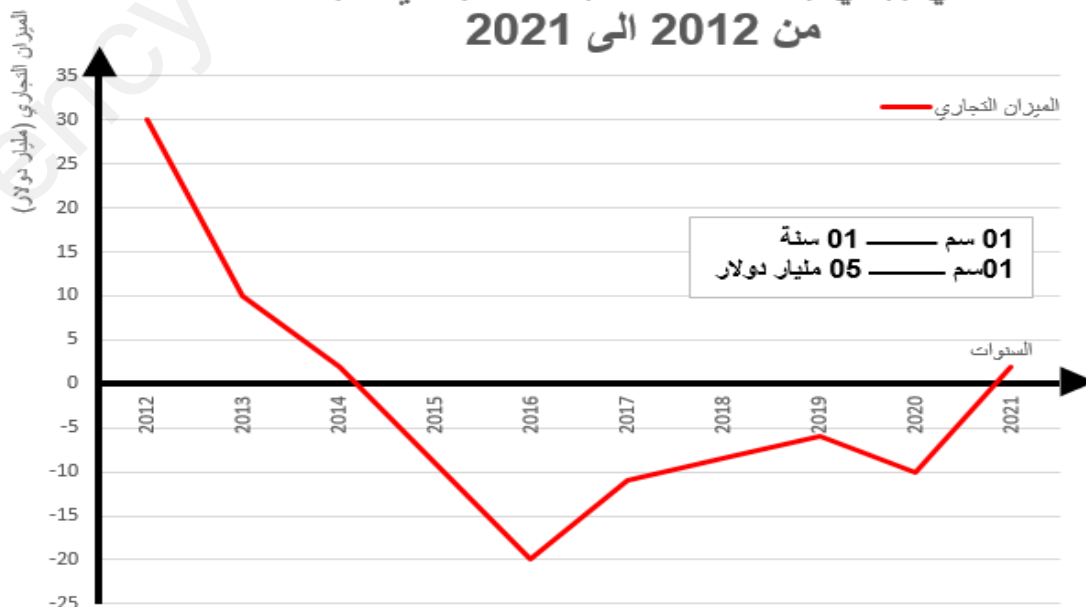
*تذبذب في قيم الميزان التجاري لارتباط صادرات الجزائر بأسعار المحروقات.

*فائض في الميزان التجاري سنة 2012 لارتفاع أسعار البترول.

*عجز في الميزان التجاري من 2016 الى 2020 بسبب تراجع أسعار البترول وارتفاع قيمة الواردات.

الاستخلاص: ضرورة تنويع صادرات الجزائر والابتعاد عن اقتصاد الربيع.... **0.5ن**

منحني بياني يمثل تطور الميزان التجاري للجزائر من 2012 الى 2021



التحديات التي تواجه النمو الاقتصادي في الجزائري؟ (01ن)

النمو الديمغرافي المتزايد - انخفاض أسعار المحروقات. - قلة روس الأموال. - قلة الاستثمارات. - عدم تنويع الصادرات. - ضعف الإنتاج الزراعي والصناعي. - ضعف التحكم في التكنولوجيا.

ملاحظة: 03 عناصر فقط، تقبل الإجابات الأخرى التي تخدم السؤال.

الطرق او الاستراتيجيات المتبعة للتحكم في التكنولوجيا والحصول عليها (0.75ن)

-تشجيع البحث العلمي. -تشجيع المبادرة الفردية والمنافسة لخلق الابداع والابتكار. -تشجيع الاستثمارات الأجنبية وجلبها للتكنولوجيا.

الحلول المقترحة لمعالجة ظاهرة النزوح الريفي في الجزائر؟ (0.75ن)

- تطوير البني التحتية وشبكة الطرقات.
- توفير الهياكل القاعدية من مدارس ومراكز صحية.
- تكوين الفلاح وتوفير الآلات الحديثة له. (تشجيع القطاع الزراعي وتطويره).
- توفير الامن والاستقرار.

ملاحظة: 03 عناصر فقط، تقبل الإجابات الأخرى التي تخدم السؤال.