

فرض محروس في مادة التكنولوجيا فرع : الهندسة الميكانيكية

الاسم و اللقب : القسم :

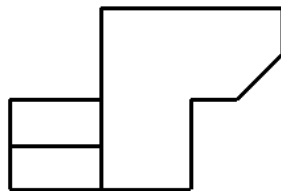
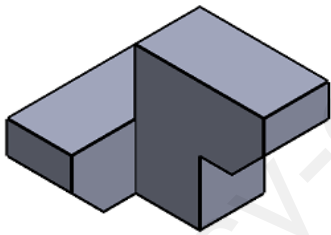
السؤال الأول :

اجب بوضع علامة (x) في المكان المناسب :

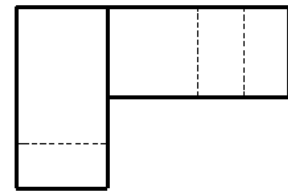
- | خاطئ | صحيح | |
|--------------------------|--------------------------|---|
| <input type="checkbox"/> | <input type="checkbox"/> | ● يبدأ المسعى التكنولوجي بالتعبير عن الاحتياج و ينتهي بتلبية الاحتياج |
| <input type="checkbox"/> | <input type="checkbox"/> | ● نقوم بتمثيل المسقط العلوي فوق المسقط الأمامي حسب الطريقة الأوروبية |
| <input type="checkbox"/> | <input type="checkbox"/> | ● تصنف المؤسسات حسب النوع الى مؤسسات كبيرة و صغيرة و ذات أسهم |
| <input type="checkbox"/> | <input type="checkbox"/> | ● تتم دراسة و انجاز و مراقبة المنتج في المصلحة التجارية |
| <input type="checkbox"/> | <input type="checkbox"/> | ● الرسم التقني وسيلة اتصال جميع العاملين في مجال التجارة العالمية |

السؤال الثاني : أتمم الجدول التالي

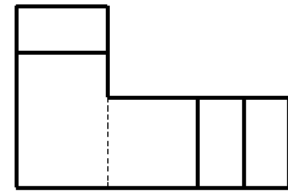
المقياس	نوع المقياس	البعد الحقيقي	البعد المرسوم
1:5		10	50
		500	
2:1		100	

السؤال الثالث : ضع الحرف المناسب في المكان المناسب لتحصل على توزيع المساقط الصحيح

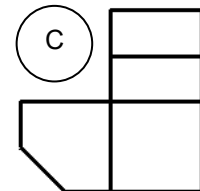
A



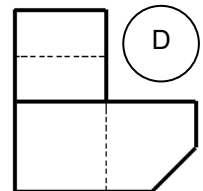
B



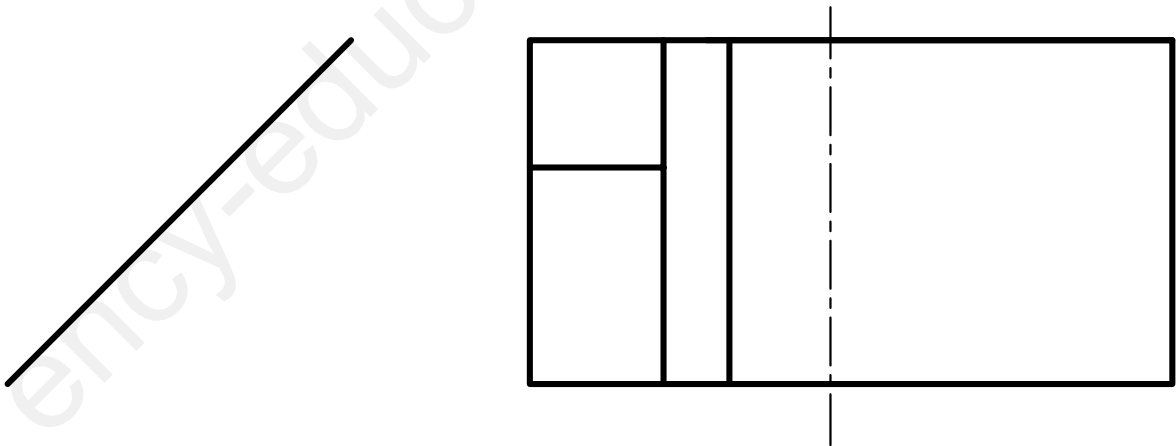
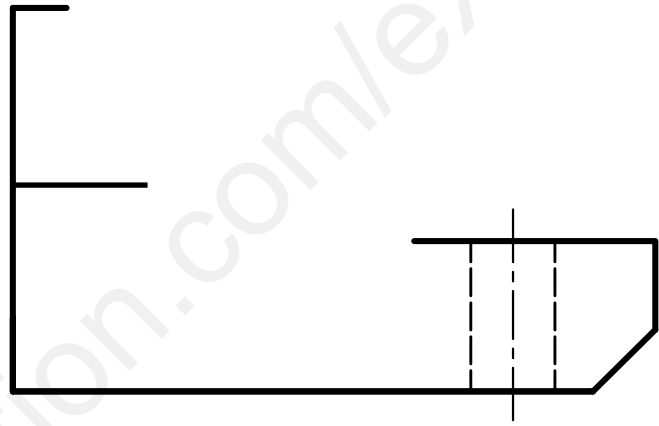
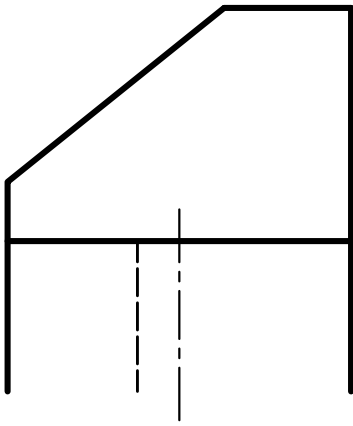
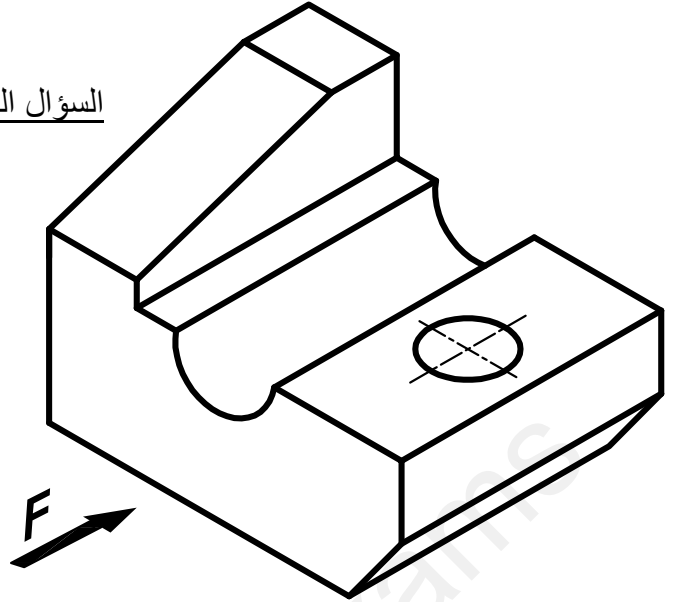
C



D



السؤال الرابع : اعتمادا على منظور القطعة اتمم رسم المساقط



التصحيح النموذجي

فرض محروس في مادة التكنولوجيا فرع : الهندسة الميكانيكية

الاسم و اللقب : القسم :

السؤال الأول :

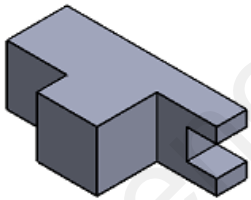
اجب بوضع علامة (x) في المكان المناسب :

- | | | |
|-------------------------------------|-------------------------------------|---|
| خطئ | صحيح | |
| <input checked="" type="checkbox"/> | <input type="checkbox"/> | ● مراحل المسعى التكنولوجي هي : فرضية و تجربة و ملاحظة ثم استنتاج |
| <input checked="" type="checkbox"/> | <input type="checkbox"/> | ● نقوم بتمثيل المسقط الجانبي الأيمن على يمين المسقط الأمامي حسب الطريقة الأوروبية |
| <input checked="" type="checkbox"/> | <input type="checkbox"/> | ● تصنف المؤسسات حسب الحجم الى مؤسسات كبيرة و صغيرة و ذات أسهم |
| <input type="checkbox"/> | <input checked="" type="checkbox"/> | ● تتم دراسة و انجاز و مراقبة المنتج في المصلحة التقنية |
| <input type="checkbox"/> | <input checked="" type="checkbox"/> | ● الرسم التقني وسيلة اتصال عالمية بين ميع العاملين في مجال الصناعة و الانتاج |

السؤال الثاني : أتمم الجدول التالي

المقياس	نوع المقياس	البعد الحقيقي	البعد المرسوم
5 : 1	تكبير	10	50
1 : 1	حقيقي	50	50
1 : 2	تصغير	100	50

السؤال الثالث : ضع الحرف المناسب في المكان المناسب لتحصل على توزيع المساقط الصحيح



D

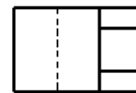
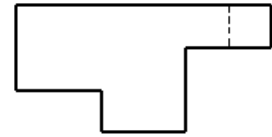
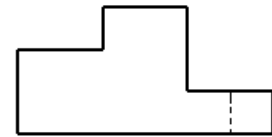


A

C

A

B



C

D

السؤال الرابع : اعتمادا على منظور القطعة اتمم رسم المساقط

