

5

اسم و لقب التلميذ :

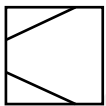
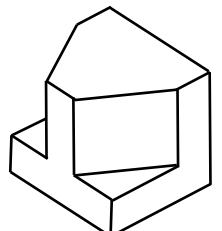

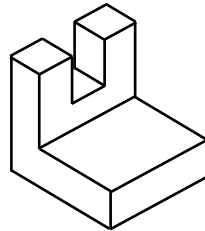
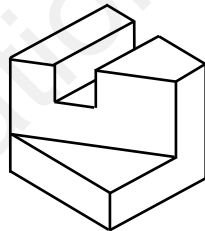
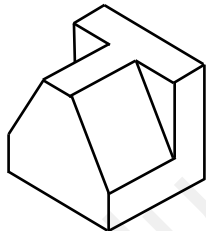
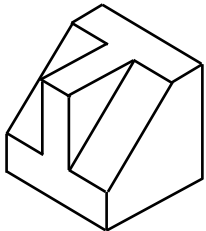
التبرين الأول : بعد كل جملة من الجمل التالية ضع - صحيح - أو - خاطئ -

- 1- أول مرحلة من مراحل المسعى التكنولوجي هي تلبية الاحتياج
- 2- المسعى التكنولوجي هو الاستفادة من المبادئ المنطقية في إنتاج السلع والخدمات
- 3- تتم دراسة و انجاز و مراقبة المنتج في المصلحة التقنية
- 4- تتكون كل مؤسسة إنتاجية من موردين فقط هما البشري و المادي
- 5- السوق هو مجموع العروض و الطلبات
- 6- نستعمل الخط الرفيع المستمر لتمثيل الحدود و الخطوط المخفية
- 7- الرسم التجميعي هو الرسم الذي نجد فيه جدول التسجيل و جدول التعيينات
- 8- المقياس هو الورقة التي نرسم عليها و المقاس هو النسبة الموجودة بين الأبعاد المرسومة و الأبعاد الحقيقية
- 9- على الرسم التعريفي نسجل الأبعاد المرسومة و ليس الأبعاد الحقيقية
- 10- نرسم المسقط العلوي فوق المسقط الأمامي

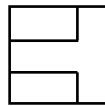
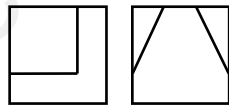
5

التبرين الثاني :

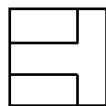
تحت منظور كل قطعة ضع رقم مجموعة المساقط المناسبة لكل قطعة



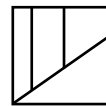
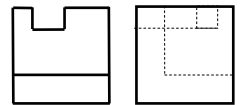
1



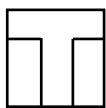
2



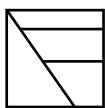
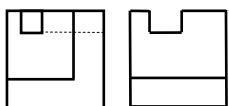
3



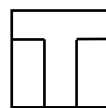
4



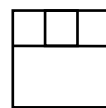
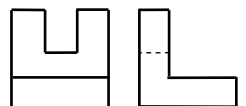
5



6



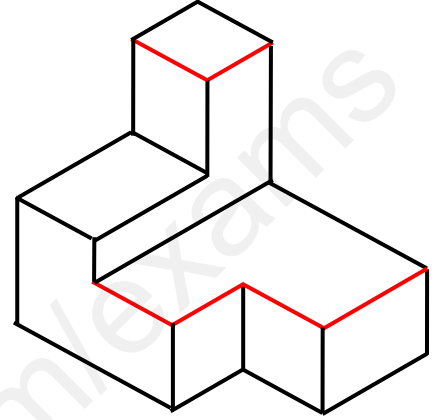
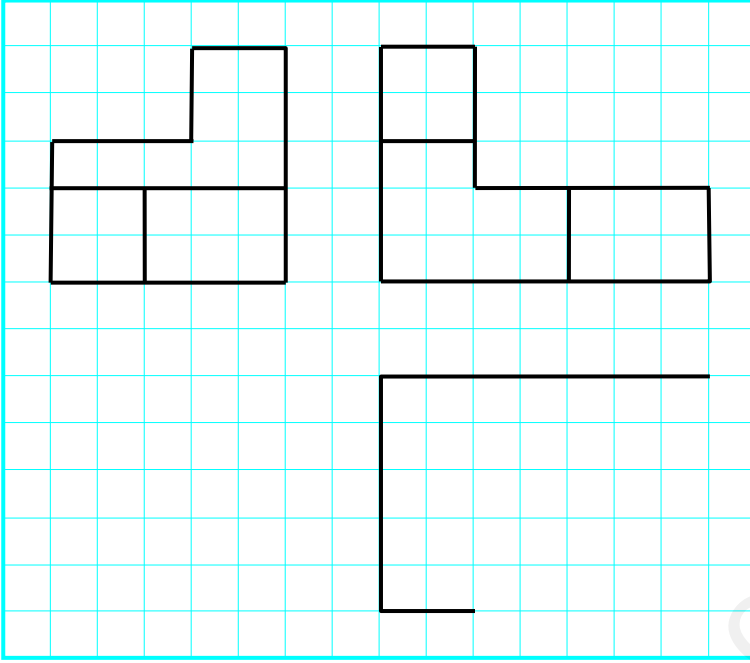
7



8

5

التورين الثالث : بالاستعانة بمنظور القطعة أسفله أتمم رسم المساقط



5

التورين الرابع : بالاستعانة بمنظور القطعة أسفله أتمم رسم المساقط

