

الاختبار الأول في مادة التكنولوجيا (هندسة مدنية)

الاسم:.....	اللقب:.....	القسم:.....
-------------	-------------	-------------

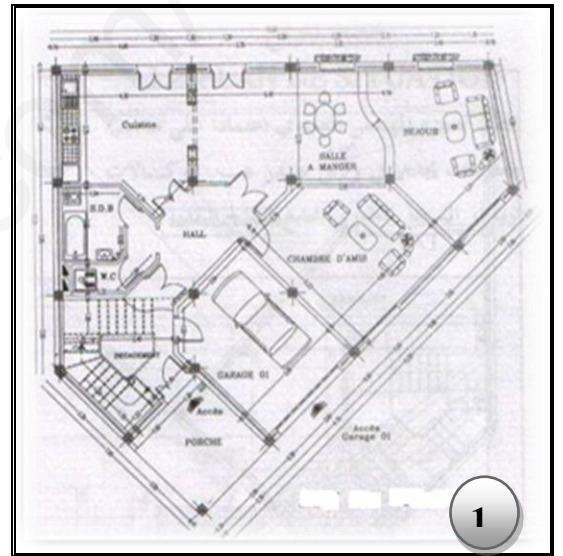
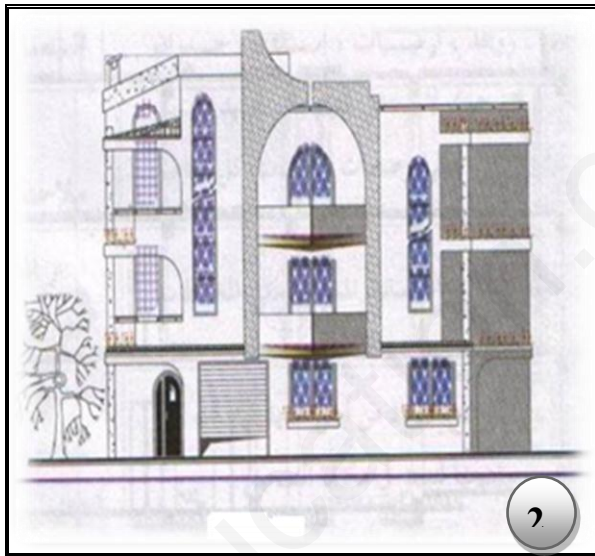
ملاحظة : الإجابة على نفس الورقة كما يمنع استخدام القلم الماحي (Stylo Effaceur)

التمرين الأول:

(1 - سم المخططات التالية

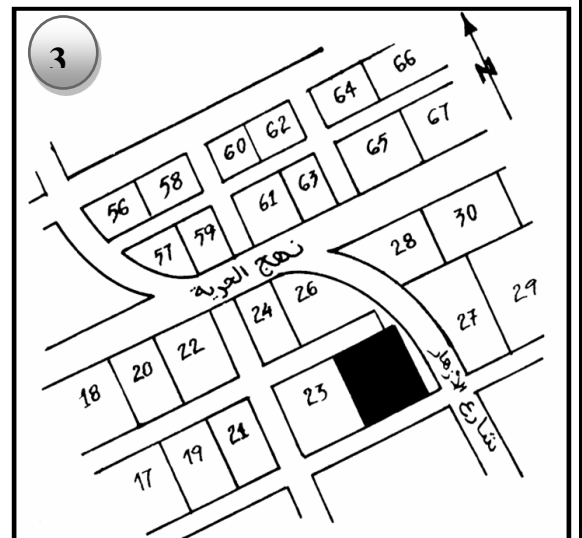
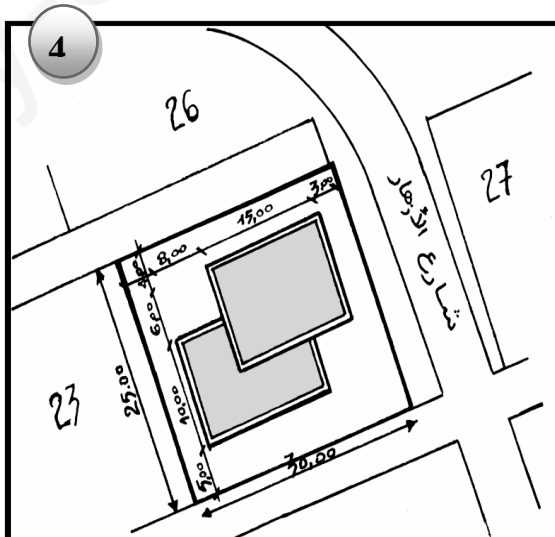
2- مخطط

1- مخطط



4- مخطط

3- مخطط



التمرين الثاني :
1- أربط بين الوثائق و من ينجزها في الجدول التالي:

المنجز	الوثيقة
رئيس البلدية	مخطط التسليح
المهندس المدني	مخطط التوزيع
المهندس المعماري	رخصة البناء
التقني الممتر	الكشف الكمي

2- أكمل ما يلي :

RILLE ORTHO POLAIRE ACCROBJ REPEROBJ D



دوره : نستعمل هذا الامر بالنقر عليه من شريط المهام او بالضغط على المفتاح	دوره : نستعمل هذا الامر بالنقر عليه من شريط المهام او بالضغط على المفتاح
---	---

4- التمرين الثالث

❖ عرف الجدران :

تصنف الجدران حسب الموقع إلى :

✓ جدران :

✓ جدران :

❖ عرف الفتحات :