

السنة الدراسية : 2018/2019
القسم : الخامس ابتدائي

ابتدائية : فرهي رشيد
المقاطعة ع 29 بالأخضرية

اختبار الفصل الأول في مادة التاريخ رقم 1

السؤال الأول : (2 ن)

أربط كل مرحلة تاريخية بتاريخها :

- مرحلة التاريخ القديم
- مرحلة التاريخ الوسيط
- مرحلة التاريخ الحديث
- مرحلة التاريخ المعاصر
- 1453 م
- 476 م
- 1789 م
- 3200 ق . م

السؤال الثاني :





ضع أمام كل معلم تاريخي مكان تواجدده :

- مقام الشهيد :
- جامع كتشاوة :
- أهرامات الجيزة :
- صور الصين العظيم :

السؤال الثالث :

ضع فوق كل صورة اسم الشخصية المناسبة لها من بين الشخصيات التالية :

خير الدين بربروس ، الرايس حميدو ، الأمير عبد القادر ، لويس الرابع عشر ، عقبة بن نافع



السؤال الرابع :

أكمل :

احتلت الجزائر ابتداءً من أواخر القرن السادس عشر مكانة دولية مرموقة بفضل :

..... /1

..... /2

..... /3

..... /4

بالتوفيق

تصحيح اختبار الفصل الأول في مادة التاريخ رقم 1

جواب السؤال الأول : (2 ن)

أربط كل مرحلة تاريخية بتاريخها :

- | | |
|--------------|-------------------------|
| ● 476 م | ● مرحلة التاريخ القديم |
| ● 1453 م | ● مرحلة التاريخ الوسيط |
| ● 1789 م | ● مرحلة التاريخ الحديث |
| ● 3200 ق . م | ● مرحلة التاريخ المعاصر |

جواب السؤال الثاني :

أضع أمام كل معلم تاريخي مكان تواجدده :

- مقام الشهيد : الجزائر
- جامع كتشاوة : الجزائر
- أهرامات الجيزة : مصر العربية
- صور الصين العظيم : الصين

جواب السؤال الثالث :

ضع تحت كل صورة اسم الشخصية المناسبة لها من بين الشخصيات التالية :

خير الدين بربروس

الأمير عبد القادر

الرايس حميدو

لويس الرابع عشر



جواب السؤال الرابع :

أكمل :

احتلت الجزائر ابتداءً من أواخر القرن السادس عشر مكانة دولية مرموقة بفضل :

1/ موقعها الهام .

2/ قوة أسطولها .

3/ شجاعة بحارتها .

4/ كثرة ثرواتها .

السنة الدراسية : 2019/2018
القسم : الخامس ابتدائي

ابتدائية : فرهي رشيد
المقاطعة ع 29 بالأخضرية

اختبار الفصل الأول في مادة التاريخ رقم 2

السؤال الأول : (3 ن)

أكتب تواريخ الأحداث التالية :

- * سقوط روما سنة :
- * قيام الثورة الفرنسية سنة :
- * ظهور الكتابة :
- * فتح القسطنطينية :
- * سقوط غرناطة :
- * دخول الجزائر تحت الحكم العثماني :

السؤال الثاني : (2 ن)

كانت الجزائر قبل الاحتلال الفرنسي تصدر الكثير من المنتجات إلى الخارج .

* ما هي صادرات الجزائر قبل الاحتلال إلى الخارج ؟

..... ، ،




السؤال الثالث : (3 ن)

أربط الأحداث التالية بتاريخها :

- * فتح قنصالية فرنسية بالجزائر
 - * نزول القوات الفرنسية بسيدي فرج
 - * استلام ماسينيسا الحكم
 - * اعتلاء لويس الرابع عشر العرش
 - * انعقاد مؤتمر اكس لاشبيل
 - * تحطم الأسطول الجزائري
- 1830 م
 - 1643 م
 - 1581 م
 - 202 ق.م
 - 1827 م
 - 1818 م

السؤال الرابع : (2 ن)

أنسب كل صورة للمرحلة التاريخية التي تنتمي إليها :



بالتوفيق

تصحيح اختبار الفصل الأول في مادة التاريخ رقم 2

جواب السؤال الأول : (3 ن)

أكتب تواريخ الأحداث التالية :

- * سقوط روما سنة : 476 م
- * قيام الثورة الفرنسية سنة : 1789 م
- * ظهور الكتابة : 3200 ق.م
- * فتح القسطنطينية : 1453 م
- * سقوط غرناطة : 1492 م
- * دخول الجزائر تحت الحكم العثماني : 1518 م

السؤال الثاني : (2 ن)

كانت الجزائر قبل الاحتلال الفرنسي تصدر الكثير من المنتجات إلى الخارج .

* ما هي صادرات الجزائر قبل الاحتلال إلى الخارج ؟

- الحبوب (القمح خاصة) ،
- المرجان ،
- الصوف ،
- الشمع

جواب السؤال الثالث : (3 ن)

أربط الأحداث التالية بتاريخها :

- * فتح قنصلية فرنسية بالجزائر
- * نزول القوات الفرنسية بسيدي فرج
- * استلام ماسينيما الحكم
- * اعتلاء لويس الرابع عشر العرش
- * انعقاد مؤتمر اكس لاشبيل
- * تحطم الأسطول الجزائري
- 1830 م
- 1643 م
- 1581 م
- 202 ق.م
- 1827 م
- 1818 م

جواب السؤال الرابع : (2 ن)

أنسب كل صورة للمرحلة التاريخية التي تنتمي إليها :




نقوش التاسيلي

العصر القديم



مبايعة الأمير عبد القادر

العصر المعاصر



فتح القسطنطينية

العصر الحديث



عقبة بن نافع

العصر الوسيط

السنة الدراسية : 2018/2019
القسم : الخامس ابتدائي

ابتدائية : فرهي رشيد
المقاطعة ع 29 بالأخضرية

اختبار الفصل الأول في مادة التاريخ رقم 3

السؤال الأول : (1,5 ن)

أكمل الفراغ :

أرسل لويس الرابع عشر حملات عسكرية عديدة لتدمير الجزائر منها :

- حملة سنة :

- حملة سنة :

- حملة سنة :

السؤال الثاني : (1,5 ن)

مرت العلاقات الفرنسية الجزائرية بعدة مراحل .

أكتب أمام كل مرحلة طبيعة العلاقة الفرنسية الجزائرية عبارة : " علاقة سيئة " أو " علاقة حسنة "

الفترة الممتدة بين : 1535 م إلى 1643 م :

- الفترة الممتدة بين : 1643 م إلى 1789 م :

- الفترة الممتدة بين : 1789 م إلى 1827 م :

السؤال الثالث : (4 ن)

أجب عن الأسئلة التالية :

1/ كيف تمكنت القوات الفرنسية من النزول على شاطئ سيدي فرج ؟

(أ) ، (ب)

2/ متى دخلت القوات الفرنسية مدينة الجزائر ؟

السؤال الرابع : (3 ن)

عرف التاريخ الوسيط و التاريخ القديم عدة محطات .

فما هي أهم هذه المحطات ؟

التاريخ الوسيط	التاريخ القديم
.....
.....
.....

بالتوفيق

تصحيح اختبار الفصل الأول في مادة التاريخ رقم 3

جواب السؤال الأول : (1,5 ن)

أكمل الفراغ :

أرسل لويس الرابع عشر حملات عسكرية عديدة لتدمير الجزائر منها :

- حملة سنة : 1664 م

- حملة سنة : 1683 م

- حملة سنة : 1688 م

جواب السؤال الثاني : (1,5 ن)

أكتب أمام كل مرحلة طبيعة العلاقة الفرنسية الجزائرية عبارة : " علاقة سيئة " أو " علاقة حسنة "

الفترة الممتدة بين : 1535 م إلى 1643 م : علاقة حسنة .

- الفترة الممتدة بين : 1643 م إلى 1789 م : علاقة سيئة .

- الفترة الممتدة بين : 1789 م إلى 1827 م : علاقة حسنة .

جواب السؤال الثالث : (4 ن)

أجيب عن الأسئلة التالية :

1/ تمكنت القوات الفرنسية من النزول على شاطئ سيدي فرج بسبب :

(أ) سوء الاستعداد ، (ب) اختلاف العدة و العدد بين الطرفين

2/ دخلت القوات الفرنسية مدينة الجزائر في : 05 جويلية 1830 م .

جواب السؤال الرابع : (3 ن)

أهم المحطات التي مر بها التاريخ الوسيط و القديم هي :

التاريخ القديم	التاريخ الوسيط
- اكتشاف الكتابة .	- سقوط روما .
- توحيد مملكتنا نوميديا على يد ماسينيسا .	- تطور حضاري للعالم الإسلامي .
- مقاومة الاستعمار الروماني .	- أوروبا تعيش في عصر الظلمات و سيطرة الكنيسة .

السنة الدراسية : 2018/2019
القسم : الخامس ابتدائي

ابتدائية : فرهي رشيد
المقاطعة ع 29 بالأخضرية

اختبار الفصل الأول في مادة التاريخ رقم 4

السؤال الأول : (2,5 ن)

إليك مجموعة من الأحداث التي ميزت كل عصر صنفها في الجدول :
مولد الرسول صلى الله عليه و سلم ، قيام الثورة الصناعية في أوروبا ، ظهور الحركات الاستعمارية ، ظهور المقاومة و الحركات التحريرية ، ركود حضاري للعالم الإسلامي ، ظهور الكتابة ، مقاومة الاستعمار الروماني ، سقوط روما ، ركود حضاري في أوروبا ، حروب و انقسامات في العالم الإسلامي .

العصر القديم	العصر الوسيط	العصر الحديث	العصر المعاصر
.....
.....
.....

السؤال الثاني : (3 ن)

أربط بسهم كل شخصية بالعصر الذي تنتمي إليه :

- العصر القديم
- العصر الوسيط
- العصر الحديث
- العصر المعاصر

- * العقيد السي الحواس
- * الخليفة عمر بن الخطاب
- * بابا عروج
- * سي فاقس
- * العربي بن مهدي
- * مراد ريس

السؤال الثالث : (2 ن)

أكمل ما يلي :

- * العلاقات الفرنسية الجزائرية في عهد لويس الرابع عشر نتيجة تجاه الجزائر
- * بعد قيام الثورة الفرنسية سنة 1789 م العلاقات بين البلدين بسبب الذي حدث في مواقف السياسة الفرنسية .

السؤال الرابع : (3 ن)

كانت كثير من الدول تدفع الأتاوات للجزائر مقابل كسب ودها و ضمان مرور سفنها بسلام في حوض البحر الأبيض المتوسط .

* أذكر الدول التي كانت تدفع أتاوات (ضرائب) للجزائر :

بالتوفيق

تصحيح اختبار الفصل الأول في مادة التاريخ رقم 4

جواب السؤال الأول : (2,5 ن)

إليك مجموعة من الأحداث التي تميز كل عصر صنفها في الجدول :

العصر القديم	العصر الوسيط	العصر الحديث	العصر المعاصر
- ظهور الكتابة - مقاومة الاستعمار الروماني . - سقوط روما .	- مولد الرسول صلى الله عليه و سلم . - ركود حضاري في أوروبا .	- ركود حضاري للعالم الإسلامي . - حروب و انقسامات في العالم الإسلامي .	- ظهور المقاومة و الحركات التحريرية - قيام الثورة الصناعية في أوروبا .

جواب السؤال الثاني : (3 ن)

أربط بسهم كل شخصية بالعصر الذي تنتمي إليه :

- | | | |
|-------------------------|---|---------------|
| * العقيد السي الحواس | • | العصر القديم |
| * الخليفة عمر بن الخطاب | • | العصر الوسيط |
| * بابا عروج | • | العصر الحديث |
| * سي فاقس | • | العصر المعاصر |
| * العربي بن مهدي | • | |
| * مراد ريس | • | |

جواب السؤال الثالث : (2 ن)

أكمل ما يلي :

- * ساءت العلاقات الفرنسية الجزائرية في عهد لويس الرابع عشر نتيجة سياسته العدوانية تجاه الجزائر
- * بعد قيام الثورة الفرنسية سنة 1789 م تحسنت العلاقات بين البلدين بسبب التغيير الذي حدث في مواقف السياسة الفرنسية .

جواب السؤال الرابع : (3 ن)

* الدول التي كانت تدفع أتوات (ضرائب) للجزائر هي :

- انجلترا ، السويد ، البندقية ، الدنمارك ، هولندا ، مملكة نابولي ، سردينيا ، الولايات المتحدة الأمريكية .

السنة الدراسية : 2018/2019
القسم : الخامس ابتدائي

ابتدائية : فرهي رشيد
المقاطعة ع 29 بالأخضرية

اختبار الفصل الأول في مادة التاريخ رقم 5

السؤال الأول : (3 ن)

أكمل الفراغ بالكلمة المناسبة :

المال - الفرنسية - مؤن - الجزائر - معدّات - فرنسا

خلال الثورة 1789 م طلبت مساعدة من فزودتها بكل ما تحتاجه من

السؤال الثاني : (3 ن)

ضع أمام كل حدث التاريخ المناسب :

- قيام الثورة الفرنسية سنة :

- فتح قنصلية فرنسية بالجزائر سنة :

- تحطم الأسطول الجزائري في معركة نفارين سنة :

- حادثة المروحة سنة في :

- معركة سطواولي في :

- اعتلاء لويس الرابع عشر العرش :

السؤال الثالث : (2,5 ن)

إليك مجموعة من الشخصيات التاريخية ضعها تحت الصورة المناسبة لها :

دي بورمون - الداوي حسين - شارل العاشر - نابليون بونابرت - الأمير عبد القادر



.....
.....

.....
.....

.....
.....

.....
.....

.....
.....

السؤال الرابع : (1,5 ن)

أربط بسهم بين الدول و عدد المعاهدات المبرمة مع الجزائر :

03 •

58 •

27 •

فرنسا •

انجلترا •

الولايات المتحدة الأمريكية •

بالتوفيق

تصحيح اختبار الفصل الأول في مادة التاريخ رقم 5

جواب السؤال الأول : (3 ن)

أكمل الفراغ بالكلمة المناسبة :

خلال الثورة الفرنسية 1789 م طلبت فرنسا مساعدة من الجزائر فزودتها بكل ما تحتاجه من معدات و مؤن و مال .

جواب السؤال الثاني : (3 ن)

أضع أمام كل حدث التاريخ المناسب :

- قيام الثورة الفرنسية سنة : 1789 م

- فتح قنصلية فرنسية بالجزائر سنة : 1581 م

- تحطم الأسطول الجزائري في معركة نفارين سنة : 1827 م

- حادثة المروحة سنة في : 29 أبريل 1827 م

- معركة سطواوي في : 19 جوان 1830 م

- اعتلاء لويس الرابع عشر العرش : 1643 م

جواب السؤال الثالث : (2,5 ن)

أضع تحت كل الصورة اسم الشخصية المناسبة لها :



نابليون بونابرت



الداي حسين



شارل العاشر



دي بورمون



الأمير عبد القادر

جواب السؤال الرابع : (1,5 ن)

أربط بسهم بين الدول و عدد المعاهدات المبرمة مع الجزائر :

فرنسا 03
انجلترا 58
الولايات المتحدة الأمريكية 27

السنة الدراسية : 2019/2018
القسم : الخامس ابتدائي

ابتدائية : فرهي رشيد
المقاطعة ع 29 بالأخضرية

اختبار الفصل الأول في مادة التاريخ رقم 6

السؤال الأول : (3 ن)

أجب عن الأسئلة التالية :

1/ ما الحيلة التي لجأ إليها شارل العاشر للتخلص من المشاكل الداخلية التي كان يعاني منها ؟

.....

2/ في أي معركة تحطم الأسطول الجزائري ؟ و أين ؟

.....

3/ كم من دولة عقدت تحالف دفاعي بحري ضد الجزائر ؟

.....

السؤال الثاني : (3 ن)

أذكر النتائج :

- قيام الثورة الفرنسية أدت إلى :

.....

- قيام الثورة الصناعية أدت إلى :

.....

- تحطم الأسطول الجزائري أدى إلى :

.....

- قوة و شجاعة البحارة الجزائريين أدى بالجزائر إلى :

.....

- وجود ثروة خشبية هامة بالجزائر أدى إلى :

.....

- القوة الاقتصادية و البحرية التي كانت تتمتع بها الجزائر أدى إلى :

.....

السؤال الثالث : (1,5 ن)

عرف الشخصيات التالية :

لويس الرابع عشر هو :

.....

* الرايس حميدو هو :

.....

* مراد رايس هو :

.....

السؤال الرابع : (2,5 ن)

هناك أسباب أغرت الفرنسيين باحتلال الجزائر فما هي هذه الأسباب ؟

*

.....

*

.....

*

.....

*

.....

بالتوفيق

تصحيح اختبار الفصل الأول في مادة التاريخ رقم 6

جواب السؤال الأول : (3 ن)

أجيب عن الأسئلة التالية :

1/ الحيلة التي لجأ إليها شارل العاشر للتخلص من المشاكل الداخلية التي كان يعاني منها هي : احتلال الجزائر .

2/ تحطم الأسطول الجزائري في معركة نفارين باليونان .

3/ عدد الدول التي عقدت تحالف دفاعي بحري ضد الجزائر هو 20 دولة .

جواب السؤال الثاني : (3 ن)

أذكر النتائج :

- قيام الثورة الفرنسية أدت إلى : الإطاحة بالنظام الملكي .
- قيام الثورة الصناعية أدت إلى : تطوير فرنسا للأسلحة و الذخائر و السفن .
- تحطم الأسطول الجزائري أدى إلى : تسهيل الغزو الفرنسي للجزائر .
- قوة و شجاعة البحارة الجزائريين أدى بالجزائر إلى : احتلال مكانة دولية مرموقة .
- وجود ثروة خشبية هامة بالجزائر أدى إلى : بناء أكبر أسطول بحري دفاعي .
- القوة الاقتصادية و البحرية التي كانت تتمتع بها الجزائر أدى إلى : تقرب الفرنسيين من الجزائريين و محاولة كسب ودهم .

جواب السؤال الثالث : (1,5 ن)

عرف الشخصيات التالية :

لويس الرابع عشر هو : ملك فرنسا .

* الرايس حميدو هو : قائد بحري جزائري .

* مراد رايس هو : قائد بحري جزائري .

جواب السؤال الرابع : (2,5 ن)

هناك أسباب أغرت الفرنسيين باحتلال الجزائر فما هي هذه الأسباب ؟

- * خيرات البلاد الكثيرة و المتنوعة .
- * موقع الجزائر الهام .
- * رغبة فرنسا في نشر المسيحية .
- * رغبة حكومة شارل العاشر في التخلص من المشاكل الداخلية و قد أتاح تحطم الأسطول الجزائري الفرصة للفرنسيين لتحقيق أهدافهم .