

امتحان الفصل الثالث المقترح في مادة الجغرافيا رقم 1

السؤال الأول : (2,5 ن)

- اشطب ما هو خطأ :
- إقامة مسالك عبر الغابات - البناء في المناطق المعرّضة للزلازل -
 - تنظيف الحي - رمي النفايات في الشارع - التشجير - المحافظة على الآثار - فرز النفايات
 - عرّقة انسياب المياه - البناء في المجاري المائية - إقامة المصانع في التجمعات السكنية بها

السؤال الثاني : (3 ن)

أجب بـ " صحيح " أو " خطأ "

- * المجال المحمي هو كل مكان يخصص فيه الرعي والحفر والتنقيب
- * توجد بالجزائر 10 محميات وطنية وموزعة عبر الوطن
- * توجد في الشرق الجزائري 4 محميات وطنية : القالة ، بجاية ، باتنة ، قسنطينة
- * الحظيرة الوطنية للهقار تمتد على مساحة 4,5 مليون هكتار
- * تقام المحميات من أجل حماية وتأمين الموارد الطبيعية
- * تعود الحظيرة الوطنية للتاسيلي إلى أكثر من 100 ألف سنة

السؤال الثالث : (2 ن)

أربط كل محمية بخصائصها :

- * محمية القالة • تضم تراثا ثقافيا وطبيعيا فريدا من نوعه
- * الحظيرة الوطنية للتاسيلي • تضم ثروة نباتية وحيوانية قيمة من حيث تنوعها وندرته
- * الحظيرة الوطنية للهقار • فيها أكثر من 15 ألف من النقوش والرسومات
- * محمية ثنية الحد • تضم 3 بحيرات و غابات و شواطئ

السؤال الرابع : (2,5 ن)

أربط كل خطر من الأخطار بالإجراءات الواجب اتخاذها :

- * انجراف التربة • التخلص من النفايات بطريقة منظمة
- * زحف الرمال • تنظيف قنوات صرف المياه
- * الفيضانات • إدخال التقنيات الحديثة في البناء
- * تلوث الهواء و الماء و التربة • السد الأخضر
- * الزلازل • القيام بحملات التشجير

بالتوفيق

تصحيح امتحان الفصل الثالث المقترح في مادة الجغرافيا رقم 1

السؤال الأول : (2,5 ن)

اشطب ما هو خطأ :

- للمساهمة في المحافظة على الوسط الطبيعي الذي نعيش فيه يجب :
- إقامة مسالك عبر الغابات - البناء في المناطق المعرّضة للزلازل -
 - تنظيف الحي - رمي النفايات في الشارع - التشجير - المحافظة على الآثار - فرز النفايات
 - عرّقة انسياب المياه - البناء في المجاري المائية - إقامة المصانع في التجمعات السكنية

السؤال الثاني : (3 ن)

أجب بـ " صحيح " أو " خطأ "

- * المجال المحمي هو كل مكان يرخص فيه الرعي والحفر والتنقيب
- * توجد بالجزائر 10 محميات وطنية و موزعة عبر الوطن
- * توجد في الشرق الجزائري 4 محميات وطنية : القالة ، بجاية ، باتنة ، قسنطينة
- * الحظيرة الوطنية للهقار تمتد على مساحة 4,5 مليون هكتار
- * تقام المحميات من اجل حماية و تثمين الموارد الطبيعية
- * تعود الحظيرة الوطنية للتاسيلي إلى أكثر من 100 الف سنة

السؤال الثالث : (2 ن)

أربط كل محمية بخصائصها :

- * محمية القالة
- * الحظيرة الوطنية للتاسيلي
- * الحظيرة الوطنية للهقار
- * محمية ثنية الحد
- * تضم تراثا ثقافيا و طبيعيا فريدا من نوعه .
- * تضم ثروة نباتية و حيوانية قيمة من حيث تنوعها و ندرتها .
- * فيها أكثر من 15 ألف من النقوش و الرسومات .
- * تضم 3 بحيرات و غابات و شواطئ .

السؤال الرابع : (2,5 ن)

أربط كل خطر من الأخطار بالإجراءات الواجب اتخاذها :

- * انجراف التربة
- * زحف الرمال
- * الفيضانات
- * تلوث الهواء و الماء و التربة
- * الزلازل
- * التخلص من النفايات بطريقة منظمة
- * تنظيف قنوات صرف المياه
- * إدخال التقنيات الحديثة في البناء
- * السد الأخضر
- * القيام بحملات التشجير

بالتوفيق

السنة الدراسية 2017/2018
المقاطعة ع 29 بالأخصرية

ابتدائية فرهي رشيد
السنة الرابعة ابتدائي





امتحان الفصل الثالث المقترح في مادة الجغرافيا رقم 2

السؤال الأول : (2,5 ن)

- ضع " صحيح " أو " خطأ " أما كل عبارة :
- * تقام المحميات الطبيعية من أجل الوقاية و مكافحة أنواع التلوث
 - * المحميات المتواجدة بالجنوب هي محمية " القالة " و " ثنية الحد "
 - * تتربع الحظيرة الوطنية للتاسيلي على مساحة قدرها 720 هكتار
 - * المناخ هو السبب الرئيسي في وقوع الفيضانات
 - * البناء في المجاري المائية لا يعرقل من انسياب المياه
 - * وجود المصانع في وسط التجمعات السكنية خطر من المخاطر الكبرى

السؤال الثاني : (3 ن)

حاول التعرف على اسم كل محمية من خلال مشاهدتك للصورة :



السؤال الثالث : (2 ن)

أربط بسهم كل محمية بمكان تواجدها :

- | | |
|-------------------|-----------|
| • محمية قوراينة | • جيل |
| • محمية الشريعة | • تيسميد |
| • محمية التاسيلي | • الطارف |
| • محمية ثنية الحد | • بجاية |
| • محمية القالة | • البليدة |
| • محمية تازة | • إليزي |

السؤال الرابع : (2,5 ن)

تتعرض الجزائر من حين لآخر إلى مخاطر متنوعة أذكر أربع مخاطر تعرفها :

- 1/ ، 2/ ، 3/ ، 4/

بالتوفيق

تصحيح امتحان الفصل الثالث المقترح في مادة الجغرافيا رقم 2


حل السؤال الأول : (3 ن)

أضع " صحيح " أو " خطأ " أما كل عبارة :


- * تقام المحميات الطبيعية من أجل الوقاية و مكافحة أنواع التلوث **صحيح**
- * المحميات المتواجدة بالجنوب هي محمية " القالة " و " ثنية الحد " **خطأ**
- * تتربع الحظيرة الوطنية للتاسيلي على مساحة قدرها 720 هكتار **صحيح**
- * المناخ هو السبب الرئيسي في وقوع الفيضانات **صحيح**
- * البناء في المجاري المائية لا يعرقل من انسياب المياه **خطأ**
- * وجود المصانع في وسط التجمعات السكنية خطر من المخاطر الكبرى **صحيح**

حل السؤال الثاني : (2 ن)

أحاول التعرف على اسم كل محمية من خلال مشاهدتي للصورة :



الحظيرة الوطنية الهقار



محمية القالة



محمية ثنية الحد



الحظيرة الوطنية التاسيلي

حل السؤال الثالث : (3 ن)

أربط بسهم كل محمية بمكان تواجدها :

- | | |
|-----------|-------------------|
| • جيل | • محمية قوراوية |
| • تيسمير | • محمية الشريعة |
| • الطارف | • محمية التاسيلي |
| • بجاية | • محمية ثنية الحد |
| • البليدة | • محمية القالة |
| • إليزي | • محمية تازة |

حل السؤال الرابع : (2 ن)

تعرض الجزائر من حين لآخر إلى مخاطر متنوعة أذكر أربع مخاطر تعرفها :

- 1/ غزو الجراد ، 2/ زحف الرمال
3/ الفيضانات ، 4/ الزلازل

السنة الدراسية 2017/2018
المقاطعة ع 29 بالأخصرية

ابتدائية فرهي رشيد
السنة الرابعة ابتدائي

امتحان الفصل الثالث المقترح في مادة الجغرافيا رقم 3

السؤال الأول : (2 ن)

- 1/ أذكر أربع محميات طبيعية بالجزائر.
أ/
ب/
ج/
د/

2/ بما تتميز محمية القالة ؟

السؤال الثاني : (3 ن)


- * خلفت الزلازل عدة خسائر مادية و بشرية كبرى فما هي الإجراءات الوقائية التي يجب اتخاذها ؟
*
*
.....
*
*
.....

السؤال الثالث : (2 ن)

- أربط بسهم كل محمية بمساحتها :
الحظيرة الوطنية للهقار • 86438 هكتار
محمية ثنية الحد • 720 هكتار
محمية القالة • 4,5 مليون هكتار
الحظيرة الوطنية التاسيلي • 3425 هكتار

السؤال الرابع : (2,5 ن)

اليك مجموعة من الصور و مجموعة من العناوين ضع تحت كل صورة العنوان المناسب :
فرز النفايات - المحافظة على الآثار - التشجير - تنظيف الشحي



بالتوفيق

تصحيح امتحان الفصل الثالث المقترح في مادة الجغرافيا رقم 3

حل السؤال الأول : (3 ن)

1/ أذكر أربع محميات طبيعية بالجزائر .

- أ/ محمية جرجرة ،
 ب/ محمية تلمسان : بالخط الأحمر
 ج/ محمية ثنية الحد ،
 د/ محمية تازة : بالخط الأحمر
 2/ تتميز محمية القالة : بأنها تضم 3 بحيرات و غابات و شواطئ .

حل السؤال الثاني : (3 ن)

الإجراءات الوقائية التي يجب اتخاذها هي :

- * تجنب البناء في المناطق المعرضة للزلازل .
 * إدخال التقنيات الحديثة في البناء المضاد للزلازل .

حل السؤال الثالث : (2 ن)

أربط بسهم كل محمية بمساحتها :

- | | | | |
|--------------------------|---|-----------------|---|
| الحظيرة الوطنية للهقار | • | 86438 هكتار | • |
| محمية ثنية الحد | • | 720 هكتار | • |
| محمية القالة | • | 4,5 مليون هكتار | • |
| الحظيرة الوطنية التاسيلي | • | 3425 هكتار | • |

حل السؤال الرابع : (2 ن)

أضع تحت كل صورة العنوان المناسب لها :

فرز النفايات - المحافظة على الآثار - التمشير - تنظيف الشحي



تنظيف الشحي



المحافظة على الآثار



فرز النفايات



التمشير

امتحان الفصل الثالث المقترح في مادة الجغرافيا رقم 4

السؤال الأول : (3 ن)

أكمل الفراغ : **بما** **تذكر** كل صورة من الصور التالية ؟

1/ يعود سبب انجراف التربة و زحف الرمال إلى

2/ يؤدي انجراف التربة إلى

3/ صنفت الحظيرة الوطنية الهقار كحظيرة وطنية منذ

السؤال الثاني : (3 ن)

ضع " صحيح " أو " خطأ " أمام كل عبارة :

* النفايات ثلاث أنواع

* لا يُعد الإنسان مُتسبباً في الكوارث البيئية

* تنتج الجزائر 15 مليون طن من مختلف أنواع النفايات

* ردم السدود بالطمي يُنقّص من قدرتها على التخزين

* حرائق الغابات لا تعد خطراً من المخاطر الكبرى

* لا يرسكل من النفايات في الجزائر إلا نسبة 10 %

السؤال الثالث : (2 ن)

بما تذكر كل صورة من الصور التالية ؟



السؤال الرابع : (2 ن)

أربط بسهم بين العالمي و تاريخه :

اليوم العالمي للشجرة

اليوم العالمي للكوارث

اليوم العالمي للمياه

اليوم العالمي للبيئة

05 جان

22 مارس

13 أكت

21 مارس

بالتوفيق

تصحيح امتحان الفصل الثالث المقترح في مادة الجغرافيا رقم 4

حل السؤال الأول : (3 ن)

أكمل الفراغ :

- 1/ يعود سبب انجراف التربة و زحف الرمال إلى **ضعف الغطاء النباتي بسبب الجفاف**
- 2/ يؤدي انجراف التربة إلى **ردم السدود بكميات كبيرة من الطمي**
- 3/ صنفت الحظيرة الوطنية الهقار كحظيرة وطنية منذ **عام 1987 م**

حل السؤال الثاني : (3 ن)

ضع " صحيح " أو " خطأ " أمام كل عبارة :

- * النفايات ثلاثية أنوع **صحيح**
- * لا يعد الإنسان مُسببًا في الكوارث البيئية **خطأ**
- * تنتج الجزائر 15 مليون طن من مختلف أنواع النفايات **خطأ**
- * ردم السدود بالطمي يُنقص من قدرتها على التخزين **صحيح**
- * حرائق الغابات لا تعد خطرًا من المخاطر الكبرى **خطأ**
- * لا يرسكل من النفايات في الجزائر إلا نسبة 10 % **صحيح**

حل السؤال الثالث : (2 ن)

بما تذكر كل صورة من الصور التالية ؟



حرائق الغابات



زحف العمران على الأراضي الزراعية



فيضانات باب الوادي 2001 م



زلزال بومرداس 2003 م

حل السؤال الرابع : (2 ن)

أربط بسهم بين العالمي و تاريخه :

- | | | |
|-----------------------|---|-----------|
| اليوم العالمي للشجرة | • | 05 جوان |
| اليوم العالمي للكوارث | • | 22 مارس |
| اليوم العالمي للمياه | • | 13 أكتوبر |
| اليوم العالمي للبيئة | • | 21 مارس |

ابتدائية فرهي رشيد
السنة الرابعة ابتدائي

السنة الدراسية 2017/2018
المقاطعة ع 29 بالأخضرية

امتحان الفصل الثالث المقترح في مادة الجغرافيا رقم 5

السؤال الأول : (3 ن)

أملأ الفراغ بالكلمة المناسبة :

تَلْوِيْثُهَا - الخُطُورَة - المُنْتَزَهَات - البيئَة - المَخْصَص - المَخْلَفَات

عند مُعَادِرَتِكَ يَجِبُ عَلَيْكَ أَنْ تَجْمَعَ في كَيْسٍ وَ تَضَعُهُ فِي الْمَكَانِ لَهُ ، لِأَنْ تَتْرُكَهَا غَيْرَ مُبَالٍ بِمَدَى الَّتِي سَتَلْحِقُ بِ نَتِيْجَةً لِهَذَا التَّصَرُّفِ الَّذِي يُؤَدِّي إِلَى تَفَاقُمِ مُشْكَلَة

السؤال الثاني : (2,5 ن)

لون الإجابة الصحيحة :

- * عَقْدَ الْمُتَلَقَى الْجَهْوِي حَوْلَ الْمَخْطَرِ الْكُبْرَى فِي : 1/ وهران ، 2/ عنابة ، 3/ سطيف
- * لِلوَقَايَةِ مِنَ الْحَرَاثِقِ عَدَمَ إِقَامَةِ أَحْيَاءٍ سَكْنِيَّةٍ مَلَاصِقَةٍ لـ : 1/ للسُّود ، 2/ للغَابَات ، 3/ لِلأَنْهَارِ
- * لِمَقَاوِمَةِ زَحْفِ الرَّمَالِ يَجِبُ وَضْعُ حَوَاجِزٍ مِّنْ : 1/ الأشجار ، 2/ الرَّمَالِ ، 3/ المَاءِ
- * دُخَانُ الْمَصَانِعِ مَنَعَ مِنَ النِّفْسِ أَيْآتِ : 1/ الصَّلْبَة ، 2/ الغَارِيَّة ، 3/ السَّائِلَة
- * مَحْمِيَّةٌ ثَنِيَّةُ الْحَدِّ مِنْ مَحْمِيَّاتٍ وَلايِيَّاتِ : 1/ الشَّرْقِ ، 2/ الْجَنُوبِ ، 3/ الْغَرْبِ

السؤال الثالث : (2 ن)

ضع نتيجة كل فعل من الأفعال التالية أمام كل عبارة : عرقلة انسياب المياه - حدوث الحرائق

- * الرمي العشوائي للنفايات الصلبة يؤدي إلى
- * إقامة المصانع بالقرب من التجمعات السكانية يؤدي إلى
- * إقامة أحياء سكنية ملاصقة للغابات يؤدي إلى
- * البناء في مجاري الأودية يؤدي إلى

السؤال الرابع : (2,5 ن)

أربط توزيع المحميات عبر ولايات الوطن بالجهات الأربع :

إليزي
جيجل
تمنراست
البليدة
باتنة

في الشرق
في الوسط
في الغرب
في الجنوب

القالمة
بجاية
تلمسان
إليزي وزو
تسمسيلت

تصحيح امتحان الفصل الثالث المقترح في مادة الجغرافيا رقم 5

حل السؤال الأول : (3 ن)

أملأ الفراغ بالكلمة المناسبة :

تَلْوِيْثُهَا - الخُطُورَة - المُتَنَزَّهَات - البِنْيَة - المُخَصَّص - المُخَلَّفَات

عند مُغَادِرَتِكَ المُتَنَزَّهَاتِ يَجِبُ عَلَيْكَ أَنْ تَجْمَعَ المُخَلَّفَاتِ فِي كَيْسٍ وَتَضَعَهُ فِي الْمَكَانِ المُخَصَّصِ لَهُ ،
لَا أَنْ تَتْرُكَهَا غَيْرَ مُبَالٍ بِمَدَى الخُطُورَة الَّتِي سَتُلْحِقُ بِالبِنْيَة نَتِيجَةً لِهَذَا التَّصَرُّفِ الَّذِي يُؤَدِّي إِلَى تَفَاقُمِ
مُشْكَلَة تَلْوِيْثِهَا .

السؤال الثاني : (3 ن)

حل السؤال الثاني : (2,5 ن)

ألون الإجابة الصحيحة :

- * عَقْدُ المُلتَقَى الجِهَوِي حَوْلَ المَخَاطِرِ الكُبْرَى فِي : 1/ وهران ، 2/ عنابة ، 3/ سطيف
- * للوَقَايَة مِنَ الحَرَائِقِ عَدَمُ إِقَامَةِ أَحْيَاءِ سَكْنِيَّةٍ مَلَاصِقَةٍ لـ : 1/ للسُّود ، 2/ للغَابَاتِ ، 3/ لِلأَنْهَارِ
- * لِمَقَاوِمَةِ زَحْفِ الرَّمَالِ يَجِبُ وَضْعُ حَوَاجِزٍ مِمَّن : 1/ الأشجار ، 2/ الرَّمَالِ ، 3/ المَاءِ
- * دُخَانُ المَصَارِيحِ مِنَ النَفْسِ يَأْتِي : 1/ الصَّلْبَة ، 2/ الغَايَة ، 3/ السَّائِلَة
- * مَحْمِيَّةُ ثَنِيَّةِ الحَدِّ مِنَ مَحْمِيَّاتِ وِلايَاتِ : 1/ الشَّرْقِ ، 2/ الجَنُوبِ ، 3/ الغَرْبِ

السؤال الثالث : (2 ن)

ضع نتيجة كل فعل من الأفعال التالية أمام كل عبارة : عرقلة انسياب المياه - حدوث الحرائق

- * الرمي العشوائي للنفايات الصلبة يؤدي إلى **عرقلة انسياب المياه**
- * إقامة المصانع بالقرب من التجمعات السكانية يؤدي إلى **حدوث الحرائق**
- * إقامة أحياء سكنية ملاصقة للغابات يؤدي إلى **حدوث الحرائق**
- * البناء في مجاري الأودية يؤدي إلى **عرقلة انسياب المياه**

السؤال الرابع : (2 ن)

أربط توزيع المحميات عبر ولايات الوطن بالجهات الأربع :

