

امتحان الفصل الأول المقترح في الجغرافيا رقم 1

التمرين الأول : (2,5 ن)

ضع كل كلمة في مكانها المناسب :

مالي - تونس - الصحراء الغربية - النيجر - بلدان - العربي - البحر الأبيض - ليبيا - موريطانيا

تتوسط الجزائر المغرب و هي أكبر بلدانه ، يحدّها من الشمال

المتوسط و من الجنوب و و من الشرق و من الغرب

التمرين الثاني : (3 ن)

ضع صحيح أو خطأ أمام كل عبارة :

* المغرب الأقصى و الصحراء الغربية من بلدان المغرب العربي .

* السودان و مصر من الدول المجاورة للجزائر .

* تعتبر الجزائر أكبر بلدان المغرب العربي .

* تبلغ مساحة الجزائر 2318745 كيلومتر مربع .

* الجزائر هي اصغر بلد في قارة إفريقيا .

* القارة هي مساحة واسعة من الأرض تحيط بها البحار و المحيطات .

التمرين الثالث : (4,5 ن)

لاحظ الخريطة ثم أجب عن الأسئلة :

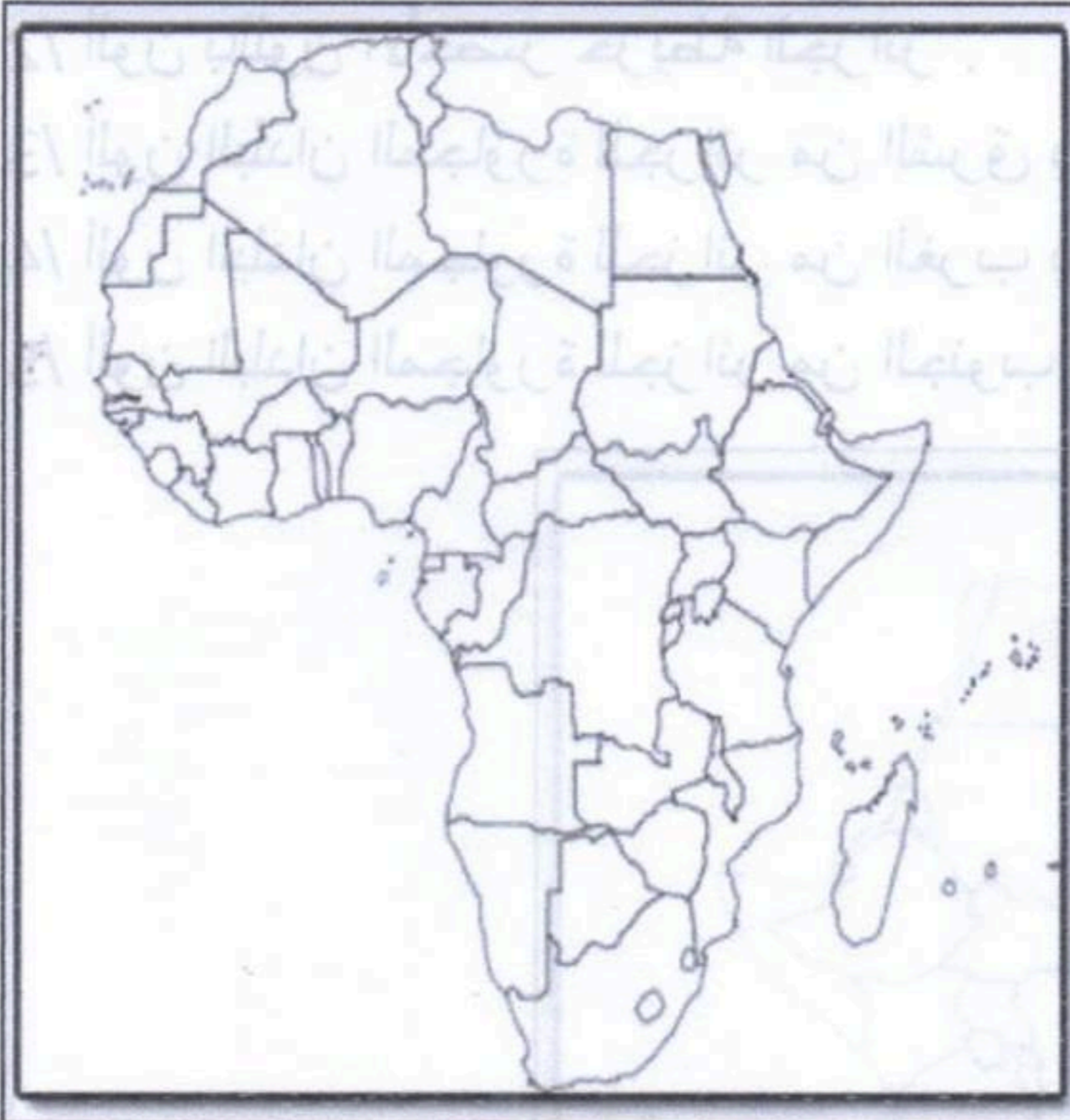
1/ ماذا تمثل هذه الخريطة ؟

2/ لون باللون الأخضر خريطة الجزائر .

3/ لون البلدان المجاورة للجزائر من الشرق بالأحمر .

4/ لون البلدان المجاورة للجزائر من الغرب بالأصفر .

5/ لون البلدان المجاورة للجزائر من الجنوب بالأزرق .



تصحيح امتحان الفصل الأول المقترح في مادة الجغرافيا رقم 1

التمرين الأول : (2,5 ن)

أضع كل كلمة في مكانها المناسب :

مالي - تونس - الصحراء الغربية - النيجر - بلدان - العربي - البحر الأبيض - ليبيا - موريطانيا .
تتوسط الجزائر **بلدان** المغرب **العربي** و هي أكبر بلدانه ، يحدّها من الشمال **البحر** المتوسط و من الجنوب **مالي** و **النيجر** و من الشرق **ليبيا** و **تونس** و من الغرب **المغرب الأقصى** و **موريطانيا** و **الصحراء الغربية** .

التمرين الثاني : (3 ن)

أضع صحيح أو خطأ أمام كل عبارة :

صحيح

* المغرب الأقصى و الصحراء الغربية من بلدان المغرب العربي .

خطأ

* السودان و مصر من الدول المجاورة للجزائر .

صحيح

* تعتبر الجزائر أكبر بلدان المغرب العربي .

خطأ

* تبلغ مساحة الجزائر 2318745 كيلومتر مربع .

خطأ

* الجزائر هي اصغر بلد في قارة إفريقيا .

صحيح

* القارة هي مساحة واسعة من الأرض تحيط بها البحار و المحيطات .

التمرين الثالث : (4,5 ن)

ألاحظ الخريطة ثم أجب عن الأسئلة :

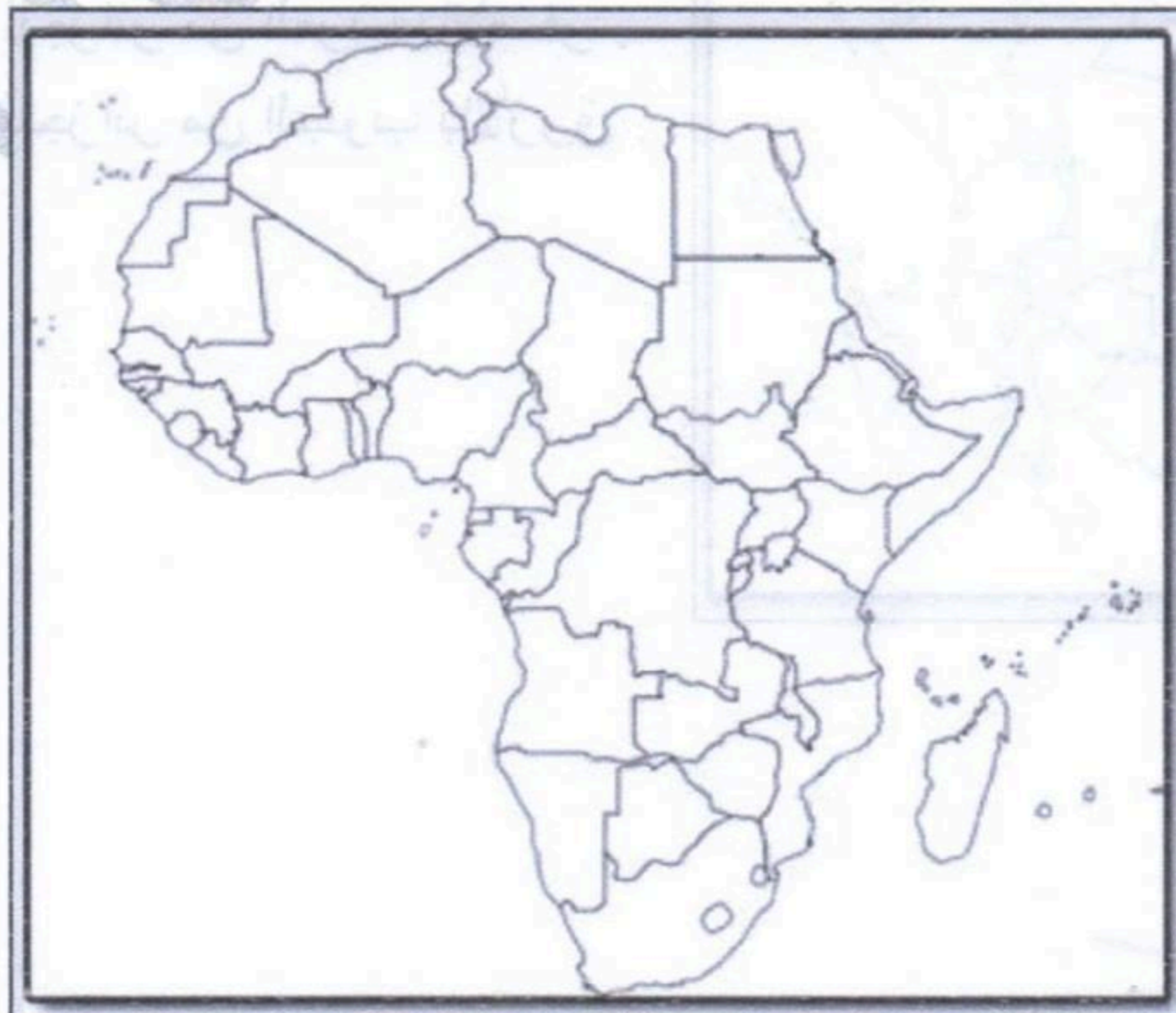
1/ تمثل هذه الخريطة **قارة أفريقيا** .

2/ ألون باللون الأخضر خريطة الجزائر .

3/ ألون البلدان المجاورة للجزائر من الشرق بالأحمر .

4/ ألون البلدان المجاورة للجزائر من الغرب بالأصفر .

5/ ألون البلدان المجاورة للجزائر من الجنوب بالأزرق .



امتحان الفصل الأول المقترح في الجغرافيا رقم 2

التمرين الأول : (2,5 ن)

ضع كل كلمة في مكانها المناسب :

الإفريقية - 1200 كلم - الجزء - بوابة - أكبر - الأبيض

* تقع الجزائر في الشمالي من القارة ، و تطل على البحر المتوسط من
الجهة الشمالية بساحل يزيد طوله عن كلم .

* تعتبر الجزائر بلد إفريقيّ ، و يطلق عليها اسم إفريقيا .

التمرين الثاني : (3 ن)

ضع صحيح أو خطأ أمام كل عبارة :

* المحيط هو مساحة واسعة جدا من الماء المالح .

* الجزائر تنتمي إلى دول البحر الأبيض المتوسط .

* تعتبر الجزائر أصغر بلد في إفريقيا .

* تطل الجزائر على المحيط الهادي .

* تقع الجزائر في جنوب قارة إفريقيا .

* تتوسط الجزائر بلدان المغرب العربي .

التمرين الثالث : (4,5 ن)

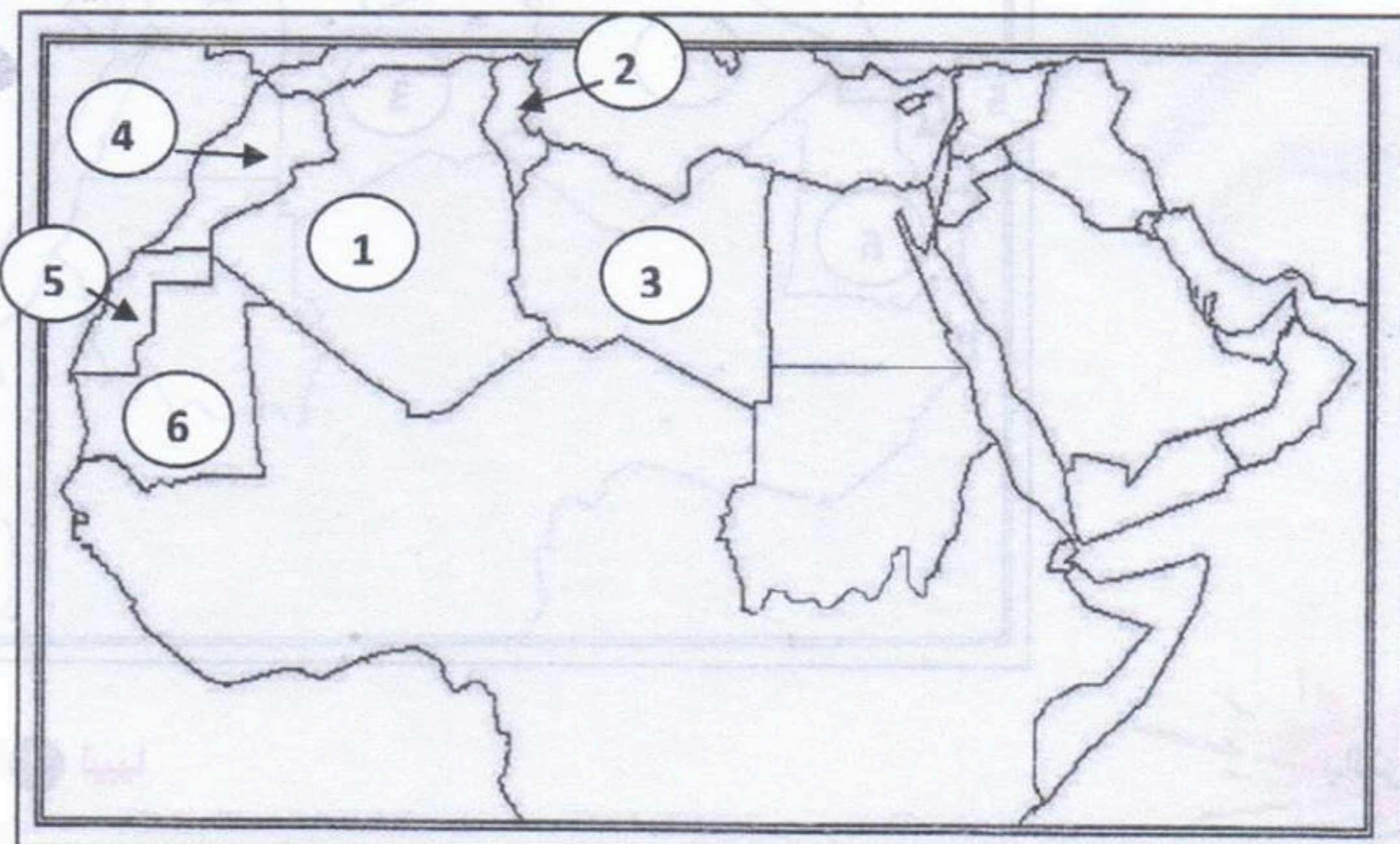
تعتبر الجزائر أكبر بلد في إفريقيا و في المغرب العربي ، و كذلك في الوطن العربي .

1/ ماذا تمثل هذه الخريطة ؟

2/ من خلال الخريطة أسند لكل رقم من 1 إلى 6 البلد المناسب له .

3/ ما هما البلدان الغير عربيان اللذان لهما حدود مع الجزائر ؟

4/ ماذا يحد الجزائر من الشمال ؟



بالتوفيق

تصحيح امتحان الفصل الأول المقترح في الجغرافيا رقم 2

التمرين الأول : (2,5 ن)

ضع كل كلمة في مكانها المناسب :

الإفريقية - 1200 كلم - الجزء - بوابة - أكبر - الأبيض

* تقع الجزائر في **الجزء** الشمالي من القارة **الإفريقية** ، و تطل على البحر **الأبيض** المتوسط من الجهة الشمالية بساحل يزيد طوله عن **1200** كلم .

* تعتبر الجزائر **أكبر** بلد إفريقي ، و يطلق عليها اسم **بوابة** إفريقيا .

التمرين الثاني : (3 ن)

أضع صحيح أو خطأ أمام كل عبارة :

* المحيط هو مساحة واسعة جدا من الماء المالح .

* الجزائر تنتمي إلى دول البحر الأبيض المتوسط .

* تعتبر الجزائر أصغر بلد في أفريقيا .

* تطل الجزائر على المحيط الهادي .

* تقع الجزائر في جنوب قارة أفريقيا .

* تتوسط الجزائر بلدان المغرب العربي .

التمرين الثالث : (4,5 ن)

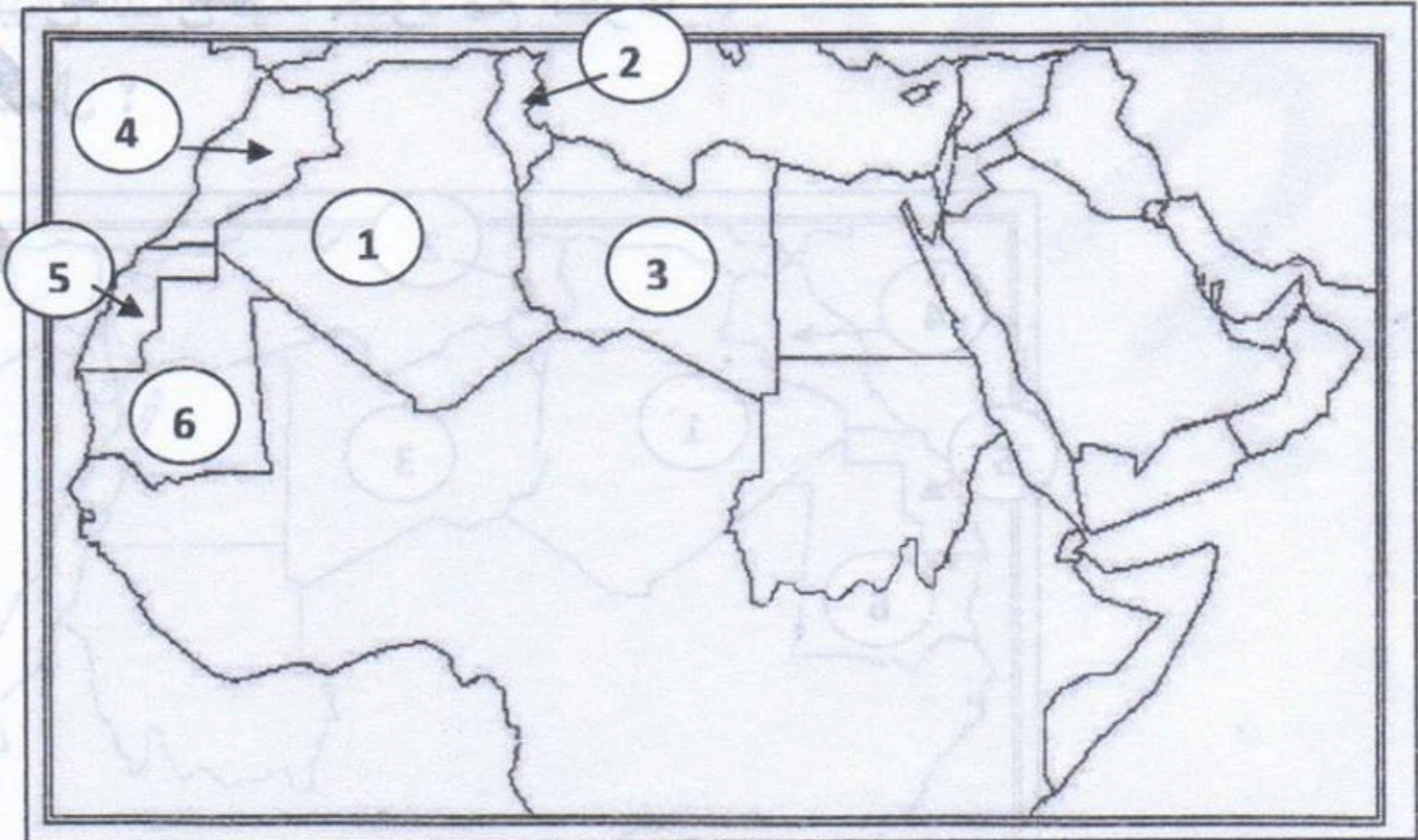
تعتبر الجزائر أكبر بلد في إفريقيا و في المغرب العربي ، و كذلك في الوطن العربي .

1/ تمثل هذه الخريطة تمثل **هذه الخريطة خريطة الوطن العربي** .

2/ من خلال الخريطة أسند لكل رقم من 1 إلى 6 البلد المناسب له .

3/ البلدان الغير عربيان اللذان لهما حدود مع الجزائر هما : **النيجر و مالي** .

4/ يحد الجزائر من **الشمال البحر الأبيض المتوسط** .



1 الجزائر ، 2 تونس ، 3 ليبيا

4 المغرب الأقصى ، 5 الصحراء الغربية ، 6 موريتانيا

بالتوفيق

السنة الدراسية 2017/2018
المقاطعة ع 29 بالأخصرية

ابتدائية فرهي رشيد
السنة الرابعة ابتدائي

امتحان الفصل الأول المقترح في الجغرافيا رقم 3

التمرين الأول : (2,5 ن)

أجب بصحيح أو خطأ :

* الأرض هي أحد كواكب المجموعة الشمسية .

* مساحة الجزائر 510 مليون كيلومتر مربع .

* خط غرينتش هو خط وهمي يقسم الكرة الأرضية إلى قسمين

* القارة هي مساحة واسعة من الأرض تحيط بها البحار و المحيطات .

* خط الاستواء يمر من مدينة مستغانم .

التمرين الثاني : (2 ن)

أذكر مكونات الخريطة .

1/ ، 2/ ، 3/ ، 4/

التمرين الثالث : (5,5 ن)

أذكر محيطات و قارات العالم :

المحيطات	القارات
1/ ، 2/	1/ ، 2/
3/ ، 4/	3/ ، 4/
5/	5/ ، 6/

بالتوفيق

تصحيح امتحان الفصل الأول المقترح في الجغرافيا رقم 3

التمرين الأول : (2 ن)

أجب بصحيح أو خطأ :

صحيح

خطأ

صحيح

صحيح

خطأ

صحيح

خطأ

خطأ

* الأرض هي أحد كواكب المجموعة الشمسية .

* مساحة الجزائر 510 مليون كيلومتر مربع .

* خط غرينتش هو خط وهمي يقسم الكرة الأرضية عموديا إلى قسمين

* الأرض تتكون من يابس و ماء .

* تطل الجزائر على البحر الأحمر .

* القارة هي مساحة واسعة من الأرض تحيط بها البحار و المحيطات .

* مصر و السودان بلدان يجاوران الجزائر .

* خط الاستواء يمر من مدينة مستغانم .

التمرين الثاني : (3 ن)

مكونات الخريطة هي :

1/ العنوان ، 2/ المفتاح ، 3/ المقياس ، الاتجاه

التمرين الثالث : (4,5 ن)

محيطات و قارات العالم :

المحيطات	القارات
1/ المحيط الهادي ، 2/ المحيط الأطلسي	1/ إفريقيا ، 2/ قارة أمريكا
3/ المحيط الهندي ، 4/ المحيط المتجمد الشمالي	3/ قارة آسيا ، 4/ القارة القطبية الجنوبية
5/ المحيط المتجمد الجنوبي .	5/ قارة أوقيانوسيا ، 6/ قارة أوروبا

امتحان الفصل الأول المقترح في الجغرافيا رقم 4

التمرين الأول : (3,5 ن)

أجب عن السؤالين التاليين :

1/ ما الفرق بين دائرة الاستواء و خط غرينتش ؟

2/ ماذا نقصد بحركتي الأرض ؟

التمرين الثاني : (3 ن)

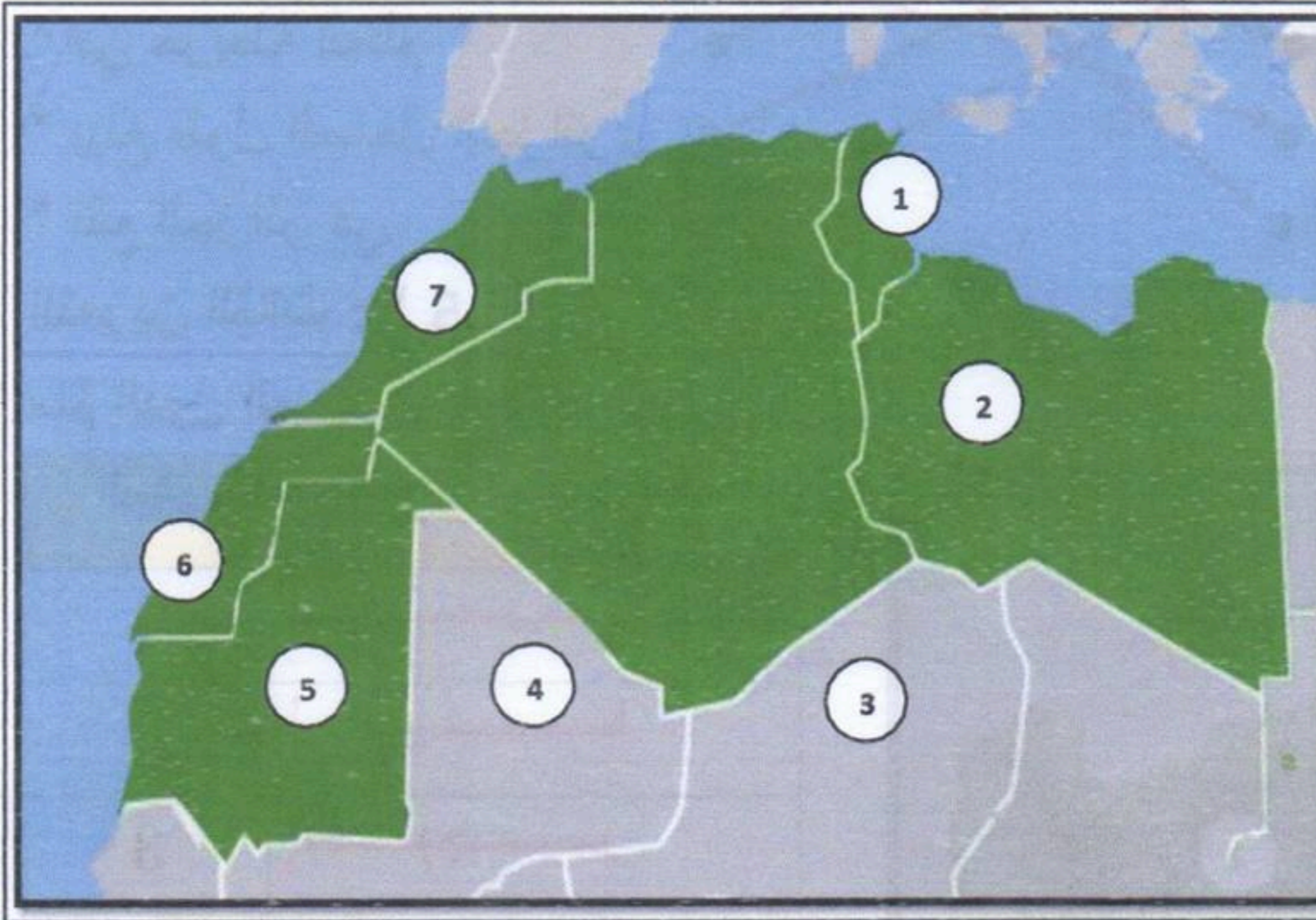
أربط بسهم بين العبارة و ما يناسبها :

- * الأرض هي أحد كواكب
- * مساحة الأرض
- * الخريطة
- * في خريطة العالم
- * يبلغ طول الساحل الجزائري
- * تقع الجزائر في

- تحتل الجزائر موقعا متوسطا
- 1200 كيلومتر
- الجهة الغربية للوطن العربي
- 510 مليون كيلومتر مربع
- هي أداة جغرافية
- المجموعة الشمسية

التمرين الثالث : (3,5 ن)

سمّ الدول المحيطة بالجزائر حسب الرقم :



الرقم	الدولة
1
2
3
4
5
6
7

بالتوفيق

تصحيح امتحان الفصل الأول المقترح في الجغرافيا رقم 4

التمرين الأول : (3,5 ن)

أجيب عن السؤالين التاليين :

1/ الفرق بين دائرة الاستواء و خط غرينتش يبينه الجدول :

خط غرينتش	دائرة الاستواء
خط و همي يتوسط الكرة الأرضية عموديا و يقسمها إلى قسمين شرقي و غربي .	- دائرة وهمية تتوسط الكرة الأرضية أفقيا و تقسمها إلى قسمين شمالي و جنوبي

2/ نقصد بحركتي الأرض هو أن للأرض **حركتان** :

الحركة الأولى : دوران الأرض حول نفسها في مدة **24 ساعة** مما ينتج عنه تعاقب **الليل و النهار**.

الحركة الثانية : دوران الأرض حول الشمس في مدة **365 يوما** مما ينتج عنه تعاقب **الفصول الأربعة**.

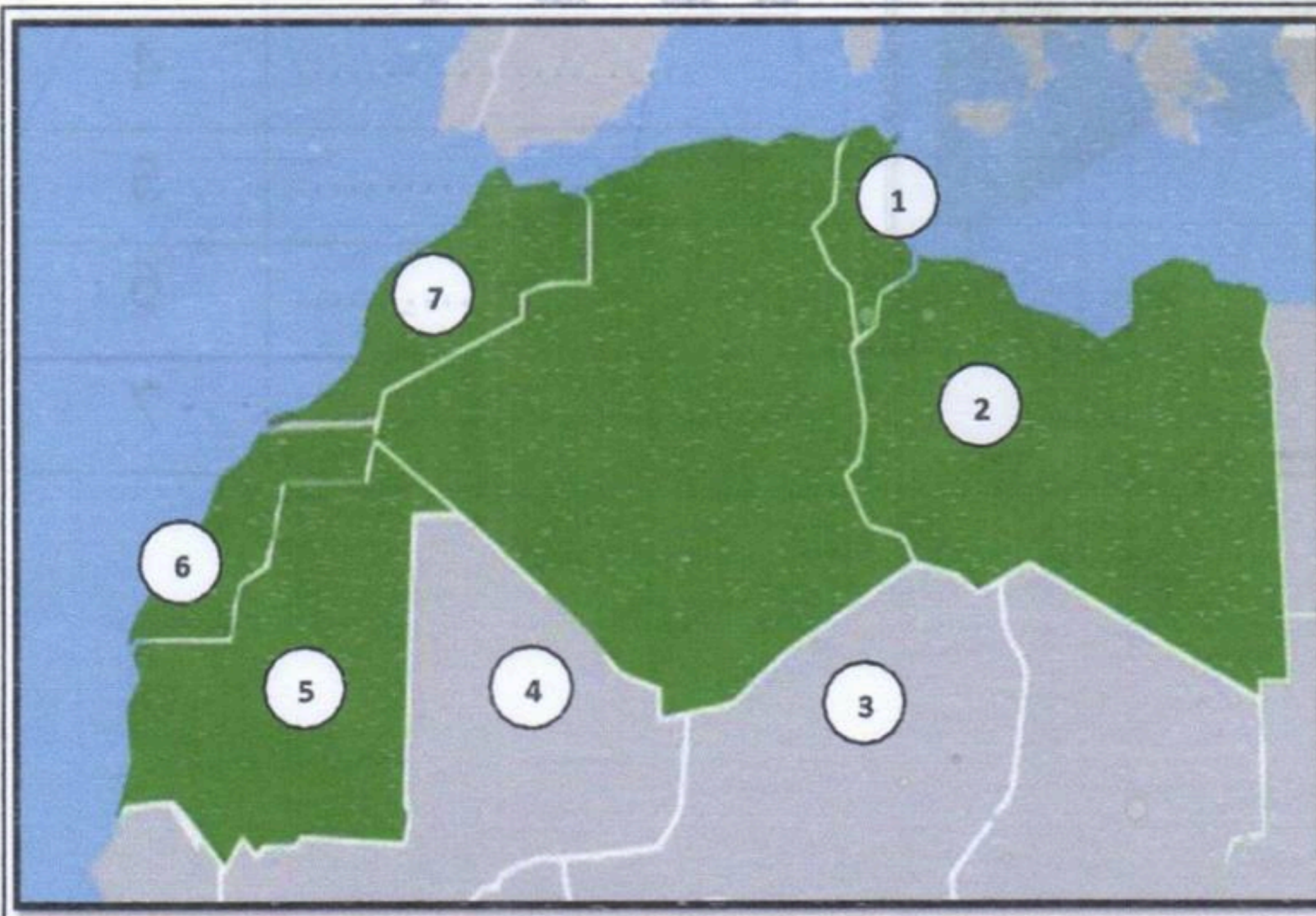
التمرين الثاني : (3 ن)

أربط بسهم بين العبارة و ما يناسبها :

- | | |
|----------------------------|------------------------------|
| * الأرض هي أحد كواكب | ● تحتل الجزائر موقعا متوسطا |
| * مساحة الأرض | ● 1200 كيلومتر مربع |
| * الخريطة | ● الجهة الغربية للوطن العربي |
| * في خريطة العالم | ● 510 مليون كيلومتر مربع |
| * يبلغ طول الساحل الجزائري | ● هي أداة جغرافية |
| * تقع الجزائر في | ● المجموعة الشمسية |

التمرين الثالث : (3,5 ن)

سمِّ الدول المحيطة بالجزائر حسب الرقم :



الرقم	الدولة
1	تونس
2	ليبيا
3	النيجر
4	مالي
5	موريتانيا
6	الصحراء الغربية
7	المغرب الأقصى

امتحان الفصل الأول المقترح في الجغرافيا رقم 5

التمرين الأول : (4 ن)

أجب عن الأسئلة التالية :

1/ أذكر 3 عناصر تدل على الانتماء المغربي .

1/ ، 2/ ، 3/

2/ كم قارة يربطها البحر الأبيض المتوسط ؟

التمرين الثاني : (3 ن)

أملأ الفراغ بما يناسب من الكلمات التالية :

المغرب الأقصى - متوسطيا - إفريقيا - الأولى - تونس - ليبيا - الصحراء الغربية - موريطانيا -

مالي - النيجر - 2381741 كم² - عربيا .

* لجغرافية الجزائر الكثير من المميزات منها : امتدادها الواسع على مساحة كم² حيث أنها

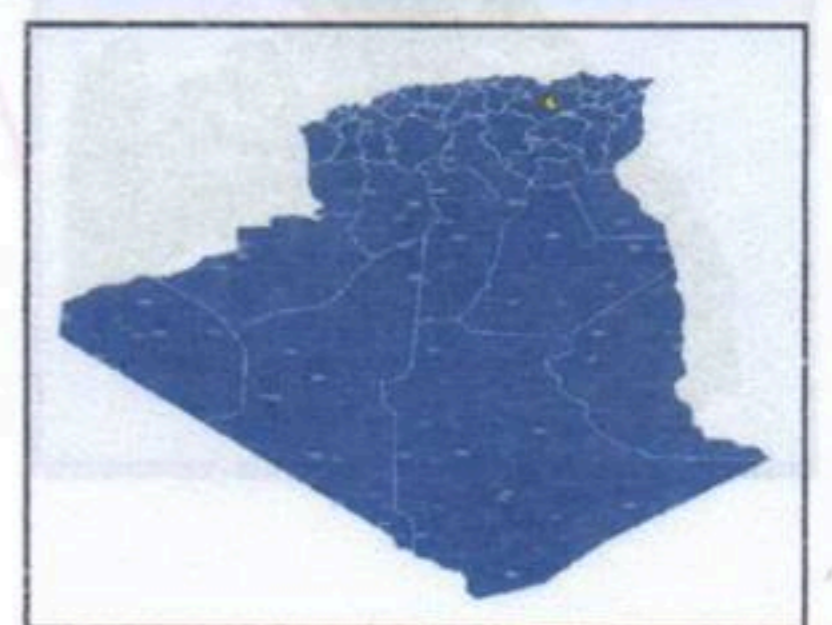
تحتل المرتبة 10 عالميا و إفريقيا و بالتالي فهي الأكبر مساحة مغاربيًا و و

و لها حدود مع 7 دول إفريقية هي :

..... ، ، ، ، ، ، ،

التمرين الثالث : (3 ن)

أربط كل خريطة بالاسم المناسب :



- قارة إفريقيا
- خريطة المغرب العربي
- قارة آسيا
- خريطة الجزائر
- قارة أمريكا
- خريطة الوطن العربي

بالتوفيق

تصحيح امتحان الفصل الأول المقترح في الجغرافيا رقم 5

التمرين الأول : (4 ن)

أجيب عن الأسئلة التالية :

1/ الثلاثة عناصر التي تدل على الانتماء المغربي هي :

1/ روابط ثقافية ، 2/ روابط لغوية و دينية ، 3/ عادات و تقاليد مشتركة

2/ يربط البحر الأبيض المتوسط 3 قارات و هي آسيا و إفريقيا و أوروبا

التمرين الثاني : (3 ن)

أملأ الفراغ بما يناسب من الكلمات التالية :

المغرب الأقصى - متوسطيًا - إفريقيا - الأولى - تونس - ليبيا - الصحراء الغربية - موريطانيا -

مالي - النيجر - 2381741 كم² - عربيًا .

* لجغرافية الجزائر الكثير من المميزات منها : امتدادها الواسع على مساحة 2381741 كم² حيث أنها

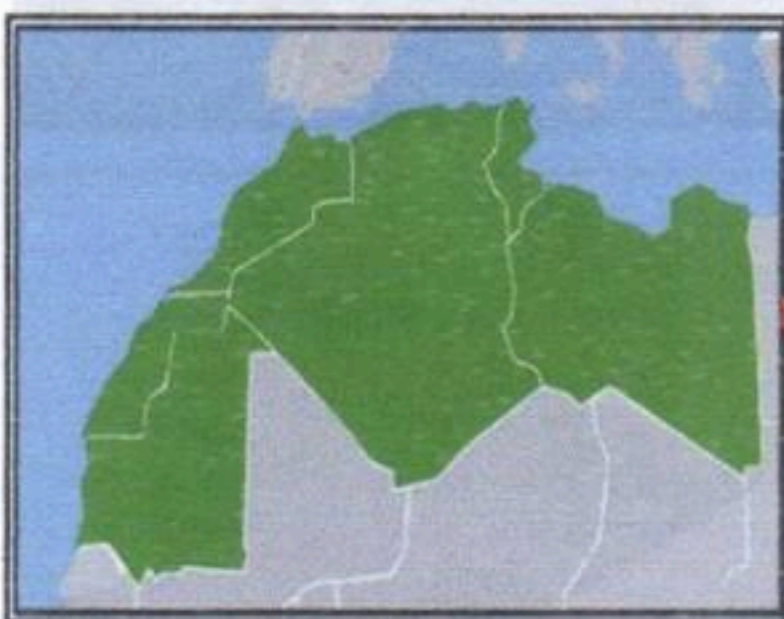
تحتل المرتبة 10 عالميًا و الأولى إفريقيا و بالتالي فهي الأكبر مساحةً مغربيًا و إفريقياً و عربيًا و

متوسطيًا ، لها حدود مع 7 دول إفريقية هي : تونس ، ليبيا ، موريطانيا ، الصحراء الغربية ، المغرب

الأقصى ، مالي ، النيجر

التمرين الثالث : (3 ن)

أربط كل خريطة بالاسم المناسب :



- قارة إفريقيا
- خريطة المغرب العربي
- قارة آسيا
- خريطة الجزائر
- قارة أمريكا
- خريطة الوطن العربي

