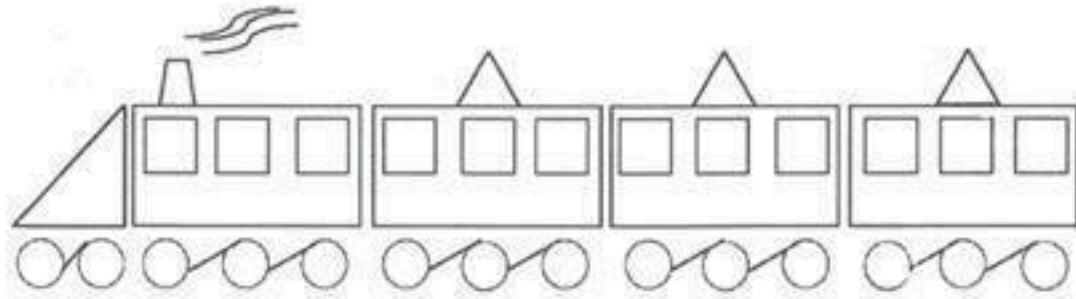


اللقب :	10	ابتدائية سماعين دحمان بالمويج	
الاسم :		السنة الدراسية : 2016 / 2017	
السلة الثانية ابتدائي	اختبار الفصل الثالث في مادة التربية التشكيلية		

3 نقاط

التمرين الأول


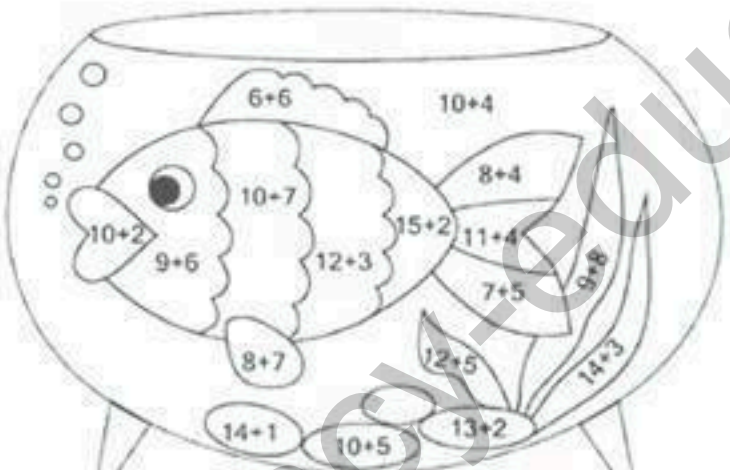





لون : المربعات بالأزرق ، المستطيلات بالأصفر ، الدوائر بالأخضر ، المثلثات بالأحمر .

7 نقاط

التمرين الثاني

أجد المساويات وألون حسب لون الناتج

 -14		 -17
 -12		 -15


امضاء الولي

x

اللقب :	10	ابتدائية سماعين دحمان بالمويج	
الاسم :		السنة الدراسية : 2016 / 2017	
السلة الثانية ابتدائي	اختبار الفصل الثالث في مادة التربية التشكيلية		

3 نقاط

التمرين الأول


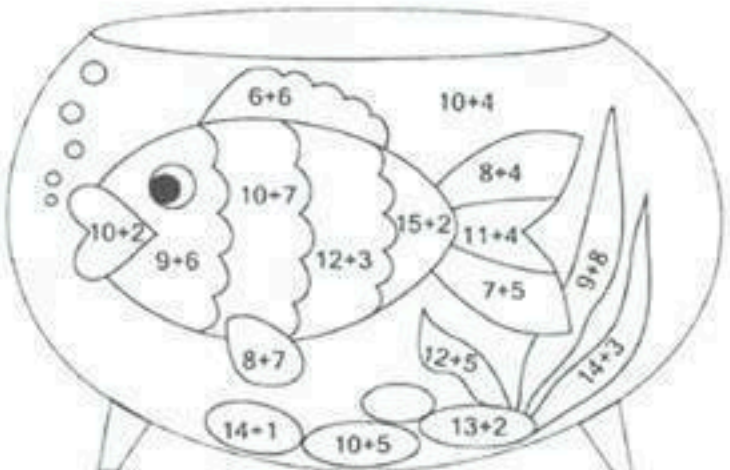





لون : المربعات بالأزرق ، المستطيلات بالأصفر ، الدوائر بالأخضر ، المثلثات بالأحمر .

7 نقاط

التمرين الثاني

أجد المساويات وألون حسب لون الناتج

 -14		 -17
 -12		 -15

امضاء الولي

x