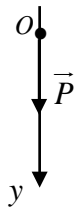
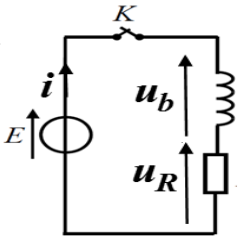


العلامة		عناصر الإجابة - الموضوع الأول
مجموع	مجزأة	
0,50	0,25 0,25	<p>الجزء الأول: (14 نقطة)</p> <p>التمرين الأول: (04 نقاط)</p> <p>الطريقة الأولى:</p> <p>1. نوع السقوط: سقوط حر</p> <p>التبرير: الكرية خاضعة لتأثير قوة ثقلها فقط</p>
1,00	0,25 × 2 0,25 × 2	<p>2. ايجاد المعادلة التفاضلية التي تحققها الفاصلة $y(t)$ لموضع الكرية:</p> $\sum \vec{F}_{ext} = m \vec{a}_G \Rightarrow \vec{P} = m \vec{a}_G$ <p>بالإسقاط على المحور (Oy) وأخذ القيم الجبرية نجد: $m g = m a_G \Rightarrow \frac{d^2 y}{dt^2} = g$</p> 
0,75	0,25 × 2 0,25	<p>3. ايجاد الارتفاع h لمئذنة الجامع:</p> <p>بما أن الحركة مستقيمة متسارعة بانتظام فإن: $v^2 - v_0^2 = 2gh \rightarrow h = \frac{v^2}{2g}$</p> $h = \frac{(72,11)^2}{2 \times 9,80} = 265,3 m$ <p>ملاحظة: تقبل طرق أخرى للحل</p>
1,00	0,25 0,25 0,25 0,25	<p>الطريقة الثانية:</p> <p>1. التحقق من كتلة الكرية:</p> <p>البيان خط مستقيم معادلته من الشكل: $E_C = A \cdot t^2 + B$</p> <p>بالمطابقة مع العبارة النظرية المعطاة، نجد: $A = \frac{1}{2} m g^2 \Rightarrow m = \frac{2A}{g^2}$</p> <p>حيث $A = \frac{\Delta E_C}{\Delta t^2} = 4,8 J \cdot s^{-2}$</p> $m = \frac{2 \times 4,8}{9,8^2} \approx 0,1 Kg \rightarrow m \approx 100 g$
0,75	0,25 0,25 0,25	<p>2. معادلة انحفاظ الطاقة: $E_{C_0} + W(\vec{P}) = E_{C_p}$</p> <p>استنتاج h ارتفاع مئذنة الجامع: $h = \frac{E_{C_p} - E_{C_0}}{m g}$</p> <p>ت ع: $h = \frac{280 - 20}{0,1 \times 9,8} = 265,3 m$</p>
1,00	0,25	<p>التمرين الثاني: (04 نقاط)</p> <p>1.1. تعريف النشاط الإشعاعي: تحول نووي تلقائي لنواة مشعة إلى نواة أخرى أكثر استقرارا مع انبعاث اشعاعات وجسيمات.</p>

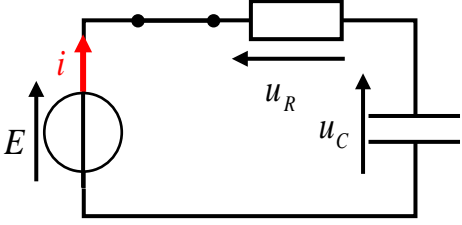
	0,25	2.1 كتابة معادلة تفكك نواة نظير الثاليوم 201 : ${}_{81}^{201}\text{Tl} \rightarrow {}_Z^A\text{Hg} + {}_{+1}^0e + \gamma$																													
	0,25	حسب قانوني الانحفاظ لصودي: $\begin{cases} 201 = A \\ 81 = Z + 1 \end{cases} \Rightarrow \begin{cases} A = 201 \\ Z = 80 \end{cases}$																													
	0,25	${}_{81}^{201}\text{Tl} \rightarrow {}_{80}^{201}\text{Hg} + {}_{+1}^0e + \gamma$																													
1,25	0,25 × 2	1.1 حساب قيمة النشاط A للمحلل المشع لحظة استعماله:																													
	0,25	$A = A_0 e^{-\lambda t}$, $\lambda = \frac{\ln 2}{t_{1/2}}$																													
	0,25	$A = A_0 e^{-\frac{\ln 2}{t_{1/2}} t} = 153,9 \times 10^6 \times e^{-\frac{\ln 2}{73} \times 24} = 122,5 \times 10^6 \text{ Bq}$																													
	0,25 × 2	2.2 نشاط العينة: $12,25 \times 10^7 \text{ Bq} > 11 \times 10^7 \text{ Bq}$ اذن نشاط العينة كاف لإجراء عملية التصوير الطبي.																													
1,75	0,25	1.3 التعبير عن النسبة $\frac{A_{(81}^{202}\text{Tl})}{A_{(81}^{201}\text{Tl})}$ بدلالة الزمن:																													
	0,25	منه: $A_{(81}^{201}\text{Tl}) = A_{01} \cdot e^{-\lambda_{(81}^{201}\text{Tl}) \cdot t}$																													
	0,25	$A_{(81}^{202}\text{Tl}) = A_{02} \cdot e^{-\lambda_{(81}^{202}\text{Tl}) \cdot t}$																													
0,25 × 2	$\frac{A_{(81}^{202}\text{Tl})}{A_{(81}^{201}\text{Tl})} = \frac{A_{02} \cdot e^{-\lambda_{(81}^{202}\text{Tl}) \cdot t}}{A_{01} \cdot e^{-\lambda_{(81}^{201}\text{Tl}) \cdot t}} = 0,005 \cdot e^{(\lambda_{(81}^{201}\text{Tl}) - \lambda_{(81}^{202}\text{Tl}) \cdot t)} = 0,005 \cdot e^{1,982 \times 10^{-6} t}$																														
	0,25	2.3 المدة الزمنية التي من أجلها تصبح العينة غير صالحة للاستخدام:																													
0,25 × 2	0,02 = 0,005 · e ^{1,982×10⁻⁶t} ⇒ e ^{1,982×10⁻⁶t} = $\frac{0,02}{0,005} = 4$																														
	0,25 × 2	$\ln e^{1,982 \times 10^{-6} t} = \ln 4 \Rightarrow t = \frac{\ln 4}{1,982 \times 10^{-6}} = 699442,16 \text{ s} = 194,3 \text{ h}$																													
0,50		التمرين الثالث: (06 نقاط)																													
	0,5	أولاً: الدراسة الحركية لتفاعل أكسدة-إرجاع 1. ظهور اللون الأزرق: يدل على حدوث تفاعل كيميائي وتشكل شوارد النحاس الثنائي Cu ²⁺ .																													
2,50	0,25	1.1 تصنيف التحول من حيث مدة حدوثه: التحول بطيء																													
		2.2 جدول تقدم التفاعل الحادث:																													
	0,25 × 2	<table border="1"> <thead> <tr> <th colspan="2">المعادلة</th> <th colspan="4">$\text{Cu}(s) + 2\text{Ag}^+(aq) = \text{Cu}^{2+}(aq) + 2\text{Ag}(s)$</th> </tr> <tr> <th>حالة الجملة</th> <th>التقدم</th> <th colspan="4">كمية المادة</th> </tr> </thead> <tbody> <tr> <td>ابتدائية</td> <td>0</td> <td>$n_0 = \frac{m}{M}$</td> <td>cV</td> <td>0</td> <td>0</td> </tr> <tr> <td>انتقالية</td> <td>x</td> <td>n₀ - x</td> <td>cV - 2x</td> <td>x</td> <td>2x</td> </tr> <tr> <td>نهائية</td> <td>x_f</td> <td>n₀ - x_f</td> <td>cV - 2x_f</td> <td>x_f</td> <td>2x_f</td> </tr> </tbody> </table>	المعادلة		$\text{Cu}(s) + 2\text{Ag}^+(aq) = \text{Cu}^{2+}(aq) + 2\text{Ag}(s)$				حالة الجملة	التقدم	كمية المادة				ابتدائية	0	$n_0 = \frac{m}{M}$	cV	0	0	انتقالية	x	n ₀ - x	cV - 2x	x	2x	نهائية	x _f	n ₀ - x _f	cV - 2x _f	x _f
المعادلة		$\text{Cu}(s) + 2\text{Ag}^+(aq) = \text{Cu}^{2+}(aq) + 2\text{Ag}(s)$																													
حالة الجملة	التقدم	كمية المادة																													
ابتدائية	0	$n_0 = \frac{m}{M}$	cV	0	0																										
انتقالية	x	n ₀ - x	cV - 2x	x	2x																										
نهائية	x _f	n ₀ - x _f	cV - 2x _f	x _f	2x _f																										

		<p>3.2. تحديد قيمة التقدم النهائي والمتفاعل المُحد:</p> <p>✓ التقدم النهائي:</p> $[Cu^{2+}]_f = \frac{n_f(Cu^{2+})}{V} = \frac{x_f}{V} \Rightarrow x_f = [Cu^{2+}]_f \cdot V$ <p>من البيان $[Cu^{2+}]_f = 5 \times 10^{-3} \text{ mol} \cdot L^{-1}$</p> <p>ومنه $x_f = 5 \times 10^{-4} \text{ mol}$</p> <p>✓ استنتاج المتفاعل المحد:</p> $n_0 = \frac{m}{M} = 0,1 \text{ mol}$ <p>في الحالة النهائية $n_f(Cu) = n_0 - x_f = 9,95 \times 10^{-2} \text{ mol} \neq 0$</p> <p>ومنه المتفاعل المحد هو Ag^+.</p>
0,25 × 2		
0,25		
0,25		
0,25		
0,25		
0,25		
0,25		
0,75		<p>3. حساب السرعة الحجمية للتفاعل في اللحظة $t = 0$:</p> $v_{vol} = \frac{1}{V} \frac{dx}{dt}, \quad n(Cu^{2+}) = x$ $v_{vol} = \frac{1}{V} \frac{dn(Cu^{2+})}{dt} = \frac{d\left(\frac{n(Cu^{2+})}{V}\right)}{dt} = \frac{d[Cu^{2+}]}{dt}$ <p>- قيمتها في اللحظة $t = 0$</p> $v_{vol_0} = \left(\frac{d[Cu^{2+}]}{dt}\right)_{t=0} = \frac{\Delta[Cu^{2+}]}{\Delta t} = 3,33 \times 10^{-4} \text{ mol} \cdot L^{-1} \cdot \text{min}^{-1}$
0,25		
0,25		
0,25		
0,50	0,25 × 2	<p>ثانيا: اشتغال عمود</p> <p>1. حساب كسر التفاعل الابتدائي: $Q_{r,i} = \frac{[Sn^{2+}]_0}{[Pb^{2+}]_0} = 0,67$</p>
0,50	0,25 × 2	<p>2. استنتاج جهة التطور التلقائي للجملة أثناء اشتغال العمود:</p> <p>بما أن $Q_{r,i} < K$ فإن الجملة تتطور تلقائيا في الاتجاه المباشر.</p>
0,50	0,25	<p>3. كتابة المعادلتين النصفيتين:</p> <p>بجوار مسرى الرصاص $Pb^{2+}(aq) + 2e^- = Pb(s)$</p> <p>بجوار مسرى القصدير $Sn(s) = Sn^{2+}(aq) + 2e^-$</p>
0,50	0,25	<p>4. الرمز الاصطلاحي للعمود: $\ominus Sn Sn^{2+} Pb^{2+} Pb \oplus$</p>
0,25	0,25	
0,50	0,25	<p>1.5. كسر التفاعل: $Q_r = \frac{[Sn^{2+}]}{[Pb^{2+}]} = 2,18$</p>
0,25	0,25	<p>2.5. نلاحظ أن $Q_r = K$ والعمود يتوقف عن الاشتغال.</p>

	0,25 × 2	<p>الجزء الثاني: (06 نقاط) التمرين التجريبي: (06 نقاط) 1.1. جهة التيار وأسهم التوترات:</p> 
2,00	0,25 0,25 × 2 0,25	<p>2.1. إيجاد المعادلة التفاضلية التي تُحققها شدة التيار المار في الدارة: بتطبيق قانون جمع التوترات: $u_R + u_b = E$ $Ri + ri + L \frac{di}{dt} = E$ $\frac{di}{dt} + \frac{(R+r)}{L} \cdot i = \frac{E}{L}$</p>
	0,25 × 2	<p>3.1. إثبات عبارة التوتر الكهربائي: $u_b = E - u_R = E - Ri = I_0 \left(r + Re^{-\frac{Rr}{L}t} \right)$ أو $u_b = L \frac{di}{dt} + ri = I_0 \left(r + Re^{-\frac{Rr}{L}t} \right)$</p>
4,00	0,25	<p>1.1. كيفية تطور التوتر بين طرفي الوشيعة: يتناقص التوتر $u_b(t)$ من قيمة عظمى في اللحظة $t = 0$ إلى قيمة صغرى (نظام انتقالي) ثم يحافظ على نفس القيمة (نظام دائم).</p>
	0,25 × 2 0,25	<p>2.2. شدة التيار الكهربائي في النظام الدائم في التجريبتين: $r_1 + R_1 = r_2 + R_2$ حيث: $I_{01} = \frac{E}{r_1 + R_1}$; $I_{02} = \frac{E}{r_2 + R_2}$ منه: $I_{01} = I_{02}$ شدة التيار الكهربائي في النظام الدائم هي نفسها في التجريبتين</p>
	0,25 0,25 0,25	<p>3.2. المنحنى (1) يوافق $u_{b1}(t)$ في النظام الدائم $\left. \begin{aligned} u_{b1} &= I_0 \cdot r_1 \\ u_{b2} &= I_0 \cdot r_2 \end{aligned} \right\}$ منه $r_1 > r_2$ منه $u_{b1} > u_{b2}$ (في النظام الدائم) وعليه المنحنى (1) يوافق $u_{b1}(t)$.</p>
	0,25 0,25 0,25	<p>4.2. إيجاد بيانيا قيمة كل من: - القوة المحركة الكهربائية للمولد: $E = 2 \times 5 = 10V$ - ثابت الزمن τ_1: $\tau_1 = 1ms$ - ثابت الزمن τ_2: $\tau_2 = 1,5ms$</p>

<p>0,25 × 2 0,25 × 2</p>	<p>5.2. استنتاج قيمتي L_1 و L_2 :</p> $\tau_1 = \frac{L_1}{R_T} \Rightarrow L_1 = 0,1 H$ $\tau_2 = \frac{L_2}{R_T} \Rightarrow L_2 = 0,15 H$
<p>0,50</p>	<p>6.2. تبرير سبب تأخر بلوغ النظام الدائم في التجربة الثانية عن التجربة الأولى:</p> <p>زمن بلوغ النظام الدائم هو 5τ و $\tau = \frac{L}{R_T}$. بما أن R_T نفسها فإن التأخر في بلوغ النظام الدائم في التجربة الثانية يعود الى قيمة ذاتية الوشيعة L_2 أكبر من L_1 .</p>

العلامة		عناصر الإجابة - الموضوع الثاني
مجموع	مجزأة	
2,00	0,25	<p>الجزء الأول: (14 نقطة)</p> <p>التمرين الأول: (04 نقاط)</p> <p>1. التورיום 232 والانشطار النووي</p> <p>1.1.1 تعريف الانشطار النووي:</p> <p>تفاعل نووي يتم فيه قذف نواة ثقيلة بنيترتون فتنقسم إلى نواتين أخف وتحرير نيترونات مع اصدار طاقة.</p>
	0,25	<p>2.1.1 التفاعل رقم (1) ليس تفاعل انشطار لأن الانشطار ينتج نواتين بينما هذا التفاعل أعطى نواة واحدة فقط.</p>
	0,50	<p>3.1.1 اكمال المعادلة (1): ${}_{90}^{232}\text{Th} + {}_0^1n \rightarrow {}_{90}^{233}\text{Th}$</p>
	0,25	<p>2.1 حساب الطاقة المتحررة عن انشطار نواة ${}_{92}^{233}\text{U}$:</p> $E_{lib} = (m_i - m_f).c^2 = \Delta m .c^2$ $ \Delta m = m({}_{92}^{233}\text{U}) - (m({}_{54}^{137}\text{Xe}) + m({}_{38}^{94}\text{Sr}) + 2m({}_0^1n))$ $ \Delta m = 233,03963 - (136,91156 + 93,91536 + 2 \times 1,00866)$ $ \Delta m = 0,19539u$ $E_{lib} = 0,19539u \times 931,5 = 182\text{MeV}$
2,00	0,25	<p>2. التورיום 230 والتأريخ:</p> <p>1.2 معادلة تفكك اليورانيوم 234: ${}_{92}^{234}\text{U} \rightarrow {}_{90}^{230}\text{Th} + {}_2^4\text{He}$</p> <p>نمط التفكك: α</p>
	0,25	<p>1.2.2 قانون التناقص الإشعاعي:</p> $N(t) = N_0 e^{-\lambda t}$
	0,25	<p>2.2.2 اثبات العلاقة $\frac{N({}_{90}^{230}\text{Th})}{N({}_{92}^{234}\text{U})} = e^{\lambda t} - 1$:</p> $N_U(t) = N_{U0} e^{-\lambda t}$ $N_{Th}(t) = N_{U0} - N_U(t) = N_{U0} - N_{U0} e^{-\lambda t} = N_{U0} (1 - e^{-\lambda t})$ $\frac{N_{Th}(t)}{N_U(t)} = \frac{N_{Th}(t)}{N_U(t)} = \frac{N_{U0} (1 - e^{-\lambda t})}{N_{U0} e^{-\lambda t}} = \frac{1 - e^{-\lambda t}}{e^{-\lambda t}} = e^{\lambda t} (1 - e^{-\lambda t})$ $\frac{N_{Th}(t)}{N_U(t)} = e^{\lambda t} - 1$

		<p>3.2.2. حساب عمر الصخرة البحرية:</p> $\frac{N_{Th}(t)}{N_U(t)} = \frac{3}{4}$ $e^{\lambda t} - 1 = \frac{3}{4}$ $e^{\lambda t} = 1,75 ; t = \frac{t_{1/2}}{\ln 2} \ln 1,75 = 1,98 \times 10^5 \text{ ans}$
0,25		
0,25		
0,50	0,25 × 2	<p>التمرين الثاني: (04 نقاط)</p> <p>1. جهة التيار وأسهم التوترات:</p> 
1,50	0,25 × 3	<p>2. المعادلة التفاضلية التي تحققها شحنة المكثفة:</p> $u_C + u_R = E \Rightarrow \frac{q(t)}{C} + R \frac{dq(t)}{dt} = E$ $RC \frac{dq(t)}{dt} + q(t) - EC = 0$ <p>بالمطابقة: $a = RC$, $b = EC$</p> <p>المدلول الفيزيائي a: هو ثابت الزمن و يمثل الزمن اللازم لبلوغ شحنة المكثفة 63% من قيمتها الأعظمية. b هو الشحنة الأعظمية.</p>
0,25		
0,25 × 2		
0,50	0,50	<p>3. التأكد من حل المعادلة التفاضلية:</p> <p>بتعويض العبارة $q(t) = EC(1 - e^{-\frac{t}{RC}})$ في المعادلة التفاضلية نجد:</p> $RC \frac{d(EC(1 - e^{-\frac{t}{RC}}))}{dt} + EC(1 - e^{-\frac{t}{RC}}) - EC = 0$ $EC.e^{-\frac{t}{RC}} + EC - EC.e^{-\frac{t}{RC}} - EC = 0$ <p>ملاحظة: يمكن استعمال المعادلة التفاضلية والحل المعطى بدلالة الثوابت.</p>
0,25	0,25	<p>4. تحديد قيمة ثابت الزمن بيانيا: $\tau = 22 \text{ s}$</p>
0,75	0,25	<p>5. عبارة الطاقة:</p> $E_C = \frac{1}{2} C (u_C(t))^2 \Rightarrow E_C = \frac{(q(t))^2}{2C}$ <p>قيمة الطاقة عندما تبلغ شحنتها 89% من شحنتها الأعظمية:</p> <p>من البيان الشحنة العظمى للمكثفة: $Q_{\max} = 6,6 \times 3 = 19,8 \text{ mC}$</p> <p>منه: $E_C = \frac{1}{2} \frac{(0,89 \times Q_{\max})^2}{C} = \frac{(0,89 \times 19,8 \cdot 10^{-3})^2}{2 \times 2,2 \times 10^{-3}} = 0,07 = 7 \times 10^{-2} \text{ J}$</p>
0,25		
0,25		
0,50	0,25	<p>6. إيجاد المدة الزمنية القصوى:</p> <p>شحنة المكثفة الموافقة للتوتر 8 V: $q = C \times u_C = 2,2 \times 10^{-3} \times 8 = 17,6 \times 10^{-3} \text{ C}$</p> <p>من البيان نستنتج أن: $\Delta t \approx 48,4 \text{ s}$</p>
0,25		
0,25		

		<p>التمرين الثالث: (06 نقاط)</p> <p>1. دراسة حركة مركز عطالة الكرة</p> <p>1.1.1. العبارة الشعاعية \vec{a}_G لتسارع مركز عطالة الكرة:</p> $\Sigma \vec{F}_{ext} = m\vec{a}_G \Rightarrow \vec{P} = m\vec{a}_G$ $\vec{a}_G = \vec{g} = -g \vec{k}$
	0,25 × 2	
	0,25	
3,5	0,25 × 2	<p>2.1.1. المعادلتان الزمئيتان $x(t)$ و $z(t)$ لحركة مركز عطالة الكرة.</p> <p>الشروط الابتدائية:</p> $\overline{OG_0} \begin{cases} x_0 = 0 \\ z_0 = 0 \end{cases} \quad \vec{v}_0 \begin{cases} v_{0x} = v_0 \cos \alpha \\ v_{0z} = v_0 \sin \alpha \end{cases}$
	0,25 × 2	$\begin{cases} v_x = v_0 \cos \alpha \\ v_z = -gt + v_0 \sin \alpha \end{cases}$
	0,25 × 2	$\begin{cases} x(t) = v_0 \cos \alpha \cdot t \\ z(t) = -\frac{g}{2} t^2 + v_0 \sin \alpha \end{cases} \Rightarrow \begin{cases} x(t) = 5,28t \dots\dots\dots 1 \\ z(t) = -4,9t^2 + 10,8t \dots\dots\dots 2 \end{cases}$
	0,25	<p>3.1.1. معادلة مسار مركز عطالة الكرة:</p> <p>من عبارة $x(t)$، نستنتج أن: $t = \frac{x}{v_0 \cos \alpha} = \frac{x}{5,28}$</p> <p>نعوض في عبارة $z(t)$، نجد: $z(x) = -0,176x^2 + 2,05x$</p>
	0,25	
	0,25	<p>1.2.1.</p> <p>الشرطان: $d < x_A$; $z_A < h$</p>
	0,25	<p>2.2.1. التحقق من امكانية تسجيل الهدف</p> <p>نعوض بـ $x_A = 11m$ في معادلة المسار $z(x) = -0,176x^2 + 2,05x$</p> <p>نجد أن: $z_A = 1,2m$</p> <p>$z_A = 1,2m < 2,44m$ يمكن للاعب تسجيل الهدف</p>
	0,25	
2,5	0,25 × 2	<p>2. الدراسة الطاقوية</p> <p>1.2. ارفاق كل منحني بياني بشكل الطاقة الموافقة:</p> <p>$1 \rightarrow E_{pp}$; $2 \rightarrow E_c$; $3 \rightarrow E$</p> <p>التعليل: الصعود: $E = C^{te}$ ، $E_c \searrow v \searrow$ ، $E_{pp} \nearrow h \nearrow$</p> <p>الهبوط: $E = C^{te}$ ، $E_c \nearrow v \nearrow$ ، $E_{pp} \searrow h \searrow$</p> <p>ملاحظة: تقبل تبريرات منطقية أخرى</p>
	0,25	<p>2.2. تبيان أن طاقة الجملة محفوظة:</p> <p>$E = Ec + Epp = C^{te}$ في أي لحظة لذلك فطاقة الجملة محفوظة</p>

	<p>0,25</p> <p>0,25</p> <p>0,25</p> <p>0,25</p>	<p>3.2. احداثيتي نقطة الذروة $S(x_s, z_s)$:</p> <p>من البيان: $x_s = 5,8m$</p> $z_s = \frac{E_{pps}}{mg}$ <p>من البيان $E_{pps} = 26,5J$</p> <p>ومنه: $z_s = \frac{26,5}{0,1 \times 9,8} = 6m$</p> <p>ملاحظة: تقبل حلول منطقية أخرى (معادلة المسار، استغلال المعادلات الزمنية....).</p>
	<p>0,25</p> <p>0,25</p> <p>0,25</p>	<p>4.2. قيمة الطاقة الحركية عند نقطة الذروة وسرعة مرور الكرة منها:</p> <p>الطاقة الحركية عند نقطة الذروة:</p> <p>من البيان: $E_{cs} = 6,0J$</p> <p>استنتاج سرعة المرور بنقطة الذروة:</p> $E_{cs} = \frac{1}{2}mv_s^2 \rightarrow v_s = \sqrt{\frac{2E_{cs}}{m}}$ <p>ت ع: $E_{cs} = \sqrt{\frac{2 \times 6}{0,45}} = 5,2m \cdot s^{-1}$</p>
<p>0,5</p>	<p>0,5</p>	<p>الجزء الثاني: (06 نقطة)</p> <p>التمرين التجريبي: (06 نقطة)</p> <p>أولا: تحضير إستر وتحسين مردوده</p> <p>1. الشكل التخطيطي:</p>
<p>0,50</p>	<p>0,25</p> <p>0,25</p>	<p>2. الصيغة الجزيئية نصف المفصلة للحمض والكحول:</p> <p>الحمض العضوي: $C_2H_5 - COOH$ أو:</p> $CH_3 - CH_2 - C \begin{matrix} \text{O} \\ \parallel \\ \text{OH} \end{matrix}$ <p>الكحول:</p> $CH_3 - \overset{\text{CH}_3}{\underset{ }{\text{CH}}} - CH_2 - CH_2 - OH$

0,75	0,5 0,25	<p>3. كتابة معادلة تفاعل الأسترة:</p> $\text{H}_3\text{C}-\overset{\text{CH}_3}{\text{CH}}-\text{CH}_2-\text{CH}_2-\text{OH} + \text{H}_3\text{C}-\text{CH}_2-\overset{\text{O}}{\parallel}{\text{C}}-\text{OH} = \text{H}_3\text{C}-\text{CH}_2-\overset{\text{O}}{\parallel}{\text{C}}-\text{O}-\text{CH}_2-\text{CH}_2-\overset{\text{CH}-\text{CH}_3}{\underset{\text{CH}_3}{\text{C}}} + \text{H}_2\text{O}$ <p>خصائصه: عكوس، لا حراري، بطيء.</p>
0,25	0,25	4. لا يظهر في معادلة التفاعل الكيميائي
0,75	0,25 × 2 0,25	<p>5. كمية المادة الحمض العضوي:</p> $n(\text{acide}) = \frac{m}{M} = \frac{14,8}{74} = 0,2 \text{ mol}$ <p>ومنه: المزيج الابتدائي متساوي المولات $n(\text{acide}) = n(\text{alcool})$</p>
0,50	0,25 × 2	<p>6. مردود التفاعل:</p> $r = \frac{n_{\text{ester}}}{n_{\text{acide}}} \cdot 100 = \frac{0,134}{0,2} \cdot 100 = 67\%$
0,50	0,25 0,25	<p>1.7 معادلة التفاعل:</p> $\text{H}_3\text{C}-\overset{\text{CH}_3}{\text{CH}}-\text{CH}_2-\text{CH}_2-\text{OH} + \text{H}_3\text{C}-\text{CH}_2-\overset{\text{O}}{\parallel}{\text{C}}-\text{Cl} = \text{H}_3\text{C}-\text{CH}_2-\overset{\text{O}}{\parallel}{\text{C}}-\text{O}-\text{CH}_2-\text{CH}_2-\overset{\text{CH}-\text{CH}_3}{\underset{\text{CH}_3}{\text{C}}} + \text{HCl}$ <p>2.7 خصائص التفاعل: تام، سريع، ناشر للحرارة.</p>
0,25	0,25	<p>8. اقتراح طريقة أخرى لتحسين مردود التفاعل: استعمال مزيج ابتدائي غير متساوي المولات، نزع الماء، نزع الأستر.</p>
0,25	0,25	<p>ثانيا: تأثير التخفيف على نسبة التقدم النهائي وثابت الحموضة</p> <p>1. معادلة التفاعل:</p> $\text{C}_2\text{H}_5\text{COOH}(\text{aq}) + \text{H}_2\text{O}(\text{aq}) = \text{C}_2\text{H}_5\text{COO}^-(\text{aq}) + \text{H}_3\text{O}^+(\text{aq})$

1,25	0,25	2. اكمل الجدول:														
		$\tau_f = \frac{x_f}{x_{max}} = \frac{[H_3O^+]}{c} = \frac{10^{-pH}}{c} ; k_a = \frac{c \tau_f^2}{1 - \tau_f}$														
	0,25 × 4	<table border="1"> <thead> <tr> <th>المحلول</th> <th>التركيز المولي $c (mol.L^{-1})$</th> <th>pH</th> <th>τ_f</th> <th>K_a</th> </tr> </thead> <tbody> <tr> <td>S_1</td> <td>$1,0 \times 10^{-2}$</td> <td>3,44</td> <td>0,036</td> <td>$1,34 \times 10^{-5}$</td> </tr> <tr> <td>S_2</td> <td>$1,0 \times 10^{-3}$</td> <td>3,96</td> <td>0,110</td> <td>$1,34 \times 10^{-5}$</td> </tr> </tbody> </table>	المحلول	التركيز المولي $c (mol.L^{-1})$	pH	τ_f	K_a	S_1	$1,0 \times 10^{-2}$	3,44	0,036	$1,34 \times 10^{-5}$	S_2	$1,0 \times 10^{-3}$	3,96	0,110
المحلول	التركيز المولي $c (mol.L^{-1})$	pH	τ_f	K_a												
S_1	$1,0 \times 10^{-2}$	3,44	0,036	$1,34 \times 10^{-5}$												
S_2	$1,0 \times 10^{-3}$	3,96	0,110	$1,34 \times 10^{-5}$												
0,50	0,25 0,25	3. الاستنتاج: عند تغيير التركيز المولي للمحلول لا تتغير قيمة ثابت الحموضة عندما ينقص التركيز المولي للمحلول تزداد نسبة التقدم النهائي للتفاعل τ_f														