

واجب منزلي لعطلة الشتاء ( 2020/2019 ) في مادة اللغة العربية

النص:

في السنّة الماضية أقمنا احتفالاً لأمي فهيات أختي فاطمة الحلوى و زينتها بفواكه مختلفه و جمع أخي حسن باقات من زهور الحديقة، و رسم أخي سليم صورة أمّ تحمل طفلاً كتب فوقها بخط جميل (( الجنّة تحت أقدام الأمّهات )) وأخفينا هذه الأشياء كلها في مكان لا تراه أمي.

بعد العشاء جلسنا كعادتنا حول أمنا لتناول الشاي. أخرجت أختي فاطمة من المطبخ أحسن الصّحون الصغيرة المزيّنة فيها قطع الحلوى اللذيذة، أما أخي حسن فأحضر باقة الزهور وكان وراءه أخي سليم يحمل صورة الأم التي رسمها.

قبلنا أمنا وتمنيينا لها حياة طيبة و عمراً طويلاً ثمّ قدّمنا لها الهدايا، فدّمت عين أمي من شدّة الفرح شكرتنا ثمّ ضمّتنا إليها جميعاً وقالت لنا: كم أنتم طيبون !. تركنا أمنا وتوجّهنا لغرفة النوم و بدأنا نخطّ لإقامة احتفال لأبينا.

أولاً: القراءة: اقرأ النص قراءة جهريّة سليمة عدّة مرّات.

ثانياً: البناء الفكري:

1- اختر عنواً مناسباً للنص:

2- ماذا كتب سليم فوق الصورة التي رسمها؟

3- أربط بين كلّ شخصيّة بما فعلته:

- |         |                         |
|---------|-------------------------|
| • فاطمة | • جمع باقات الزهور.     |
| • حسن   | • رسم صورة.             |
| • سليم  | • هيات الحلوى و زينتها. |

4- ابحث عن مرادف الكلمات التالية من النص:

فحضرت = .....

تلّمحه = .....

السرور = .....

## ثالثاً: البناء اللغوي:

1- صنف الكلمات في الجدول: كَتَبَ - الأمهات - طيبون - فواكه - كاتب

اسم الفاعل	الفعل الماضي	جمع المذكر السالم	جمع المؤنث السالم	جمع التفسير
.....	.....	.....	.....	.....

2- أكمل كتابة حرف التاء في الكلمات:

حَقلاً..... - هَدِيَّ..... - بَيْ.....

## الوضعية الإدماجية:

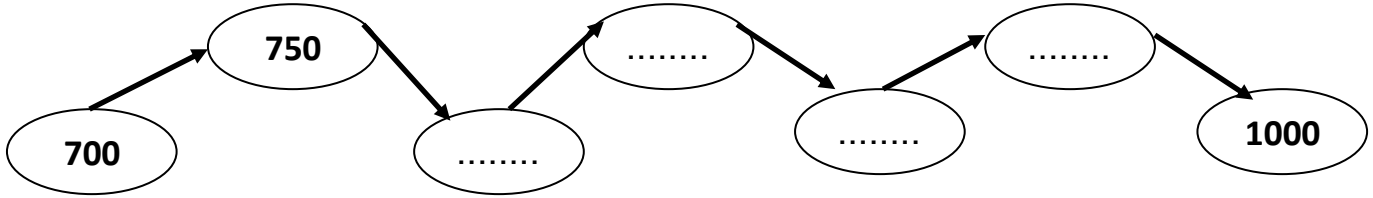
رتب الجمل بالأرقام (1-2-3-4) ثم اكتب النص مرتباً ويخط واضح:

- تَلَعَبُ مَعِي وَ تَحَكِي لِي الْقِصَصَ الْمُضْحِكَةَ.
- لِي أُخْتُ أَكْبَرُ مِنِّي بِخَمْسِ سَنَوَاتٍ إِسْمُهَا سَعَادٌ نُحِبُّنِي وَ تَعْتَنِي بِي.
- وَ بَعْدَ اللَّعْبِ نُسَاعِدُنِي فِي أَنْجَازِ وَاجِبَاتِي الْمَدْرَسِيَّةِ وَ نُرْشِدُنِي إِذَا أَخْطَأْتُ.
- وَ هَكَذَا أَصْبَحْتُ دَائِمًا الْأَوَّلُ فِي الْقِسْمِ، وَ سَعِيدٌ فِي الْمَنْزِلِ.

واجب منزلي لعطلة الشتاء ( 2020/2019 ) في مادة الرياضيات

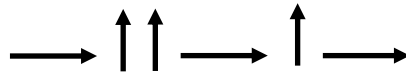

التَّمرينُ الأوَّلُ:

1- أكْمِلْ مُتتَالِيَةَ الأَعْدَادِ لِتَصِلَ لِلْعَدَدِ 1000:



التَّمرينُ الثَّانِي:

- أَرَسِّمُ المَسَلِّكَ عَلَى المَرصُوفَةِ بِدَءًا مِنَ النُّقْطَةِ السَّوَدَاءِ:



التَّمرينُ الثَّالِثُ:

1 - لَوِّنِ العَدَدَ المُناسِبَ لِكُلِّ تَفْكِيكٍ:

5 + 20 + 300			2 + 200			800 + 4 + 60		
325	352	523	200	202	220	684	486	864

2 - رَتِّبِ الأَعْدَادَ تَصاعِدِيًّا:

465 – 253 – 897 – 213 – 587 – 901



## التَّمرينُ الرَّابِعُ:

أجرِ العَمَلِيَّاتِ الآتِيَةَ:

$$\begin{array}{r} 3 \ 5 \ 8 \\ + \ 5 \ 3 \ 5 \\ \hline = \ . \ . \ . \end{array}$$

$$\begin{array}{r} 8 \ 6 \ 7 \\ + \ \ \ 2 \ 4 \\ \hline = \ . \ . \ . \end{array}$$

$$\begin{array}{r} 1 \ 3 \ 4 \\ + \ \ \ \ \ 8 \\ \hline = \ . \ . \ . \end{array}$$

$$\begin{array}{r} 3 \ 0 \ 8 \\ - \ 2 \ 0 \ 6 \\ \hline = \ . \ . \ . \end{array}$$

$$\begin{array}{r} 6 \ 7 \ 8 \\ - \ \ \ 7 \ 7 \\ \hline = \ . \ . \ . \end{array}$$

$$\begin{array}{r} 8 \ 9 \ 7 \\ - \ \ \ \ \ 6 \\ \hline = \ . \ . \ . \end{array}$$

## الوَضْعِيَّةُ الإِنْمَاجِيَّةُ:

يَمْلِكُ العَمُّ بَشِيرٌ فِي مَزْرَعَتِهِ 786 دَجَاجَةً ، بَاعَ لِجَارِهِ سَعِيدِ الْجَزَّارِ 321 دَجَاجَةً .

كَمْ دَجَاجَةً بَقِيَتْ عِنْدَ العَمِّ بَشِيرِ ؟