

## مادة التاريخ

قال الامام علي :الادب  
لا يباع و لا يشتري بل  
هو طابع في قلب كل  
من تربى فليس الفقير  
من فقد الذهب و انما  
الفقير من فقد الاخلاق  
و الادب

1/ ضع (ص) او (خ) امام كل عبارة :

- صنف العلماء المصادر التاريخية الى 3 انواع (.....)
- تينهينان هي ملكة قبائل الامازيغ (.....)
- النقوش و الرسوم من المصادر المادية (.....)
- من خلال دراسة المسكوكات نتعرف على ماذا كان يأكلون في الماضي (.....)
- الاثار المادية هي جميع المخلفات الاثرية للانسان (.....)
- تأسست مدينة جميلة في العهد الروماني (.....)
- يوجد بمدينة جميلة متحف (.....)
- الحمار الذهبي من المصادر اللامادية (.....)
- الحمار الذهبي تعتبر ثاني الروايات الامازيغية العالمية في تاريخ الانسانية (.....)

2/ اكمل الفراغات بما يناسب :

صنف العلماء المصادر التاريخية الى نوعين .المصادر المادية المتمثلة في.....و.....و.....  
و.....و المصادر اللامادية (الشفوية) المتمثلة في.....و.....و.....  
و.....

3/ صنف كل مصدر في خانته المناسبة :

الاسطورة - المخطوطات - القبور - المسكوكات - اللوحات الفنية - الروايات و القصص - العادات و التقاليد -  
الرسوم و النقوش - مدينة جميلة الاثرية - رواية الحمار الذهبي

مصادر مادية	مصادر لامادية

4/ اكمل الفراغات بما يناسب معتمدا على ما درست :

نوميديا هي مملكة.....كانت عاصمتها مدينة.....التي صارت تسمى الان.....و اشهر

5/ أجب عن الاسئلة التالية :

- الى كم مصدر صنف العلماء المصادر التاريخية ؟

اذكرها مع اعطاء أمثلة عن كل مصدر

- تحدث في فقرة قصيرة عن مدينة جميلة الاثرية متحدثا عن موقعها متى تأسست - وفي اي عهد و اذكر امثلة عن الآثار الموجودة فيها

6/ أكمل الفراغات بما يناسب معتمدا على ما درست :

مصدرا - حضاريا - الشعوب - تاريخ - العادات - احساس - المتعاقبة - الاسطورة

تشكل ..... و التقاليد موروثا ..... مهما للمجتمعات الإنسانية ..... وهي تختلف من مجتمع لآخر و بالتالي تمثل ..... من مصادر كتابة ..... الإنسانية و كذلك ..... فهي تمثل مادة ثرية للمؤرخ يستعين بها على فهم ..... و تطلعات ..... و المجتمعات.

7/ ضع (ص) او (خ) أمام كل عبارة :

- الحمار الذهبي رواية للأديب الجزائري الطاهر وطار (.....)
- تينهينان هي ملكة حكمت في القرن الخامس الميلادي (.....)
- عاصمة الملك سيفاقس تقع في نوميديا الغربية تسمى سيغا (.....)
- حكم ماسينيسا من سنة 203 ق.م الى 148 ق.م (.....)
- ترتبط كل حادثة تاريخية بمكان معين و زمان محدد (.....)
- الرقص التارقي ارث ثقافي من تراثنا (.....)
- تعتبر الرواية من المصادر المادية للمعلومات التاريخية (.....)
- تعد جميلة من اهم المدن الاثرية الجزائرية (.....)

8/ أجب عن الاسئلة التالية :

- ماذا نقصد بالآثار المادية ؟

- من هي تينهينان ؟

- أين تقع مدينة جميلة الاثرية و ماهي اهم المعالم الاثرية الموجودة فيها ؟

- ماذا تعرف عن نوميديا و عن ملكها ؟

9/ أربط كل جملة بما يناسبها :

- |   |                      |
|---|----------------------|
| ● تساعدنا على التعرف على اسم الملك و الدولة و صورته         | ● تينهينان           |
| ● مادة ثرية للمؤرخ يستعين بها على فهم احساس و تطلعات الشعوب | ● الحمار الذهبي      |
| ● تعد موروثا حضاريا مهما للمجتمعات                          | ● العادات و التقاليد |
| ● قصة للأديب الجزائري ابوليوس                               | ● الاسطورة تمثل      |
| ● ملكة قبائل التوارق  | ● المسكوكات          |

10/ ضع (ص) أو (خ) امام كل عبارة :

- نوميديا هي مملكة امازيغية حديثة (.....)
- عاصمة نوميديا هي هيبون عناية حاليا (.....)
- ماسينيسا هو ملك من ملوك نوميديا (.....)
- كانت سنوات حكم ماسينيسا فترة حرب و خراب و جمار (.....)
- حكم ماسينيسا من سنة 1250 الى 1295 ميلادي (.....)
- في عهد ماسينيسا ظهرت نوميديا الموحدة كأقوى ممالك المغرب القديم (.....)

11/ سطر الاجابة الصحيحة :

- تقع مدينة جميلة الاثرية على بعد 50 كلم من مدينة : جيجل - سطيف - قسنطينة
- للحفاظ على الاثار القديمة اقيم في مدينة جميلة : متحف - دار للسينما - مسجد

## من اعداد المعلمة :بوخشم مريم

- من ابرز المعالم الاثرية في مدينة جميلة :

- الرسوم الصخرية
- الحمامات و المسارح و المدرجات المنشآت الدينية
- المسكوكات
- الملكة تينهيانان : ملكة التوارق
- ملكة رومانية
- ملكة افريقية
- عاصمة نوميدا : - هيبون
- كالاما
- سيرتا

## 12/ صنف في الجدول الاحداث التالية :

ولد سنة 52ق.م / عاش في القرن 3 ق.م / ألف كتبا كثيرة منها تاريخ روما و تاريخ المسرح

- عرفت المملكة في عهده تطورا اقتصاديا هاما اذ صك عملة خاصة به

- حكم موريطانيا القيصرية مدة 50 سنة

- حكم نوميدا الغربية

الملك سيفاقس	يوبيا الثاني

## 13/ أربط كل جملة بما يناسبها :

- تشكل العادات و التقاليد
- نستعين بها على فهم احساس و تطلعات المجتمعات
- ان الاسطورة
- نتعرف على اسم ملك الدولة و صورته و اللغة المستعملة
- من خلال دراسة المسكوكات
- موروثا حضاريا مهما للمجتمعات الانسانية المتعاقبة

## 14/ ضع (ص) أو (خ) امام كل عبارة :

- الاثار المادية هي جميع المخلفات الاثرية للانسان التي تعود الى زمن قريب فقط (.....)
- النقوش و الرسوم الصخرية تعبر عن نمط حياة الانسان في الفترة التي ينتمي اليها (.....)
- تينهيانان هي ملكة قبائل التوارق بتمنراست (.....)
- حكمت تينهيانان في القرن العاشر الميلادي (.....)
- تمثل المخطوطات مصدرا هاما للحصول على معلومات مرحلة من المراحل التاريخية (.....)

## 15/ ضع كل كلمة في مكانها المناسب :

زمن - المادية - المخطوطات - النقوش - الحياة - الصخرية - الاثرية - التاريخية

## من اعداد المعلمة :بوخشم مريم

الاثار.....هي جميع المخلفات .....للإنسان سواء كانت تعود الى .....قريب او بعيد و هي بذلك تفيدنا  
في معرفة شكل .....في تلك الفترة و لذلك تعد مصدرا من مصادر المعلومات .....  
ومن المصادر المادية للمعلومات التاريخية نجد .....و الرسوم .....المسكوكات و.....

### 16/ شطب خاتمة الاجابة الخاطئة :

المسكوكات و المخطوطات هي من المصادر المادية للمعلومات التاريخية	النقوش و الرسوم تعتبر من المصادر اللامادية للمعلومات التاريخية
يتعرف الباحثون من خلال المسكوكات على اسم ملك الدولة و صورته	كالاما هي عاصمة نوميديا
تينهينان هي ملكة رومانية	تقع مدينة جميلة في مدينة سطيف و تاسست في العهد الفرنسي

### 17/ ضع (ص) او (خ) امام كل عبارة :

- في عهد الملك ماسينيسا ظهرت نوميديا الموحدة (.....)
- نوميديا مملكة مغاربية اقيمت في شرق افريقيا (.....)
- اشتهر سيفاقس بكثرة البحث و الاطلاع (.....)
- ألف يوبا الثاني كتبا كثيرة منها روما . فن الرسم (.....)
- لكل منطقة احداث تاريخية خاصة بها تميزها (.....)
- هيبون (عنابة حاليا ) عاصمة نوميديا (.....)
- الملك سيفاقس صك عملة خاصة به (.....)

### 18/ضع الكلمات التالية في المكان المناسب :

المسكوكات - الاسطورة - الاثار المادية

- .....نستعين بها على فهم احساس المجتمعات و تطلعاتها
- .....نتعرف بها على اسم ملك الدولة و اللغة المستعملة
- ..... هي جميع المخلفات الاثرية للإنسان

### 19/ اربط بين الملك و مملكته :

الملك سيفاقس	نوميديا
يوبا الثاني	نوميديا الغربية
الملك ماسينيسا	موريطانيا القيصرية

20/ اربط بين الاسم القديم للمدينة و الاسم الحالي :

- هيبون
- كالاما
- سيرتا
- يول
- شرشال
- قسنطينة
- عنابة
- قالمة

21/ اربط كل جملة بما يناسبها :

- حكم نوميديا الغربية
- اشتهر بكثرة البحث و الاطلاع
- حكم موريطانيا القيصرية
- الف كتب كثيرة
- هو اشهر ملوك نوميديا
- ظهرت نوميديا الموحدة
- عاش في القرن 3 ق.م
- صك عملة خاصة به
- كانت سنوات حكمه فترة سلم و امن
- عرفت المملكة في عهده التطور الاقتصادي
- الملك سيفاقس
- يوبا الثاني
- الملك ماسينيسا

أنار الله دربكم و  
وقفكم لما يرضاه و  
يحبه  
عطلة سعيدة أبنائي

1/ ضع (ص) أو (خ) امام كل عبارة :

- عدد السكان كبير في الريف (.....)
- لا يوجد اختلاف بين سكان الريف و سكان الريف في نمط العيش (.....)
- توجد المصانع في المدينة (.....)
- يمارس سكان المدن الفلاحة و تربية المواشي (.....)
- الزراعة التقليدية تكون ذات انتاج كثير و يكون موجه للأسواق (.....)
- ظهر نوعان من الزراعة :زراعة تقليدية و زراعة حديثة (.....)
- المدن هي تجمعات سكانية تضم عددا قليلا من السكان (.....)
- تتمركز في المدن و بالقرب منها أنشطة اقتصادية (.....)

لكل شيء آفة  
و آفة العلم النسيان

2/ صنف في الجدول :

الزراعة – المنازل متباعدة - الجامعات - بنايات عالية – التلوث – تجمع سكاني صغير – المصانع – خدمات النقل  
الصناعات التقليدية – منازل متقاربة – تكثر المحلات و المراكز التجارية – تكثر البساتين و المزارع – توجد الكثير  
من الشركات و وسائل المواصلات

في الريف	في المدينة

3/ ضع كل كلمة في مكانها المناسب :

موقع – انشطته – غير طبيعية – وسط – تؤثر – طبيعية – عناصر – الطرقات  
يعيش الانسان في ..... يعرف تغيرا مستمرا و هو متكون من .....متنوعة تؤثر على حياته و على  
طبيعة ..... التي بدورها ..... على هذه العناصر.  
يتشكل الوسط الذي يعيش فيه الانسان من مجموعة مكونات .....كالهواء و التربة و اخرى .....  
كالعمران و المنشآت و .....وهي عناصر تختلف في اجتماعها من .....لآخر.

3/ ضع(ص) او (خ) امام كل عبارة :

## من اعداد المعلمة :بوخشم مريم

- تختلف العناصر البيئية من منطقة الى اخرى (.....).
- نجد المساكن في الريف كثيرة و متقاربة و عالية (.....).
- الغابات و المزارع و الحقول هي عناصر من البيئة الريفية (.....).
- يمارس سكان الريف الزراعة و الحرف اليدوية (.....).
- عدد سكان الريف كبير (.....).
- يوجد في الريف الكثير من البنايات و المنشآت العمرانية (.....).

### 4/ شطب خانة الاجابة الخاطئة :

المدينة ذات عدد سكاني صغير	يمارس سكان المدينة الكثير من الانشطة
انشطة تجارية متنوعة موجودة في الريف	نجد المساكن في الريف متباعدة
يمارس سكان الريف بعض الصناعات التقليدية	تتكون البيئة التي نعيش فيها من عناصر عديدة و مختلفة
يمارس سكان المدينة الزراعة و الحرف اليدوية	الريف عبارة عن تجمع سكاني كبير

### 5/ ضع كل كلمة في مكانها المناسب :

- المدينة – متباعدة – الجوار – صغير – البنايات – كبير – القرابة – الطابع الفلاحي – الخدماتية
- الريف عبارة عن تجمع سكاني ..... يتراوح عدد سكانه بضع مئات او بضع الاف نسمة . تربط بينهم في الغالب علاقة ..... وهو ذو مساكن ..... و انشطة يغلب عليها ..... الى جانب بعض الحرف اليدوية و التقليدية.
- بينما يتميز ..... بأنها ذات عدد سكاني ..... تجمع بينهم اما علاقات ..... او تبادل للخدمات او السلع و تحتوي على كثير من ..... و المنشآت العمرانية المتنوعة و الانشطة ..... و الثقافية و الصناعية.

### 6/ أكمل ب : ( انتاج مادي ) او ( انتاج لا مادي )

- الصناعة ← ..... خدمات البريد ← ..... الفحص و العلاج ← .....  
تركيب السيارات ← ..... الزراعة ← ..... التعليم ← .....

### 7/ صنف في الجدول :

- تلوث الماء - تلوث الهواء - الرمي العشوائي للنفايات المنزلية - تفكك التربة بسبب الافراط في استغلالها  
استخراج الرمال من الانهار - عدم احترام قوانين الصحة



من اعداد المعلمة :بوخشم مريم

مظاهر التلوث في المدينة	مظاهر التلوث في الريف

8/ ضع (ص) أو (خ) امام كل عبارة :

- العمل يحقق السعادة و الكرامة للأفراد (.....)
- العمل يلبي حاجات الافراد و المجتمعات بمختلف السلع و الخدمات (.....)
- الاعتماد على النفس أفضل وسيلة للرفي و النجاح في الحياة (.....)
- بدأ الانسان حياته الاولى بالصناعة (.....)
- يصنف العمل الانتاجي الى 3 أصناف (.....)
- بناء المستشفيات يعتبر انتاج معنوي (.....)

9/ أجب عن الاسئلة التالية :

-يتأثر نشاط الانسان بالمحيط الذي يعيش فيه

اذكر بعض مميزات المدينة و الريف

المدينة : .....

الريف : .....

10/ ضع كل كلمة في مكانها المناسب :

بدأ الانسان حياته الاولى بجمع و التقاط ..... و عندما أصبحت الطبيعة لا تلبي حاجياته الغذائية مارس ..... التي ازدادت تطورا مع مر الوقت نتيجة لاحتياجاته ..... المتزايدة و حاجة ..... لبعض المنتجات الزراعية كمادة خام .

11/ ضع علامة (X) في المكان المناسب :

النشاط الاقتصادي	المدينة	الريف	انتاج مادي	انتاج لا مادي
الصناعة				
الزراعة				
الخدمات				

12/ ضع (ص) أو (خ) أمام كل عبارة :

- الافراط في استغلال الارض يزيدا خصوبة (.....)
- الافراط في استغلال الارض يساهم في تفككها (.....)

### من اعداد المعلمة :بوخشم مريم

- يؤدي العمل العشوائي في مجال البناء بالمدن الى احترام تقنيات و قوانين التعمير و الصحة (.....)
- الاراضي الزراعية هي الخزان الطبيعي لتوفير الغذاء للسكان (.....)
- ادت الحاجة المتزايدة للسكن الى التوسع العمراني على حساب الاراضي الزراعية (.....)

### 13/ صنف في الجدول :

تخرج الاساتذة و الاطباء من الجامعة – العدالة – صناعة السيارات – بناء المدارس- الشرطة – غرس الاشجار  
المثمرة – البريد و المواصلات – علاج المرضى في المستشفيات – بناء المساكن – التجارة

صنف مادي	صنف لا مادي

### 14/ أربط كل جملة بما يناسبها :

- تتميز المدينة بأنها
- تجمع بين سكان المدينة
- تحتوي المدينة على
- تجمع بين سكان الريف
- كثير من النباتات و المنشآت العمرانية المتنوعة
- ذات عدد سكاني كبير
- علاقات القرابة
- اما علاقات الجوار او تبادل للخدمات او البيع

### 15/صنف في الجدول :

الهواء – المصانع – العمران – الماء – التربة- الطرقات – الغابات – النهر – المسرح - الحشرات

عناصر طبيعية	عناصر غير طبيعية

### 16/ ضع (ص) او (خ) أمام كل عبارة :

- توجد ممرات و ارصفة خاصة للمعاقين في المدينة (.....)
- تضم المدينة مختلف الفئات الاجتماعية (.....)
- تجمع بين سكان المدينة علاقات القرابة (.....)
- تعتبر الحشرات من بين العناصر المكونة للنظام البيئي (.....)
- تساهم النحل في التلقيح الطبيعي للنباتات (.....)
- الانسان يعيش في وسط ثابت لا يتغير (.....)

- أذكر بعض مظاهر التلوث في الريف؟

.....

- اذكر بعض مظاهر التلوث في المدينة؟

.....

- اقتر حلولا لمشاكل البيئة في الريف و المدينة

.....

.....

- اذكر بعض الانشطة المضره بالبيئة الريفية

.....

- اذكر بعض الانشطة المضره بالبيئة في المدينة

.....

18/ اكمل الجدول التالي مبرزا اوجه الاختلاف و التشابه بين المدينة و الريف :

الريف	المدينة
عدد السكان.....	عدد السكان.....
بناياتها.....	بناياتها.....
نشاطات و عمل سكانها.....	نشاط و عمل سكانها.....
تربط بين سكانها علاقة.....	تربط بين سكانها علاقة.....

19/ اكمل بما يناسب :

-تكثر العناصر ..... في الريف مثل .....

- بنما تكثر العناصر ..... في المدينة مثل .....

20/ صنف في الجدول :

انتاج قليل – مساحات واسعة – انتاج وفير – لا يقتصر على موسم معين – انتاج موجه للسوق – يقتصر على موسم معين – مساحات صغيرة انتاج معاشي

الزراعة التقليدية	الزراعة الحديثة

الحل المقترح	المشكل البيئي
	تلوث الجو بسبب ادخنة السيارات
	ضعف مردود التربة بسبب الاستعمال المتكرر
	تلوث مياه الشرب
	القضاء على الاراضي الزراعية بسبب انشاء المصانع و البنائات فيها

22/ اربط كل مرفق بالريف او المدينة ثم بنشاطه الممارس فيه :

- التسوق
- الابداع الاموال و سحبيها
- السقي و الشرب
- القراءة و البحث و المطاعلة
- ممارسة الزراعة
- الابار المائية
- المكتبات
- الاراضي الفلاحية
- البنك
- المراكز التجارية
- المدينة
- الريف

أنار الله دربكم و

وقفكم لما يرضاه  
و يحبه

عطلة سعيدة  
أبنائي

حلول مادة  
التاريخ

1/ ضع (ص) او (خ) امام كل عبارة :

- صنف العلماء المصادر التاريخية الى 3 انواع (خ)
- تينهينان هي ملكة قبائل الامازيغ (خ)
- النقوش و الرسوم من المصادر المادية (ص)
- من خلال دراسة المسكوكات نتعرف على ماذا كان يأكلون في الماضي (خ)
- الاثار المادية هي جميع المخلفات الاثرية للانسان (ص)
- تأسست مدينة جميلة في العهد الروماني (ص)
- يوجد بمدينة جميلة متحف (ص)
- الحمار الذهبي من المصادر اللامادية (ص)
- الحمار الذهبي تعتبر ثاني الروايات الامازيغية العالمية في تاريخ الانسانية (خ)

2/ اكمل الفراغات بما يناسب :

صنف العلماء المصادر التاريخية الى نوعين . المصادر المادية المتمثلة في **المسكوكات** و **المخطوطات** و **الرسوم** .  
و **النقوش** و المصادر اللامادية (الشفوية) المتمثلة في **الاساطير** و **اللوحات الفنية** . و **العادات** و **التقاليد** .

3/ صنف كل مصدر في خانته المناسبة :

الاسطورة – المخطوطات – القبور – المسكوكات – اللوحات الفنية – الروايات و القصص – العادات و التقاليد –  
الرسوم و النقوش – مدينة جميلة الاثرية – رواية الحمار الذهبي

مصادر مادية	مصادر لامادية

4/ اكمل الفراغات بما يناسب معتمدا على ما درست :

نوميديا هي مملكة **مغربية** . كانت عاصمتها مدينة **سيرتا** التي صارت تسمى الان **قسنطينة** و اشهر  
ملوكها الملك **ماسينيسا** .

5/ اجب عن الاسئلة التالية :

- الى كم مصدر صنف العلماء المصادر التاريخية ؟

اذكرها مع اعطاء أمثلة عن كل مصدر

**صنف العلكاء مصادر المعلومات التاريخية الى صنفين : مصدر مادي مثل المسكوكات و القبور و المخطوطات و مصدر لامادي مثل الروايات و القصص و اللوحات الفنية .....**

- تحدث في فقرة قصيرة عن مدينة جميلة الاثرية متحدثا عن موقعها -متى تأسست - وفي اي عهد و اذكر امثلة عن الاثار الموجودة فيها

**تقع مدينة جميلة وهي مدينو كويكول الاثرية على بعد 50 كلم عن مدينة سطيف تاسست بين عامي 96 و 98 ميلادية في العهد الروماني ومن أبرز المعالم الاثرية الرومانية نجد الحمامات و المسارح و المنشآت الدينية و قد أقيم في مدينة جميلة متحف للحفاظ على الاثار القديمة .**

**16 أكمل الفراغات بما يناسب معتمدا على ما درست :**

مصدرا - حضاريا - الشعوب - تاريخ - العادات - احاسيس - المتعاقبة - الاسطورة

تشكل **العادات** و التقاليد موروثا **حضاريا** مهما للمجتمعات الإنسانية **المتعاقبة** وهي تختلف من مجتمع لآخر و بالتالي تمثل **مصدرا** . من مصادر كتابة **تاريخ** الانسانية و كذلك **الاسطورة** فهي تمثل مادة ثرية للمؤرخ يستعين بها على فهم **أحاسيس** . و تطلعات **الشعوب** و المجتمعات .

**17 ضع (ص) او (خ) أمام كل عبارة :**

- الحمار الذهبي رواية للأديب الجزائري الطاهر وطار ( خ )
- تينهيان هي ملكة حكمت في القرن الخامس الميلادي ( خ )
- عاصمة الملك سيفاقس تقع في نوميديا الغربية تسمى سيغا ( ص )
- حكم ماسينييسا من سنة 203 ق.م الى 148 ق.م ( ص )
- ترتبط كل حادثة تاريخية بمكان معين و زمان محدد ( ص )
- الرقص التارقي ارث ثقافي من تراثنا ( ص )
- تعتبر الرواية من المصادر المادية للمعلومات التاريخية ( خ ) .
- تعد جميلة من اهم المدن الاثرية الجزائرية (ص)

**18 أجب عن الاسئلة التالية :**

- ماذا نقصد بالآثار المادية ؟

**الآثار المادية هي جميع المخلفات الاثرية للانسان سواء كانت تعود الى زمن قريب او بعيد .**

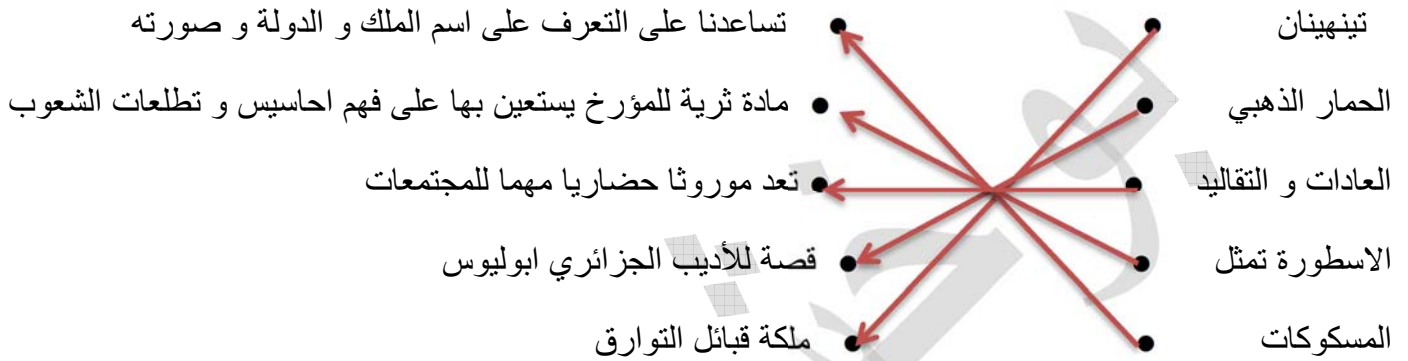
- من هي تينهيان ؟

تينهينات هي ملكة قبائل التوارق بتمنراست حكمت في القرن 5 الميلادي .

- ماذا تعرف عن نوميديا و عن ملكها ؟

نوميديا هي مملكة مغاربية قديمة عاصمتها سيرتا (قسنطينة حالي ) اشهر ملوكها ماسينيسا الذي حكمها من سنة 203 ق.م الى سنة 148 ق . م وكانت فترة حكمه فترة سلم و أمن لشعبه خاصة بعد توحيد النوميديتين(الشرقية و الغربية).

9/ أربط كل جملة بما يناسبها :



10/ ضع (ص) أو (خ) امام كل عبارة :

- نوميديا هي مملكة امازيغية حديثة (خ)
- عاصمة نوميديا هي هيبون عنابة حاليا (خ)
- ماسينيسا هو ملك من ملوك نوميديا (ص)
- كانت سنوات حكم ماسينيسا فترة حرب و خراب و جمار (خ)
- حكم ماسينيسا من سنة 1250 الى 1295 ميلادي(خ)
- في عهد ماسينيسا ظهرت نوميديا الموحدة كأقوى ممالك المغرب القديم (ص)

11/ سطر الاجابة الصحيحة :

- تقع مدينة جميلة الاثرية على بعد 50 كلم من مدينة : جيجل - سطيف - قسنطينة
- للحفاظ على الاثار القديمة اقيم في مدينة جميلة : متحف - دار للسينما - مسجد
- من ابرز المعالم الاثرية في مدينة جميلة :
- الرسوم الصخرية - الحمامات و المسارح و المدرجات المنشآت الدينية - المسكوكات
- الملكة تينهينان : ملكة التوارق - ملكة رومانية - ملكة افريقية
- عاصمة نوميديا : هيبون - كالاما - سيرتا

- ولد سنة 52ق.م / عاش في القرن 3 ق.م / ألف كتبا كثيرة منها تاريخ روما و تاريخ المسرح
- عرفت المملكة في عهده تطورا اقتصاديا هاما اذ صك عملة خاصة به
- حكم موريطانيا القيصرية مدة 50 سنة
- حكم نوميديا الغربية

الملك سيفاقس	يوبيا الثاني
-عاش في القرن 3 ق.م - عرفت المملكة في عهده تطورا اقتصاديا هاما اذ صك عملة خاصة به - حكم نوميديا الغربية	-ولد سنة 52ق.م - ألف كتبا كثيرة منها تاريخ روما و تاريخ المسرح - حكم موريطانيا القيصرية مدة 50 سنة

13/ أربط كل جملة بما يناسبها :

- تشكل العادات و التقاليد
- ان الاسطورة
- من خلال دراسة المسكوكات
- نستعين بها على فهم احساس و تطلعات المجتمعات
- نتعرف على اسم ملك الدولة و صورته و اللغة المستعملة
- موروثا حضاريا مهما للمجتمعات الانسانية المتعاقبة

14/ ضع (ص) أو (خ) امام كل عبارة :

- الاثار المادية هي جميع المخلفات الاثرية للانسان التي تعود الى زمن قريب فقط (خ)
- النقوش و الرسوم الصخرية تعبر عن نمط حياة الانسان في الفترة التي ينتمي اليها (ص)
- تينهينان هي ملكة قبائل التوارق بتمنراست (ص)
- حكمت تينهينان في القرن العاشر الميلادي (خ)
- تمثل المخطوطات مصدرا هاما للحصول على معلومات مرحلة من المراحل التاريخية (ص)

15/ ضع كل كلمة في مكانها المناسب :

- زمن - المادية - المخطوطات - النقوش - الحياة - الصخرية - الاثرية - التاريخية
- الاثار المادية هي جميع المخلفات الاثرية للانسان سواء كانت تعود الى زمن قريب او بعيد و هي بذلك تفيدنا في معرفة شكل الحياة في تلك الفترة و لذلك تعد مصدرا من مصادر المعلومات التاريخية .
- ومن المصادر المادية للمعلومات التاريخية نجد النقوش و الرسوم الصخرية و المسكوكات و المخطوطات



<del>الفوس و الرسم تعتبر من المصادر اللامادية للمعلومات التاريخية</del>	المسكوكات و المخطوطات هي من المصادر المادية للمعلومات التاريخية
<del>كالاما هي عاصمة نومديا</del>	يتعرف الباحثون من خلال المسكوكات على اسم ملك الدولة و صورته
<del>نفع مدينة جنياء في مدينة سطيف و تاسست في العهد الفرنسي</del>	<del>نيهينان هي ملكة رومانية</del>

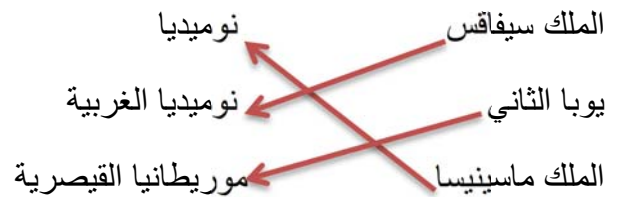
17/ ضع (ص) او (خ) امام كل عبارة :

- في عهد الملك ماسينيسا ظهرت نومديا الموحدة (ص)
- نومديا مملكة مغاربية اقيمت في شرق افريقيا (خ).
- اشتهر سيفاقس بكثرة البحث و الاطلاع (خ)
- ألف يوبا الثاني كتبا كثيرة منها روما . فن الرسم (ص)
- لكل منطقة احداث تاريخية خاصة بها تميزها (ص)
- هيبون (عنابة حاليا ) عاصمة نومديا (خ)
- الملك سيفاقس سك عملة خاصة به (ص)

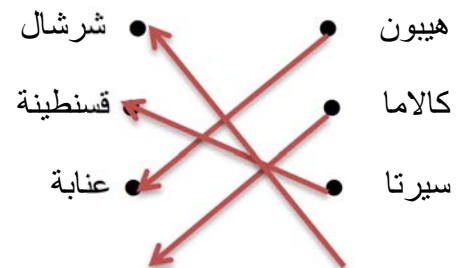
18/ضع الكلمات التالية في المكان المناسب : المسكوكات - الاسطورة - الاثار المادية

- الاسطورة** . نستعين بها على فهم احاسيس المجتمعات و تطلعاتها
- المسكوكات** نتعرف بها على اسم ملك الدولة و اللغة المستعملة
- الاثار المادية** هي جميع المخلفات الاثرية للإنسان

19/ اربط بين الملك و مملكته:



20/ اربط بين الاسم القديم للمدينة و الاسم الحالي :



21/ أربط كل جملة بما يناسبها :

- حكم نوميديا الغربية
  - اشتهر بكثرة البحث و الاطلاع
  - حكم موريطانيا القيصرية
  - الف كتب كثيرة
  - هو اشهر ملوك نوميديا
  - ظهرت نوميديا الموحدة
  - عاش في القرن 3 ق.م
  - صك عملة خاصة به
  - كانت سنوات حكمه فترة سلم و امن
  - عرفت المملكة في عهده التطور الاقتصادي
- الملك سيفاقس
- يوبا الثاني
- الملك ماسينيسا
-

## حلول مادة الجغرافيا

1/ ضع (ص) أو (خ) امام كل عبارة :

- عدد السكان كبير في الريف ( خ )
- لا يوجد اختلاف بين سكان الريف و سكان الريف في نمط العيش ( خ )
- توجد المصانع في المدينة ( ص )
- يمارس سكان المدن الفلاحة و تربية المواشي ( ص )
- الزراعة التقليدية تكون ذات انتاج كثير و يكون موجه للأسواق ( خ )
- ظهر نوعان من الزراعة :زراعة تقليدية و زراعة حديثة ( ص )
- المدن هي تجمعات سكانية تضم عددا قليلا من السكان ( خ )
- تتمركز في المدن و بالقرب منها أنشطة اقتصادية (ص)

2/ صنف في الجدول :

الزراعة – المنازل متباعدة - الجامعات - بنايات عالية – التلوث – تجمع سكاني صغير – المصانع – خدمات النقل  
الصناعات التقليدية – منازل متقاربة – تكثر المحلات و المراكز التجارية – تكثر البساتين و المزارع – توجد الكثير  
من الشركات و وسائل المواصلات

في الريف	في المدينة
الزراعة – المنازل المتباعدة – تجمع سكاني صغير –الصناعات التقليدية – تكثر البساتين و المزارع	الجامعات – بنايات عالية – التلوث – المصانع – خدمات النقل – منازل متقاربة – تكثر المحلات و المراكز التجارية – توجد الكثير من الشركات و وسائل المواصلات

3/ ضع كل كلمة في مكانها المناسب :

موقع – انشطته – غير طبيعية – وسط – تؤثر – طبيعية – عناصر – الطرقات

يعيش الانسان في **وسط** يعرف تغيرا مستمرا و هو متكون من **عناصر** متنوعة تؤثر على حياته و على طبيعة **انشطته** التي بدورها **تؤثر** على هذه العناصر.

يتشكل الوسط الذي يعيش فيه الانسان من مجموعة مكونات **طبيعية** كالهواء و التربة و اخرى **غير طبيعية** .

### من اعداد المعلمة :بوخشم مريم

كالعمران و المنشآت و **الطرق** .وهي عناصر تختلف في اجتماعها من **موقع** لأخر.

3/ ضع (ص) او (خ) امام كل عبارة :

- تختلف العناصر البيئية من منطقة الى اخرى (ص)
- نجد المساكن في الريف كثيرة و متقاربة و عالية (خ)
- الغابات و المزارع و الحقول هي عناصر من البيئة الريفية (ص)
- يمارس سكان الريف الزراعة و الحرف اليدوية (ص)
- عدد سكان الريف كبير (خ)
- يوجد في الريف الكثير من البنايات و المنشآت العمرانية (خ).

4/ شطب خانة الاجابة الخاطئة :

<del>المدينة ذات عدد سكاني صغير</del>	يمارس سكان المدينة الكثير من الانشطة
<del>انشطة تجارية متنوعة موجودة في الريف</del>	نجد المساكن في الريف متباعدة
يمارس سكان الريف بعض الصناعات التقليدية	تتكون البيئة التي نعيش فيها من عناصر عديدة و مختلفة
<del>يمارس سكان المدينة الزراعة و الحرف اليدوية</del>	<del>الريف عبارة عن تجمع سكاني كبير</del>

5/ ضع كل كلمة في مكانها المناسب :

المدينة - متباعدة - الجوار - صغير - البنايات - كبير - القرابة - الطابع الفلاحي - الخدماتية

- الريف عبارة عن تجمع سكاني **صغير** . يتراوح عدد سكانه بضع مئات او بضع الاف نسمة . تربط بينهم في الغالب علاقة **القرابة** و هو ذو مساكن **متباعدة** و انشطة يغلب عليها **الطابع الفلاحي** الى جانب بعض الحرف اليدوية و التقليدية.

- بينما يتميز **المدينة** بأنها ذات عدد سكاني **كبير** تجمع بينهم اما علاقات **الجوار** او تبادل للخدمات او السلع و تحتوي على كثير من **البنايات** و المنشآت العمرانية المتنوعة و الانشطة **الخدماتية** . و الثقافية و الصناعية.

6/ أكمل ب : ( انتاج مادي ) او ( انتاج لا مادي )

الصناعة ← **انتاج مادي** خدمات البريد ← **انتاج لا مادي** الفحص و العلاج ← **انتاج لا مادي** .

تركيب السيارات ← **انتاج مادي** الزراعة ← **انتاج مادي** التعليم ← **انتاج لا مادي** .

7/ صنف في الجدول :

تلوث الماء - تلوث الهواء - الرمي العشوائي للنفايات المنزلية - تفكك التربة بسبب الافراط في استغلالها

مظاهر التلوث في المدينة	مظاهر التلوث في الريف
تلوث الهواء - الرمي العشوائي للنفايات المنزلية - عدم احترام قوانين الصحة	تلوث الماء - تفكك التربة بسبب الافراط في استغلالها استخراج الرمال من الانهار- الرمي العشوائي للنفايات

8/ ضع (ص) أو (خ) امام كل عبارة :

- العمل يحقق السعادة و الكرامة للأفراد (ص)
- العمل يلبي حاجات الافراد و المجتمعات بمختلف السلع و الخدمات (ص)
- الاعتماد على النفس أفضل وسيلة للرفي و النجاح في الحياة (ص)
- بدأ الانسان حياته الاولى بالصناعة (خ)
- يصنف العمل الانتاجي الى 3 أصناف (خ)
- بناء المستشفيات يعتبر انتاج معنوي (ص)

9/ أجب عن الاسئلة التالية :

-يتأثر نشاط الانسان بالمحيط الذي يعيش فيه

اذكر بعض مميزات المدينة و الريف

المدينة: المدينة تجمع سكاني كبير كثير السكان تجمع بينهم علاقة الدوار و هي ذو منشآت عمرانية متنوعة و يمارس فيها أنشطة صناعية و تجارية و خدماتية و ثقافية.

الريف: تجمع سكاني صغير قليل السكان تجمع بينهم علاقة القرابة و هو ذو مساكن متباعدة و يمارس سكانها الزراعة و تربية الحيوانات و الصناعات التقليدية.

10/ ضع كل كلمة في مكانها المناسب :

بدأ الانسان حياته الاولى بجمع و التقاط قوته. و عندما أصبحت الطبيعة لا تلبى حاجياته الغذائية مارس الزراعة التي ازدادت تطورا مع مر الوقت نتيجة لاحتياجاته الغذائية المتزايدة و حاجة الصناعة لبعض المنتوجات الزراعية كمادة خام .

11/ ضع علامة (X) في المكان المناسب :

النشاط الاقتصادي	المدينة	الريف	انتاج مادي	انتاج لا مادي
الصناعة	X		X	
الزراعة		X	X	
الخدمات	X			X

- الافراط في استغلال الارض يزيددها خصوبة ( خ )
- الافراط في استغلال الارض يساهم في تفككها ( ص )
- يؤدي العمل العشوائي في مجال البناء بالمدن الى احترام تقنيات و قوانين التعمير و الصحة ( خ )
- الاراضي الزراعية هي الخزان الطبيعي لتوفير الغذاء للسكان ( ص )
- ادت الحاجة المتزايدة للسكن الى التوسع العمراني على حساب الاراضي الزراعية ( ص )

13/ صنف في الجدول :

تخرج الاساتذة و الاطباء من الجامعة - العدالة - صناعة السيارات - بناء المدارس- الشرطة - غرس الاشجار المثمرة - البريد و المواصلات - علاج المرضى في المستشفيات - بناء المساكن - التجارة

صنف لا مادي	صنف مادي
تخرج الاساتذة و الاطباء من الجامعة - العدالة - بناء المدارس- الشرطة - البريد والمواصلات - علاج المرضى في المستشفيات	صناعة السيارات - غرس الاشجار المثمرة - التجارة

14/ أربط كل جملة بما يناسبها :

- تتميز المدينة بأنها
- تجمع بين سكان المدينة
- تحتوي المدينة على
- تجمع بين سكان الريف
- كثير من النباتات و المنشآت العمرانية المتنوعة
- ذات عدد سكاني كبير
- علاقات القرابة
- اما علاقات الجوار او تبادل للخدمات او البيع

15/ صنف في الجدول :

الهواء - المصانع - العمران - الماء - التربة- الطرقات - الغابات

عناصر طبيعية	عناصر غير طبيعية
الهواء - الماء - التربة - الغابات	المصانع - العمران - الطرقات

16/ ضع (ص) أو (خ) أمام كل عبارة :

- توجد ممرات و ارصفة خاصة للمعاقين في المدينة ( ص )
- تضم المدينة مختلف الفئات الاجتماعية ( ص )

- تجمع بين سكان المدينة علاقات القرابة (خ)

- تعتبر الحشرات من بين العناصر المكونة للنظام البيئي (ص)

- تساهم النحل في التلقيح الطبيعي للنباتات (ص)

- الانسان يعيش في وسط ثابت لا يتغير (خ)

17/ أجب عن الاسئلة التالية :

- أذكر بعض مظاهر التلوث في الريف؟

تلوث الاودية و الانهار – تلوث التربة و المياه الجوفية بسبب استخدام الاسمدة – تلوث البيئة بسبب رمي النفايات .

- اذكر بعض مظاهر التلوث في المدينة ؟

تلوث الهواء بسبب دخان السيارات – تلوث البيئة بسبب الرمي العشوائي للنفايات – تلوث البحار و الشواطئ .

- اقترح حلول لمشاكل البيئة في الريف و المدينة

اقتراحات لحماية البيئة في الريف :- استخدام الاسمدة بعقلانية – البناء في المناطق غير الصالحة للزراعة – تخصيص أماكن لرمي النفايات

- اقتراحات لحماية البيئة في المدينة : - غرس الاشجار في المدينة – المساهمة في تنظيف الحي و وضع النفايات في اكياس مغلقة و اخراجها في الوقت المحدد .

- اذكر بعض الانشطة المضرة بالبيئة الريفية

الافراط في استغلال الاراضي – استعمال الاسمدة بكثرة – الرعي المفرط – القطع العشوائي للأشجار – البناء في الاراضي الزراعية الخصبة .

- اذكر بعض الانشطة المضرة بالبيئة في المدينة

البناء العشوائي للبيوت كالببوت القصديرية – عدم احترام تقنيات و قوانين التعمير و الصحة – الرمي العشوائي للنفايات في كل مكان – رمي النفايات في الشاطئ و في البحر .

18/ اكمل الجدول التالي مبرزاً اوجه الاختلاف و التشابه بين المدينة و الريف :

الريف	المدينة
عدد السكان قليل	عدد السكان كثير .
بناياتها تحتوي على القليل من البنايات و تكون متباعدة .	بناياتها تحتوي على الكثير من البنايات العالية و المنشآت العمرانية .
نشاطات و عمل سكانها زراعة – فلاحية – حرف يدوية	نشاط و عمل سكانها تجارة و الصناعة .
ترابط بين سكانها علاقة القرابة .	ترابط بين سكانها علاقة الجوار .

19/ اكمل بما يناسب :

-تكثر العناصر الطبيعية .في الريف مثل الهواء – التربة - الماء.

من اعداد المعلمة :بوخشم مريم

- بينما تكثر العناصر . غير الطبيعية في المدينة مثل المصانع - العمران ....

20/ صنف في الجدول :

انتاج قليل - مساحات واسعة - انتاج وفير - لا يقتصر على موسم معين - انتاج موجه للسوق - يقتصر على موسم معين - مساحات صغيرة انتاج معاشي

الزراعة التقليدية	الزراعة الحديثة
انتاج قليل - يقتصر على موسم معين - مساحات صغيرة و انتاج معاشي	مساحات واسعة - انتاج وفير - لا يقتصر على موسم معين - انتاج موجه للسوق -

21/ اقترح حلا لهذه المشاكل :

المشكلة البيئية	الحل المقترح
تلوث الجو بسبب ادخنة السيارات	الاعتماد على مركبات النقل الجماعي التي تستعمل الطاقة الكهربائية مثل القطارات و الميترو و استعمال الطاقة الشمسية
ضعف مردود التربة بسبب الاستعمال المتكرر	التناوب في استعمال الزراعة و استعمال الاسمدة الطبيعية و الصناعية بعقلانية
تلوث مياه الشرب	استعمال التقنيات الحديثة في تحلية المياه و تصفيتها
القضاء على الاراضي الزراعية بسبب انشاء المصانع و البنايات فيها	الاعتماد على البناء العمودي (العمارات ) و اختيار اماكن غير صالحة للزراعة

22/ اربط كل مرفق بالريف او المدينة ثم بنشاطه الممارس فيه :

